



کتاب فیزیک دوازدهم

یک خلاصه از فیزیک دوازدهم

(نویسنده: Sayarizadeh)

به همراه امتحان نهایی های فیزیک دوازدهم با پاسخ

جمع آوری شده توسط گروه آموزشی مهندس علی عاقلی

فصل اول: حرکت بر خط راست

بردار مکان: برداری است که مبدا مختصات را به مکان نهایی متحرک وصل می‌کند. (مثال r_1 و r_2)

بردار جابجایی: برداری است که مکان اولیه را به مکان نهایی متصل می‌کند. (Δr)

تندی متوسط و سرعت متوسط: تندی متوسط و سرعت متوسط دونده به صورت زیر تعریف می‌شوند و تندی متوسط، کمیتی نرده ای و

سرعت متوسط، کمیتی برداری است. $\vec{v}_{av} = \frac{\vec{d}}{\Delta t}$ سرعت متوسط $s_{av} = \frac{l}{\Delta t}$ تندی متوسط

تعیین سرعت متوسط به کمک نمودار مکان زمان: سرعت متوسط متحرک بین دو لحظه از زمان برابر شیب پاره خطی است که نقاط

نظیر آن دو لحظه در نمودار مکان زمان را به یکدیگر وصل می‌کند

$$\left. \begin{aligned} v_{av} &= \frac{x_2 - x_1}{t_2 - t_1} = \frac{\Delta x}{\Delta t} \\ \tan \theta &= \frac{\Delta x}{\Delta t} \end{aligned} \right\} \Rightarrow v_{av} = \tan \theta$$

شتاب متوسط و شتاب لحظه‌ای: شتاب متوسط برابر نسبت تغییر سرعت به بازه زمانی است که شتاب متوسط را با

\bar{a} نشان می‌دهند.

$$\bar{a} = \frac{\Delta V}{\Delta t} = \frac{V_2 - V_1}{t_2 - t_1}$$

❖ شتاب متوسط متوسط بین دونقطه از نمودار سرعت- زمان برابر است با شیب خطی که آن دونقطه را به هم

$$\left. \begin{aligned} a_{av} &= \frac{v_2 - v_1}{t_2 - t_1} = \frac{\Delta v}{\Delta t} \\ \tan \theta &= \frac{\Delta v}{\Delta t} \end{aligned} \right\} \Rightarrow a_{av} = \tan \theta$$

وصل می‌کند.

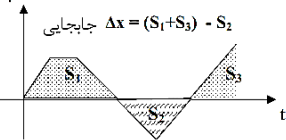
❖ **شتاب لحظه‌ای** شتابی است، که متحرک در هر لحظه دارد. و شتاب لحظه‌ای شیب نمودار سرعت زمان در هر لحظه است.

حرکت یکنواخت بر خط راست: حرکتی است که در آن همواره سرعت متحرک دارای اندازه و جهت ثابت باشد. شیب نمودار مکان زمان چنین حرکتی که همان سرعت

است، همواره ثابت خواهد بود. در این نوع حرکت سرعت متوسط با سرعت لحظه ای برابر است. یعنی: $v_{av} = v$ معادله حرکت با سرعت ثابت به صورت زیر به دست می‌آید:

$$\Rightarrow x = vt + x_0$$

v مسافت طی شده = $S_1 + S_2 + S_3$



❖ مساحت زیر سطح نمودار سرعت-زمان، برابر جابجایی است. مثلا در نمودار نسبتا پیچیده‌ی شکل زیر، برای محاسبه‌ی جابجایی

مساحت‌های S_1 و S_3 را با هم جمع و نتیجه را منهای S_2 می‌کنیم زیرا مساحت S_2 زیر محور و منفی است.

❖ شرط رسیدن دو متحرک به هم، در یک مسیر مستقیم الخط با یک اختلاف زمانی، این است که $X_A = X_B$ باشد.

حرکت بر خط راست با شتاب ثابت: اگر در حرکت در مسیر مستقیم شتاب در لحظه‌های مختلف یکسان باشد، آن را حرکت با شتاب

ثابت در مسیر مستقیم می‌نامیم. در این حالت شتاب لحظه‌ای و شتاب متوسط با هم برابرند. (یعنی $a_{av} = a$)

رابطه‌های اصلی در حرکت شتابدار با شتاب ثابت

$V = at + V_o$	$\Delta V = at$	معادله سرعت- زمان
$x = \frac{1}{2}at^2 + V_o t + x_o$	$\Delta x = \frac{1}{2}at^2 + V_o t$	معادله مکان- زمان
$x = \left(\frac{V_o + V}{2}\right)t + x_o$	$\Delta x = \left(\frac{V_o + V}{2}\right)t$	معادله مستقل از شتاب
$V^2 - V_o^2 = 2a(x - x_o)$	$V^2 - V_o^2 = 2a\Delta x$	معادله مستقل از زمان

❖ معادله‌ی مکان- زمان در حرکت شتابدار با شتاب ثابت از درجه ۲ است، لذا نمودار آن یک سهمی است. اگر انحناء (تقعر) این سهمی روبه بالا باشد، شتاب مثبت و اگر

انحناء (تقعر) این سهمی روبه پایین باشد، شتاب منفی است.

❖ **حرکت تند شونده، حرکت کند شونده:** اگر در حرکت با شتاب ثابت شیب نمودار مکان- زمان در هر لحظه زیاد شود، حرکت تند شونده است و اگر شیب نمودار در هر

لحظه کم شود، حرکت کند شونده خواهد بود. در حالت کلی نتیجه می‌شود که اگر شتاب و سرعت در یک حرکت هم علامت باشند، آن حرکت تند شونده خواهد بود و

اگر شتاب و سرعت در یک حرکت غیر هم علامت باشند، آن حرکت کند شونده خواهد بود. یعنی:

$$a \times v < 0 \rightarrow \text{حرکت کند شونده}$$

$$a \times v > 0 \rightarrow \text{حرکت تند شونده}$$

فصل دوم: دینامیک و حرکت دایره‌ای

دینامیک: علمی است با در نظر گرفتن نیرو به بررسی حرکت می‌پردازد.

توصیف نیرو: عاملی است که باعث تغییر وضعیت حرکت جسم می‌شود یعنی وقتی به یک جسم نیرو وارد می‌شود سرعت و یا شکل جسم تغییر می‌کند. (برهم کنش (تاثیر)

دو جسم بر یکدیگر را نیرو نامند.) (نیرو دارای اندازه و جهت است، بنابراین یک کمیت برداری است.)

قانون اول نیوتن (قانون لختی): یک جسم حالت سکون و یا حرکت یکنواخت روی خط راست خود را حفظ می‌کند، مگر آنکه تحت تاثیر نیرویی مجبور به تغییر آن حالت

شود. **یا:** هرگاه بر جسمی نیرو وارد نشود (یا برآیند نیروهای وارد بر آن صفر شود) جسم اگر ساکن باشد همچنان ساکن می‌ماند و اگر دارای حرکت باشد به حرکت خود با

سرعت ثابت ادامه می‌دهد.

لختی یا اینرسی: مقاومت اجسام در مقابل تغییر حرکت و سرعت را لختی یا اینرسی می‌نامند. این اصل مطابق با قانون اول نیوتن است. به همین علت قانون اول نیوتن درباره حرکت را قانون لختی نیز می‌نامند **یا:** تمایل اجسام برای حفظ حالت سکون یا حرکت یکنواخت روی خط راست، را لختی می‌گوییم.

قانون دوم نیوتن: اگر به یک جسم نیروهایی وارد شود، شتابی می‌گیرد که با برابری نیروهای وارد بر جسم (نیروی خالص وارد بر جسم) نسبت مستقیم دارد و با آن هم جهت

$$\vec{a} = \frac{\vec{F}_{net}}{m} \Rightarrow \vec{F}_{net} = m\vec{a}$$

است و با جرم جسم نسبت وارون دارد یعنی:

❖ **تکانه (اندازه حرکت):** حاصل ضرب جرم جسم در سرعت آن، تکانه نام دارد و آن را با \vec{p} نشان می‌دهیم، که کمیتی برداری است. یکای تکانه در SI، $N \cdot s$ یا $\frac{kg \cdot m}{s}$

$$\vec{p} = m\vec{v}$$

است.

❖ قانون دوم نیوتن برحسب تکانه برای نیروی ثابت به صورت روبرو است:

$$\vec{F}_{net} = \frac{\Delta \vec{p}}{\Delta t}$$

❖ یعنی نیروی خالص وارد بر جسم برابر با تغییر تکانه جسم تقسیم بر زمان تغییر آن است. همچنین از این رابطه نتیجه می‌گیریم که تغییر تکانه برابر با حاصل ضرب نیرو

$$\Delta \vec{p} = \vec{F}_{net} \Delta t$$

در مدت زمان تأثیر آن است.

❖ برای بازه زمانی بزرگ به جای نیروی خالص باید نیروی متوسط در فاصله زمانی مورد نظر را به کار برد. یعنی: $\vec{F}_{av} = \frac{\Delta \vec{p}}{\Delta t}$

❖ تغییر تکانه یک جسم را می‌توان از سطح زیر نمودار نیرو زمان نیز به دست آورد. $\Delta \vec{p} = \vec{F}_{av} \Delta t$

قانون سوم نیوتن: هرگاه جسمی به جسم دیگر نیرو وارد کند، جسم دوم هم به جسم اول نیرویی هم اندازه‌ی آن ولی در خلاف جهت وارد می‌کند. نیرویی که جسم اول وارد می‌کند (کنش) و نیرویی که جسم دوم وارد می‌کند (واکنش) نامیده می‌شوند. این دو نیرو همواره هم اندازه هم راستا و در سوی مخالف یکدیگرند و هر یک بر جسم دیگر وارد می‌شود. **یا:** برای هر عملی، عکس العملی است مساوی با آن ولی در جهت مختلف

$$\vec{w} = m\vec{g}$$

نیروی وزن: وزن یک جسم روی زمین، نیروی گرانشی است که از طرف زمین بر جسم وارد می‌شود.

جهت وزن و در نتیجه شتاب گرانشی همواره به طرف زمین (مرکز زمین) است. جرم یک جسم در مکان‌های مختلف ثابت است، اما وزن آن به مقدار g در آن مکان بستگی دارد. شتاب جاذبه (g) در سطح زمین تقریباً 9.8 N/kg است.

نیروی مقاومت شاره: وقتی جسمی در یک شاره (مایع یا گاز) قرار دارد و نسبت به آن حرکت می‌کند از طرف شاره نیرویی در خلاف جهت حرکت جسم، به آن وارد می‌شود که به آن **نیروی مقاومت شاره** می‌گویند. ویژگی‌ها: (۱) نیروی مقاومت شاره به بزرگی جسم، تندی آن و ... بستگی دارد. (۲) هر چه تندی جسم بیشتر باشد، نیروی مقاومت شاره بیشتر خواهد شد. (۳) اگر جسم در هوا حرکت کند، به این نیرو، نیروی مقاومت هوا می‌گویند.

نیروی عمودی سطح (نیروی عمودی تکیه‌گاه): نیروی عمودی سطح ناشی از تغییر شکل سطح تماس دو جسم است و با F_N نشان داده می‌شود. برای جسم روی سطح افقی $F_N = W$ است مگر آنکه نیروی دیگری، عمود بر سطح وجود داشته باشد.

نیروی اصطکاک: وقتی تلاش می‌کنیم جسمی را روی سطحی به حرکت درآوریم، چه جسم حرکت کند و چه ساکن بماند، با مقاومتی روبرو می‌شویم که به آن نیروی اصطکاک گویند. این نیرو در خلاف جهت حرکت بر جسم وارد می‌شود و از نیروهای الکترومغناطیسی بین اتم‌ها ناشی می‌شود. نیروی اصطکاک بین دو جسم به جنس سطح دو جسم، و زبری و نرمی آنها و ... بستگی دارد. **نیروی اصطکاک بر دو نوع است:** ۱- نیروی اصطکاک ایستایی: در این حالت جسم نسبت به سطحی که بر آن قرار دارد، کشیده شده اما ساکن می‌ماند. ۲- نیروی اصطکاک جنبشی (لغزشی): در این حالت جسم نسبت به سطحی که بر آن قرار دارد در حرکت است.

❖ نیروی اصطکاک ایستایی دارای حداکثری است که با $f_{s,max}$ نشان می‌دهیم و به آن **نیروی اصطکاک ایستایی در آستانه حرکت** گفته می‌شود. اگر نیروی F بزرگتر از $f_{s,max}$ باشد جسم شروع به حرکت می‌کند. اصطکاک ایستایی حرکت از رابطه روبرو به دست می‌آید.

$$f_{s,max} = \mu_s F_N$$

❖ ضریب اصطکاک ایستایی است و بستگی به جنس سطح تماس (زبری، صافی و ...) رطوبت محیط و ... دارد و چون یک مقدار ثابت است واحد ندارد.

نیروی اصطکاک جنبشی: وقتی جسمی روی سطحی می‌لغزد از طرف سطح بر جسم، نیروی اصطکاک جنبشی وارد می‌شود که موازی با سطح و در خلاف جهت لغزش جسم است. آزمایش نشان می‌دهد که اندازه نیروی اصطکاک جنبشی متناسب با اندازه نیروی عمودی سطح است.

$$f_k = \mu_k F_N$$

که در آن F_N نیروی عمودی سطح و μ_k ضریب اصطکاک جنبشی است. ضریب اصطکاک جنبشی مانند ضریب اصطکاک ایستایی به عامل‌هایی مانند جنس سطح تماس دو جسم، میزان صافی و زبری آنها و ... بستگی دارد و بدون واحد است.

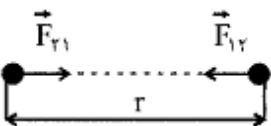
❖ μ_s همواره از μ_k بزرگتر است لذا نیروی اصطکاک ایستایی از جنبشی بیشتر است. ($\mu_s > \mu_k$)

نیروی کشسانی (قانون هوک): اگر فنری را تحت اثر نیروی کشش یا فشارنده‌ی F از حالت عادی خود خارج کنیم، فنر نیرویی در خلاف جهت تراکم یا کشیده شدن وارد می‌کند این نیرو را نیروی کشسانی یا نیروی بازگرداننده‌ی فنر می‌نامند. (نیروی F_e)

$$F_e = k\Delta l$$

که Δl تغییر طول فنر، l_0 طول اولیه فنر، l طول فنر در اثر نیروی F است. k ثابت فنر و از مشخصه‌های فنر است که ضریب سختی فنر نیز نامیده می‌شود. ثابت فنر به اندازه، شکل و ساختار ماده‌ای که فنر از آن ساخته شده بستگی دارد و واحد آن N/m است.

نیروی گرانشی: نیروی گرانشی میان دو ذره با حاصل ضرب جرم دو ذره نسبت مستقیم و با مربع فاصله آنها از یکدیگر نسبت وارون دارد.



$$F = G \frac{m_1 m_2}{r^2}$$

(نیروی گرانشی بین دو ذره)

که در آن: m_1 : جرم جسم ۱، m_2 : جرم جسم ۲، r : فاصله بین دو جسم، F : نیرو، G : ثابت جهانی گرانش

❖ ثابت جهانی گرانش است که مقدار آن $G = 6/67 \times 10^{-11} \frac{N \cdot m^2}{kg^2}$ است که مقداری بسیار کوچک می‌باشد. بنابراین نیروی گرانشی میان جسم‌های با جرم‌های کوچک قابل ملاحظه نیست.

❖ دو جرم همواره یکدیگر را می‌ربایند. به عبارت دیگر نیروی گرانشی از نوع رانشی (دافعه) نیست.

چند نکته برای حل مسائل دینامیکی:

- ۱- ابتدا جسم را مشخص کرده و شکل ساده‌ای برای آن رسم می‌کنیم.
- ۲- نیروهایی که از طرف محیط به جسم وارد می‌شود مشخص (تعیین جهت و راستا) می‌کنیم. (دیگرام آزاد)
- ۳- دستگاه مختصاتی مناسب مشخص می‌کنیم. (جهت حرکت یا میل به حرکت، جهت + یکی از محورها است).
- ۴- با استفاده از قانون دوم نیوتن، شتاب حرکت یا مجهول دیگر مسأله را به دست می‌آوریم.

فصل سوم: نوسان و امواج

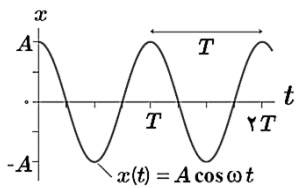
نوسان دوره‌ای: حرکتی است که متحرک، پس از طی زمان معینی، به وضعیت اولیه برگشته و حرکت خود را از نو، آغاز می‌کند. مانند حرکت منظم قلب، حرکت تاب، حرکت زمین به دور خورشید و ...

حرکت هماهنگ ساده: به نوسان‌های سینوسی، حرکت هماهنگ ساده (SHM) گفته می‌شود. در این حرکت، متحرک، روی یک پاره خط، حول نقطه‌ی تعادلی واقع در وسط پاره خط، حرکت رفت و برگشت، انجام می‌دهد. دو نمونه از حرکت هماهنگ ساده، عبارت از: (۱) حرکت آونگ، وقتی که، زاویه‌ی α خیلی کوچک باشد، (۲) حرکت نوسانی وزنه‌ی متصل به فنر.

دوره تناوب: در حرکت هماهنگ ساده، مدت زمانی که جسم، یک بار رفت و برگشت را انجام می‌دهد، دوره‌ی حرکت نامیده و آن را با T نشان می‌دهیم و واحد آن، ثانیه است **پسامد:** در حرکت هماهنگ ساده، تعداد رفت و برگشت‌ها، در مدت ۱ ثانیه، پسامد حرکت است. (توجه کنید که در حرکت دایره‌ای، پسامد، تعداد دورهای کامل در ۱ ثانیه بود).

پسامد را با f نشان می‌دهیم و واحد آن هرتز است. داریم: $T = \frac{1}{f}$ یا $f = \frac{1}{T}$

تعداد نوسانات در مدت زمان t ثانیه (N) برابر است با $N = ft = \frac{t}{T}$

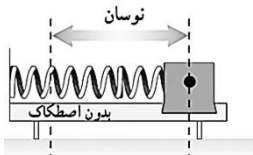


دامنه‌ی نوسان: در حرکت هماهنگ ساده، بیشترین فاصله‌ی نوسان‌گر از نقطه‌ی تعادل را دامنه‌ی حرکت نامیده و آن را با A نشان می‌دهیم و واحد آن متر می‌باشد.

(معادله مکان زمان در حرکت هماهنگ ساده) $x(t) = A \cos \omega t$

ω پسامد زاویه‌ای و برابر $\omega = \frac{2\pi}{T} = 2\pi f$ است. یکای پسامد زاویه ای در SI، rad/s است.

وقتی نوسانگر در $x = \pm A$ است، سرعت آن برابر با صفر است به این نقطه‌ها اصطلاحاً نقطه‌های بازگشت حرکت می‌گویند. وقتی $x = 0$ است (یعنی نوسانگر از نقطه تعادل می‌گذرد) اندازه سرعت بیشینه است.



سامانه جرم فنر: دوره تناوب T ، پسامد f و پسامد زاویه‌ای ω برای هر سامانه جرم فنر، برابر است با:

$$\omega = \sqrt{\frac{k}{m}} \quad \text{و} \quad f = \frac{1}{2\pi} \sqrt{\frac{k}{m}}, \quad T = 2\pi \sqrt{\frac{m}{k}}$$

❖ دوره تناوب سامانه جرم فنر با یک فنر معین ولی وزنه‌های متفاوت، با جذر جرم وزنه به طور مستقیم متناسب است

❖ دوره تناوب سامانه جرم فنر با یک وزنه معین ولی فنرهای متفاوت، با جذر ثابت فنر به طور وارون متناسب است.

آونگ ساده: آونگ ساده شامل وزنه کوچکی به جرم m است که از نخ بدون جرم و کش نیامدنی به طول L که سر دیگر آن ثابت شده، آویزان است. اگر زاویه انحراف آونگ از وضع تعادل کوچک باشد، آونگ حرکت هماهنگ ساده خواهد داشت. دوره تناوب آونگ ساده فقط به شتاب گرانشی (g) و طول آونگ (L) بستگی دارد، و از رابطه زیر به دست می‌آید:

$$T = 2\pi \sqrt{\frac{l}{g}} \Rightarrow \frac{T_2}{T_1} = \sqrt{\frac{l_2 \times g_1}{l_1 \times g_2}}, \quad \omega = \sqrt{\frac{g}{l}}$$

❖ با توجه به رابطه‌ی دوره تناوب آونگ: دوره تناوب آونگ ساده به جرم و دامنه آن بستگی ندارد.

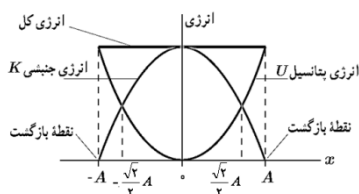
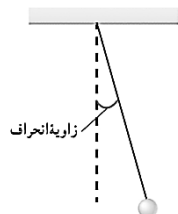
❖ اگر اندازه‌گیری در محلی به غیر از زمین باشد، به جای g شتاب جاذبه در آن محل را قرار می‌دهیم. مثلاً اگر اندازه‌گیری در آسانسور باشد، به جای g ، g' یعنی نتیجه‌ی شتاب خود آسانسور و شتاب زمین ($g' = g \pm a$) را قرار می‌دهیم.

انرژی در حرکت هماهنگ ساده:

در سامانه جرم-فنر انرژی پتانسیل (U) متناسب با x است. بنابراین انرژی پتانسیل سامانه جرم فنر در نقاط بازگشتی ($x = \pm A$) بیشینه و در نقطه تعادل ($x = 0$) برابر صفر است.

انرژی جنبشی (K) جرم فنر به جرم قطعه متصل به فنر و تندی آن بستگی دارد.

هر چه فاصله (x) بیشتر، انرژی پتانسیل بیشتر و هر چه سرعت (v) بیشتر، انرژی جنبشی بیشتر است.



در دامنه‌ی $\pm \frac{\sqrt{2}}{2} A$ مقدار انرژی جنبشی و پتانسیل با هم برابر است.

انرژی مکانیکی سامانه جرم فنر $(E=U+K)$: انرژی کل یک نوسانگر هارمونیک ساده با مجذور بسامد، مجذور دامنه و جرم نوسانگر رابطه‌ی مستقیم دارد.

$$E = \frac{1}{2} k A^2 = \frac{1}{2} m \omega^2 A^2 = 2\pi^2 m A^2 f^2$$

$$\frac{E_2}{E_1} = \left(\frac{f_2}{f_1}\right)^2 \times \left(\frac{A_2}{A_1}\right)^2$$

تشدید: اگر در نوسانگری نوسان‌های واداشته با بسامد طبیعی نوسانگر برابر شود (یعنی $f_d=f_0$)، در چنین وضعیتی اصطلاحاً گفته می‌شود که برای نوسانگر تشدید (رزونانس) رخ داده است. در این حالت دامنه‌ی نوسان افزایش می‌یابد.

انواع موج با توجه به محیط انتشار: ۱- **امواج مکانیکی:** این امواج برای انتشار، به محیط مادی نیاز دارند، بنابراین در خلأ انتشار نمی‌یابند. مانند امواج صوتی، تشکیل موج بر سطح آب، موج ایجاد شده در طناب، فنر و ... ۲- **امواج الکترومغناطیس:** این امواج در همه جا (مایعات، جامدات، گازها و خلأ) منتشر می‌شوند. مانند نور، امواج رادیویی، اشعه‌ی گاما و ...

انواع موج از لحاظ راستای ارتعاش: ۱) **امواج عرضی:** اگر راستای نوسان ذره‌های محیط، عمود بر راستای انتشار موج باشد، موج را عرضی می‌نامند.

۲) **امواج طولی:** اگر راستای نوسان ذره‌های محیط، موازی با راستای انتشار موج باشد، موج را طولی می‌نامند.

امواج مکانیکی عرضی: در محیط‌هایی منتشر می‌شوند که نیروی بین ذرات آن نسبتاً زیاد باشد. با این حساب، امواج مکانیکی عرضی، فقط در جسم‌های جامد و سطح مایع (به دلیل کشش سطحی در سطح مایع) ایجاد و منتشر می‌شوند. ولی امواج طولی در تمام حالات ماده، ایجاد و منتشر می‌شوند.

مشخصه های موج:

۱) **طول موج:** فاصله بین دو برآمدگی یا دو فرورفتگی مجاور، **طول موج** نامیده می‌شود و آن را با λ نشان می‌دهند. طول موج λ برابر با مسافتی است که موج در مدت دوره تناوب نوسان چشمه طی می‌کند.

۲) **دامنه (A):** بیشینه فاصله یک ذره از مکان تعادل، دامنه موج نامیده می‌شود که همان فاصله قله یا دره نسبت به سطح آرام یا ساکن است.

۳) **دوره تناوب (T):** مدت زمانی که هر ذره محیط یک نوسان کامل انجام می‌دهد دوره تناوب موج نامیده می‌شود که برابر با زمانی است که چشمه موج یک نوسان کامل انجام می‌دهد.

۴) **بسامد (f):** تعداد نوسان‌های انجام شده توسط هر ذره محیط در یک ثانیه بسامد موج نامیده می‌شود که برابر با بسامد چشمه موج نیز هست. پس: $f = \frac{1}{T}$

۵) **تندی انتشار موج (v):** اگر جبهه موج در مدت Δt مسافت L را طی کند، تندی انتشار موج از رابطه $v = \frac{L}{\Delta t}$ به دست می‌آید. از آنجا که طول موج λ در دوره T طی می‌شود، داریم: (تندی انتشار موج $v = \frac{\lambda}{T} = \lambda f$)

عوامل مؤثر بر سرعت انتشار موج: سرعت انتشار موج در یک محیط، به ویژگی‌های فیزیکی آن محیط (جنس، دما، فشار و ...) بستگی دارد، اما به شرایط فیزیکی چشمه‌ی موج (بسامد، دامنه، انرژی مکانیکی و ...) بستگی ندارد.

❖ دقت کنید که تندی ارتعاش (نوسان) که بیشینه‌ی آن $A\omega$ است را با تندی انتشار موج که مقداری ثابت است، اشتباه کنید.

❖ **تندی انتشار موج عرضی در یک فنر، تار یا ریسمان کشیده به نیروی کشش (F) و چگالی خطی جرم ($\mu=m/L$) بستگی دارد و از رابطه زیر به دست می‌آید:**

$$v = \sqrt{\frac{F}{\mu}} \quad \text{❖ (تندی انتشار موج عرضی در تار یا فنر)}$$

$$\mu = \frac{m}{L} \Rightarrow v = \sqrt{\frac{F \times L}{m}}$$

امواج الکترومغناطیسی: امواج الکترومغناطیسی از تغییر هم زمان میدان‌های الکتریکی و

مغناطیسی در فضا به وجود می‌آیند.

مشخصه بارز امواج الکترومغناطیسی

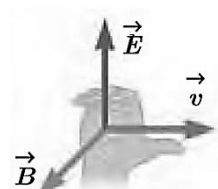
❖ میدان الکتریکی \vec{E} همواره عمود بر میدان مغناطیسی \vec{B} است.

❖ میدان‌های الکتریکی و مغناطیسی E و B همواره بر جهت حرکت موج عمودند و در نتیجه موج الکترومغناطیسی، یک موج عرضی است.

❖ میدان‌ها با بسامد یکسان و همگام با یکدیگر تغییر می‌کنند.

❖ جهت انتشار امواج الکترومغناطیسی را می‌توان مطابق شکل از قاعده دست راست تعیین کرد.

جهت انتشار موج الکترومغناطیسی (\vec{k}) هم جهت با بردار $(\vec{E} \times \vec{B})$ است. همانند محورهای مختصات $(\vec{x}, \vec{y}, \vec{z})$ ، پس اگر چنانچه انگشت دست راست را در جهت \vec{B} طوری



قرار داده که انگشت شصت دست راست در جهت \vec{E} باشد، آن گاه بردار \vec{k} از کف دست راست خارج می‌شود.

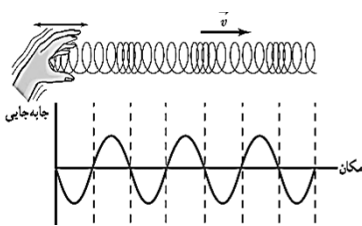
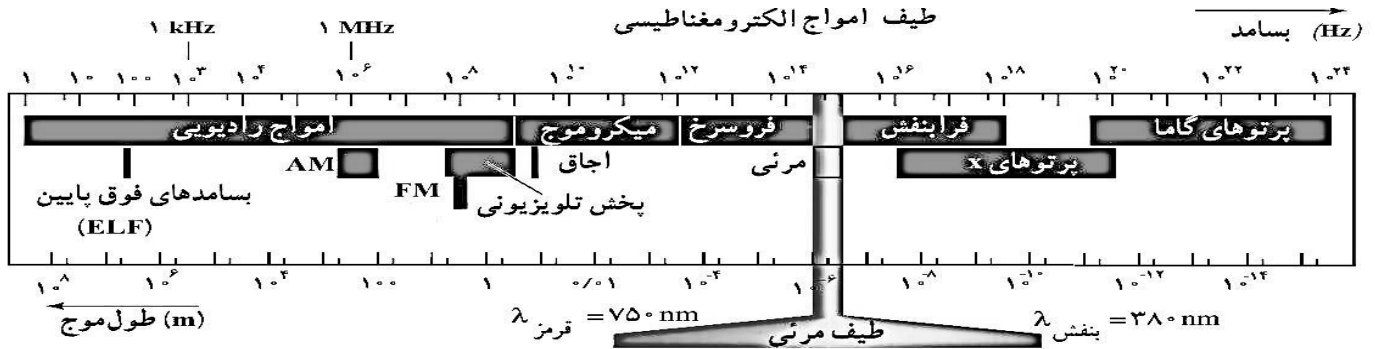
تندی انتشار امواج الکترومغناطیسی در خلأ از رابطه $c = \frac{1}{\sqrt{\mu_0 \epsilon_0}}$ به دست می‌آید. که در آن تراوایی مغناطیسی خلأ $\mu_0 = 4\pi \times 10^{-7} \text{ T.m/A}$ و

ضریب گذردهی الکتریکی خلأ $\epsilon_0 = 8.85 \times 10^{-12} \text{ C}^2/\text{Nm}^2$

$$c = \frac{1}{\sqrt{\mu_0 \epsilon_0}} = 3 \times 10^8 \frac{m}{s}$$

❖ نور هم یک موج الکترومغناطیسی است زیرا با تندی c منتشر می‌شود.

❖ امواج الکترومغناطیسی انرژی را صورت انرژی میدان‌های الکتریکی و مغناطیسی منتقل می‌کنند.



❖ **موج طولی و مشخصه‌های آن:** در مورد امواج طولی، طول موج برابر با فاصله بین دو تراکم (برای فشرده‌شدگی) یا دو انبساط (برای فشرده‌شدگی) متوالی است. همچنین دامنه موج طولی برابر با بیشینه جابه‌جایی از مکان تعادل است. برای امواج مکانیکی، تندی انتشار امواج طولی در یک محیط جامد بیشتر از تندی انتشار امواج عرضی در همان محیط است.

❖ **موج صوتی:** صوت یک موج طولی است که توسط جسمی مرتعش (چشمه صوت) تولید می‌شود. صوت فقط در محیط‌های مادی مانند گاز، مایع، یا جامد می‌تواند ایجاد و منتشر شود. امواج صوتی مجموعه‌ای از تراکم‌ها و انبساط‌ها تشکیل شده‌اند.

❖ تندی انتشار صوت نیز مانند هر موج مکانیکی دیگری با رابطه $V = f\lambda$ به بسامد و طول موج مربوط می‌شود و به ویژگی‌های فیزیکی محیط بستگی دارد. تندی صوت افزون بر جنس محیط به دما نیز بستگی دارد.

❖ معمولاً سرعت صوت در جامدها بیشتر از مایع‌ها و در مایع‌ها بیشتر از گازها است.

❖ **شدت و تراز شدت صوت:** شدت یک موج صوتی (I) در یک سطح، برابر با آهنگ متوسط انرژی‌ای است که توسط موج به واحد سطح، عمود بر راستای انتشار صوت می‌رسد یا از آن عبور می‌کند. که در آن \bar{P} آهنگ متوسط انتقال انرژی و A مساحت سطحی است که صوت با آن برخورد می‌کند. بنابراین

$$I = \frac{E}{At} = \frac{\bar{P}}{A}$$

❖ شدت صوتی که از سطح کره‌ای به مساحت $A = 4\pi R^2$ عبور می‌کند، از رابطه‌ی روبرو به دست می‌آید.

$$I = \frac{P}{4\pi R^2}$$

❖ **شدت صوت مبنا:** آستانه‌ی شنوایی صوتی با بسامد 1000 Hz برای گوش سالم است که برابر است با: $I_0 = 10^{-12} \frac{W}{m^2} = 10^{-6} \frac{\mu W}{m^2}$

❖ **تراز شدت صوت یا شدت احساس نسبی صوت:** تراز شدت صوت، در واقع درک انسان را از بلندی صوت بیان می‌کند و عبارت از لگاریتم در پایه‌ی ده نسبت شدت آن صوت به شدت صوت مبنا که آن را با β نشان داده و واحد آن بل می‌باشد:

$$\beta = 10 \log \frac{I}{I_0} (db)$$

هر بل ۱۰ دسی بل است. بنابراین:

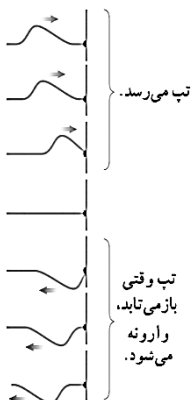
$$\beta = \log \frac{I}{I_0} (b)$$

❖ **بلندی نسبی صوت:** تفاضل تراز شدت دو صوت را بلندی نسبی آن‌ها گویند. اگر صوتی به شدت I_1 با تراز β_1 و صوتی دیگر با شدت I_2 با تراز β_2 شنیده شوند، اگر

$$\Delta\beta = \beta_2 - \beta_1 = 10 \log \frac{I_2}{I_1}$$

با: $\beta_2 > \beta_1$ باشد، بلندی نسبی آن‌ها برابر است با:

❖ از طرفی چون شدت نسبت عکس با مجذور فاصله دارد پس می‌توان نوشت:

$$\Delta\beta = 20 \log \frac{d_1}{d_2} \quad \text{در نتیجه:} \quad \frac{I_2}{I_1} = \left(\frac{d_1}{d_2} \right)^2$$


❖ **ادراک شنوایی:** با شنیدن هر تَن، دو ویژگی را می‌توان از هم متمایز ساخت: ارتفاع و بلندی آن. ارتفاع و بلندی هر دو به ادراک شنوایی ما مربوط می‌شوند.

❖ **ارتفاع، بسامدی است که گوش انسان درک می‌کند؛ مثلاً اگر چند دیافازون با بسامدهای مختلف به طور یکسان نواخته شوند بسامد آنها را می‌توان از کمترین تا بیشترین مقدار تشخیص داد.**

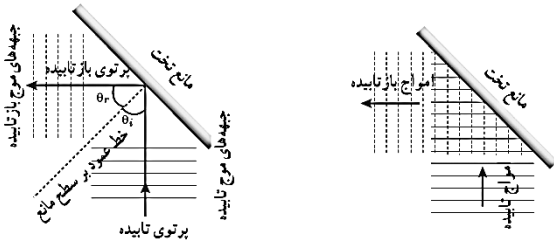
❖ **بلندی، شدتی است که گوش انسان از صوت درک می‌کند.** اگر یک دیافازون با بسامد مشخص را با ضربه‌هایی متفاوت به ارتعاش واداریم، با آنکه بسامد صدایی که می‌شنویم تغییر نمی‌کند، اما صداهایی با بلندی متفاوت را حس می‌کنیم که این به شدت ضربه‌ها بستگی دارد.

بلندی متفاوت با شدت است. شدت را می‌توان با یک آشکار ساز اندازه گرفت، در حالی که بلندی چیزی است که شما حس می‌کنید. دستگاه شنوایی انسان به بسامدهای متفاوت حساسیت های متفاوتی نشان می‌دهد، به طوری که بیشترین حساسیت گوش انسان به بسامدهایی در گستره ۲۰۰۰ Hz تا ۵۰۰۰ Hz است، در حالی که گوش انسان قادر به شنیدن تَن های صدای ۲۰ Hz تا ۲۰۰۰۰ Hz است.

بازتاب، شکست، پراش و تداخل برهم کنش‌های موج با محیط هستند.

بازتاب

پژواک صوت نمونه‌ای از بازتاب امواج مکانیکی است. خفاش برای یافتن طعمه از پژواک موج صوتی خود استفاده می‌کند. امواج الکترومغناطیسی (از جمله نور) نیز بازتابند. تولید صدا در آلات موسیقی، پژواک صداها، دیدن ماه، دیدن صفحه کتاب، گرم شدن مواد غذایی در اجاق‌های خورشیدی، جمع شدن امواج رادیویی در کانون آنتن های بشقابی و ... مثال هایی از کاربرد بازتاب امواج در زندگی هستند.



❖ زاویه بین خط عمود بر سطح مانع و پرتوی تابیده (فرودی) را **زاویه تابش** می‌نامند و با θ_i نشان می‌دهند.

❖ زاویه بین خط عمود بر سطح مانع و پرتوی بازتابیده را **زاویه بازتابش** می‌نامند و با θ_r نشان می‌دهند.

❖ همواره زاویه بازتابش برابر با زاویه تابش است: یعنی $\theta_i = \theta_r$ که به **قانون بازتاب عمومی** گفته می‌شود.

نمودار پرتویی همراه با جبهه‌های موج برای بازتاب امواج تخت از سطح ممانی تخت و جبهه‌های موج بازتابیده (خطوط خط‌چین)

❖ اگر سطح بازتابنده نور همچون یک آینه، بسیار هموار باشد، بازتاب نور را **بازتاب آینه‌ای** یا **منظم** می‌گویند. نوع دیگر بازتابش، **بازتاب پخشنده** یا **نامنظم** است. **پژواک**: اگر صوت پس از بازتاب، با یک تأخیر زمانی به گوش شنونده‌ای برسد که صوت اولیه را مستقیماً می‌شنود، به چنین بازتابی **پژواک** می‌گویند. اگر تأخیر زمانی بین این دو صوت کمتر از ۰/۱s باشد، گوش انسان نمی‌تواند پژواک را از صوت مستقیم اولیه تمیز دهد.

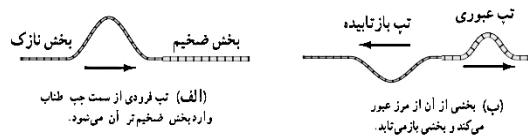
مکان یابی پژواکی روشی است که بر اساس امواج صوتی بازتابیده از یک جسم، مکان آن جسم را تعیین می‌کند. مکان یابی پژواکی به همراه اثر دوپلر، در تعیین مکان اجسام متحرک و نیز تعیین تندی آنها به کار می‌رود. همین طور در فناوری‌هایی نظیر اندازه‌گیری تندی شارش خون در رگ‌ها نیز از این روش استفاده می‌شود.

همچنین در دستگاه سونار که در کشتی‌ها برای مکان‌یابی اجسام زیر آب به کار می‌رود، و در سونوگرافی نیز از مکان یابی پژواکی استفاده می‌شود. دستگاه لیتوتریپسی که از آن برای شکستن سنگ‌های کلیه، با کمک بازتابنده‌های بیضوی استفاده می‌شود.

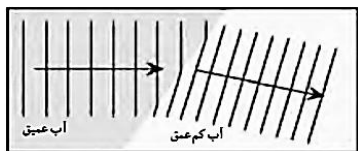
شکست وقتی رخ می‌دهد که جهت پیشروی موج در ورود به یک محیط جدید تغییر کند. شکست برای امواج مکانیکی نیز رخ می‌دهد

❖ رنگ‌های رنگین‌کمان، تصویری که با کمک عینک می‌بینیم، تصاویری که با استفاده از عدسی‌های ابزارهای نوری مانند میکروسکوپ و دوربین دیده می‌شود، و ... مثال‌های رایجی از شکسته شدن موج‌های نوری در پیرامون ما است. این پدیده برای امواج صوتی نیز رخ می‌دهد ولی به اندازه موج‌های نوری اهمیت ندارد..

❖ امواج نه تنها با محیط بلکه با یکدیگر نیز برهم کنش می‌کنند. **تداخل** نمونه‌ای از برهم کنش امواج با یکدیگر است.



عبور یک تپ در طول طنابی را در نظر بگیرید که از دو بخش، یکی نازک و دیگری ضخیم، تشکیل شده است (شکل الف). وقتی این تپ از سمت بخش نازک به مرز دو بخش می‌رسد، بخشی از این تپ باز می‌تابد و بخشی دیگر عبور می‌کند (شکل ب). برای یک موج سینوسی بسامد این دو موج همان بسامد موج فرودی است که توسط چشمه موج تعیین می‌شود. بنابراین موج عبوری که تندی آن در قسمت ضخیم کمتر است، بنا به رابطه $V = \lambda f$ طول موج کمتری نسبت به موج فرودی خواهد داشت.

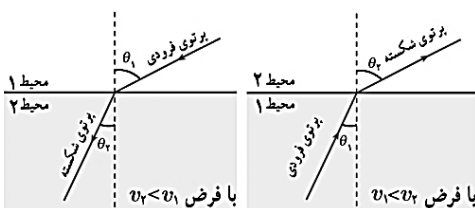


در حالت‌های دو یا سه بُعدی با عبور موج از یک مرز و ورود آن به محیط دیگر، تندی موج تغییر می‌کند و ممکن است جهت انتشار موج نیز تغییر کند و اصطلاحاً موج **شکست** پیدا کند. تندی امواج روی سطح آب به عمق آن بستگی دارد. با ورود موج به بخش کم عمق، تندی موج سطحی کاهش می‌یابد. روشن است، آن بخش موج که زودتر به ناحیه کم عمق می‌رسد، چون با تندی کمتر حرکت می‌کند از بقیه موج که هنوز وارد این ناحیه نشده عقب می‌افتد و بنابراین فاصله بین جبهه‌های موج و در نتیجه طول موج کاهش می‌یابد و به این ترتیب جبهه‌های موج در مرز دو ناحیه تغییر جهت می‌دهند.

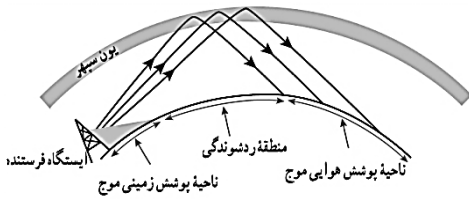
قانون شکست عمومی: برای جبهه‌های موج تختی به طور مایل به مرز دو محیط می‌رسند و سپس شکست پیدا می‌کنند، رابطه زیر برقرار است که به آن **قانون شکست عمومی** می‌گویند

$$\frac{\sin \theta_2}{\sin \theta_1} = \frac{v_2}{v_1}$$

اگر موجی از محیطی که در آن تندی موج کمتر است وارد محیطی شود که در آن تندی موج بیشتر است، زاویه شکست بزرگ تر از زاویه تابش می‌شود و برعکس یعنی اگر سرعت موج در محیط دوم کمتر باشد زاویه شکست کوچکتر از زاویه تابش می‌شود.



شکست امواج الکترومغناطیسی: یک موج پر قدرت رادیویی، با بسامد بین ۳ تا ۳۰ مگاهرتز، به لایه یون سپهر (یونسفر) بالای جو که در ارتفاع ۸۰ تا ۱۰۰۰ کیلومتری سطح زمین واقع است فرستاده می‌شود. این لایه به علت وجود یون‌ها و الکترون‌های آزاد، پلاسمایی را ایجاد می‌کند.

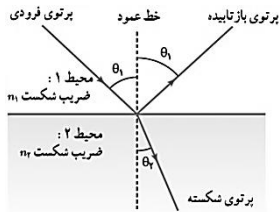


یون سپهر (یونسفر) چه امواجی را عبور میدهد و چه امواجی را بازتاب میدهد؟ چرا؟ یون سپهر در حالی که نور مرئی و تابش فرسرخ را عبور می‌دهد، امواج رادیویی با طول موج‌های بلند (با λ ی بزرگ‌تر از حدود ۱۰m را که در جهت‌های مناسبی به سوی این لایه ارسال شده باشند، به طرف زمین برمی‌گرداند. دلیل این اتفاق، یکنواخت نبودن چگالی الکترون‌های آزاد در این لایه و در نتیجه، تفاوت تندی امواج رادیویی در قسمت‌های مختلف آن است. به طوری که در سازوکاری مانند پدیده سراب، امواج را به سمت پایین باز می‌گرداند.

ضریب شکست: برابر با نسبت تندی نور در خلأ به تندی نور در یک محیط است:

$$n = \frac{\text{تندی نور در خلأ}}{\text{تندی نور در یک محیط}} = \frac{c}{v}$$

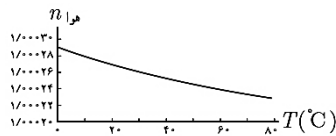
چون تندی نور در خلأ بیشترین تندی ممکن است، ضریب شکست همواره بزرگ‌تر یا مساوی ۱ است (که ۱ مربوط به خلأ است).



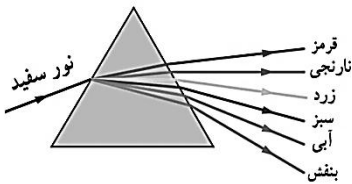
قانون شکست اسنل $n_1 \sin \theta_1 = n_2 \sin \theta_2$

در حالت کلی: $\frac{\sin \theta_2}{\sin \theta_1} = \frac{v_2}{v_1} = \frac{n_1}{n_2}$

سراب: در روزهای گرم هوای سطح زمین نسبتاً داغ است. چگالی هوا با افزایش دما کاهش می‌یابد که این سبب کاهش ضریب شکست می‌شود. با پایین آمدن هر چه بیشتر پرتوهای نظیر جبهه‌های موج، آنها با ضریب شکست‌های کوچک‌تر و کوچک‌تری روبه‌رو می‌شوند و در هر مرحله با دور شدن از خط عمود، بیشتر و بیشتر به سمت افق و در ادامه به سمت بالا خم می‌شوند. نوری که به چشم ما می‌رسد، به نظر می‌آید از امتداد پرتوهای نشان داده شده است و این حس را ایجاد می‌کند که گویی از تصویری از جسم (مثلاً درخت) بر روی سطح زمین ایجاد شده است. چون این اتفاق وقتی می‌افتد که آب روی زمین است، تصور می‌شود آب روی زمین است.



پاشندگی نور: وقتی باریکه نور سفید خورشید به وجهی از یک منشور می‌تابد، در عبور از منشور به رنگ‌های مختلفی تجزیه می‌شود. دلیل این پدیده آن است که ضریب شکست هر محیطی به جز خلأ به طول موج نور بستگی دارد. یعنی وقتی باریکه نوری شامل پرتوهایی با طول موج‌های مختلف باشد، این پرتوها هنگام عبور از مرز دو محیط در زاویه‌های مختلفی شکسته می‌شوند. به این پخش شدگی نور، پاشندگی نور می‌گویند.



عموماً ضریب شکست یک محیط معین برای طول موج‌های کوتاه‌تر، بیشتر است. اگر مثلاً دو باریکه نور آبی و قرمز با زاویه تابش یکسانی از هوا وارد شیشه شوند باریکه آبی بیشتر از باریکه قرمز خم می‌شود.



فصل چهارم: آشنایی با فیزیک اتمی و هسته‌ای

حوزه‌های فیزیک، از جمله مکانیک نیوتونی، ترمودینامیک و نظریه الکترومغناطیس ماکسول امروزه به نام فیزیک کلاسیک شناخته می‌شود. نسبت خاص (مربوط به مطالعه پدیده‌ها در تندی‌های بسیار زیاد و قابل مقایسه با تندی نور)، نظریه نسبیت عام (مربوط به مطالعه هندسه فضا زمان و گرانش) و نظریه کوانتومی (مربوط به مطالعه پدیده‌ها در مقیاس‌های بسیار کوچک، مانند اتم‌ها و ذره‌های سازنده آنها) سه نظریه فیزیک جدید هستند.



توجیه فیزیک کلاسیک درباره‌ی فتوالکتریک: هنگام برهم کنش موج الکترومغناطیس (نور فرودی) با سطح فلز، میدان الکتریکی این موج، نیروی $F = -eE$ به الکترون‌های فلز وارد کند و آنها را به نوسان وادارد. به این ترتیب، وقتی دامنه نوسان برخی از الکترون‌ها به قدر کافی بزرگ شود انرژی جنبشی لازم را برای جدا شدن از سطح فلز پیدا می‌کنند.

مشکل فیزیک کلاسیک در توجیه اثر فتوالکتریک:

(۱) بنا به این دیدگاه کلاسیکی، این پدیده باید با هر بسامدی رخ دهد در حالی که این نتیجه با تجربه سازگار نیست.

(۲) یکی دیگر از پیامدهای نظریه الکترومغناطیسی ماکسول این است که شدت نور با مربع دامنه میدان الکتریکی موج الکترومغناطیسی متناسب است ($I \propto E^2$). به این ترتیب انتظار می‌رود به ازای یک بسامد معین، اگر شدت نور فرودی بر سطح فلز را افزایش دهیم باید الکترون‌ها با انرژی جنبشی بیشتری از فلز خارج شوند، نتیجه‌ای که تجربه آن را تأیید نمی‌کند.

اینستین در نظریه فتوالکتریک فرض کرد که نور با بسامد f را می‌توان به صورت مجموعه‌ای از بسته‌های انرژی در نظر گرفت. هر بسته انرژی، که بعدها فوتون نامیده شد، دارای انرژی‌ای است که از رابطه زیر به دست می‌آید:

$$E = hf \quad \Rightarrow \quad E = \frac{hc}{\lambda}$$

در این رابطه h ثابت پلانک نامیده می‌شود و به طور تجربی معلوم شده است که مقدار آن $h = 6.63 \times 10^{-34} \text{ J.s}$ است.

در حالت کلی $E = nhf$ که n یک عدد صحیح مثبت است و معرف تعداد کوانتوم‌های انرژی (hf) می‌باشد و عدد کوانتومی نام دارد.

- ❖ با مقیاس بزرگ انرژی را با یکای ژول می‌سنجیم. (ژول برابر انرژی بار الکتریکی، تحت ولتاژ اولت است $U = qV$). در قلمرو اتمی، ژول یکای بزرگی است و معمولاً از یکای کوچک تری به نام الکترون ولت (eV) استفاده می‌کنیم که به عبارت مقدار انرژی یک الکترون تحت ولتاژ اولت، تعریف می‌شود.

$$1eV = 1/6 \times 10^{-19} \text{ J}$$

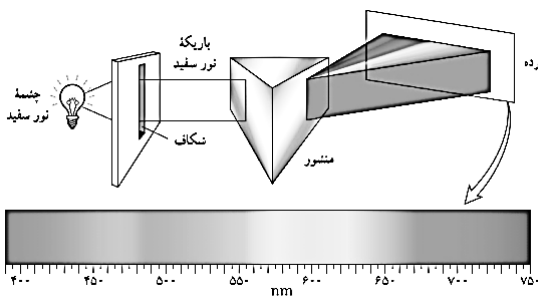
❖ ثابت پلانک برحسب $eV.s$ برابر است با $h = 4 \times 10^{-15} eV.s$

❖ کمیت hc در بسیاری از محاسبات این فصل لازم است. با جاگذاری مقادیر آن داریم:

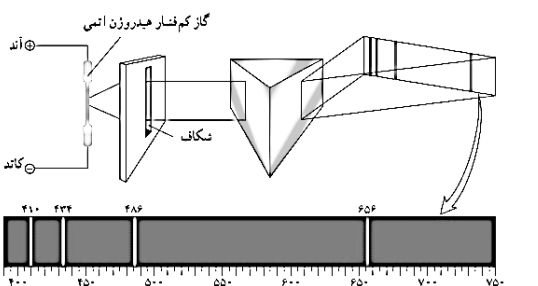
$$hc = 6.63 \times 10^{-34} \times 3 \times 10^8 = 19.9 \times 10^{-26} \text{ J.m}$$

❖ اگر h را برحسب $eV.s$ و سرعت نور را برحسب nm برثانیه بنویسیم داریم: $hc = 1240 eV.nm$ (بهتر است حفظ شود).

شکست مدل موج الکترومغناطیسی در توضیح برخی پدیده‌ها مانند اثر فوتوالکتریک به این معنی نیست که مدل موجی نور باید کنار گذاشته شود. ولی، باید متوجه باشیم که مدل موجی، تمام ویژگی‌های نور را دربر ندارد و به همین دلیل قادر نیست توجیه درستی از تمامی پدیده‌های فیزیکی مرتبط با برهم کنش نور با ماده را ارائه کند.



طیف خطی: همه اجسام در هر دمایی که باشند، از خود امواج الکترومغناطیسی گسیل (نشر) می‌کنند که به آن تابش گرمایی گفته می‌شود. اجسام در دماهای بالا از سطح خود نور مرئی گسیل می‌کنند. در دماهای معمولی، بیشتر تابش گسیل شده از سطح اجسام در ناحیه فرورسرخ طیف قرار دارد. برای یک جسم جامد، نظیر رشته داغ یک لامپ روشن، این امواج شامل گستره پیوسته‌ای از طول موج‌هاست که آن را **طیف گسیلی پیوسته** یا به اختصار **طیف پیوسته** می‌نامند. تشکیل طیف پیوسته توسط جسم جامد، ناشی از برهم کنش قوی بین اتم‌های سازنده آن است.



گازهای کم فشار و رقیق، که اتم‌های منفرد آنها از برهم کنش‌های قوی موجود در جسم جامد آزادند به جای طیف پیوسته، طیفی گسسته را گسیل می‌کنند که شامل طول موج‌های معینی است. این طیف گسسته را، معمولاً **طیف گسیلی خطی** یا به اختصار **طیف خطی** می‌نامند و طول موج‌های ایجادشده در آن، برای اتم‌های هر گاز منحصر به فرد هستند و سرنخ‌های مهمی را درباره نوع و ساختار اتم‌های آن گاز به دست می‌دهند.

- ❖ طیف خطی ایجاد شده و همچنین رنگ نور گسیل شده، به نوع گاز درون لامپ بستگی دارد.
- ❖ طیف خطی هر عنصر، مانند اثر انگشت انسان‌ها، از ویژگی‌های منحصر به فرد هر اتم است. لذا به کمک طیف‌نمایی میتوان عناصر را از هم تشخیص داد.
- ❖ طیف گسیلی اجسام جامد ملتهب، پیوسته و مانند هم می‌باشند. لذا به کمک این طیف نمی‌توان عناصر را از یکدیگر تشخیص داد.
- ❖ این که چرا هر عنصر طول موج‌های خاص خود را تابش می‌کند و این که چرا هر عنصر تنها طول موج‌های خاصی را جذب می‌کند و بقیه‌ی طول موج‌ها را جذب نمی‌کند از دیدگاه فیزیک کلاسیک قابل توجیه نیست.

رابطه‌ی ریذبرگ: طول موج تمامی خطوط طیف اتم هیدروژن را با استفاده از رابطه‌ی زیر که به رابطه‌ی ریذبرگ مشهور است، به دست آورد:

$$\frac{1}{\lambda} = R_H \left(\frac{1}{n'^2} - \frac{1}{n^2} \right), \quad R_H = 0.011 (nm)^{-1}, \quad n' < n$$

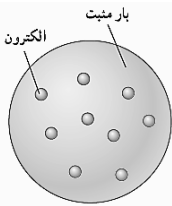
که در آن R_H ثابت ریذبرگ برای اتم هیدروژن نامیده می‌شود. n شماره‌ی تراز بالاتر است که الکترون ابتدا روی آن قرار داشته و n' شماره‌ی تراز پایین‌تر است که الکترون روی آن فرود می‌آید. دقت کنید که طول موج در این رابطه، برحسب نانومتر است.

- ❖ به ازای هر مقدار معین n' ، مجموعه‌ی طول موج‌های به دست آمده از رابطه‌ی ریذبرگ- بالمر را یک رشته می‌نامند.
- ❖ به ازای کوچک‌ترین مقدار ممکن n (یعنی $n'+1$) در هر رشته، بلندترین طول موج خطوط آن رشته یا حد بالای رشته به دست می‌آید.
- ❖ هر چه n بزرگتر باشد، طول موج‌های کوتاهتری می‌شوند پس، به ازای $n \rightarrow \infty$ ، کوتاهترین طول موج خطوط هر رشته یا حد پایین رشته پیدا می‌شود.

$$n = \infty \quad \Rightarrow \quad \frac{1}{\lambda_{\min}} = R_H \left(\frac{1}{n'^2} - \frac{1}{\infty} \right) \Rightarrow \lambda_{\min} = \frac{n'^2}{R_H} \quad n = n' + 1 \quad \Rightarrow \quad \frac{1}{\lambda_{\max}} = R_H \left(\frac{1}{n'^2} - \frac{1}{(n'+1)^2} \right)$$

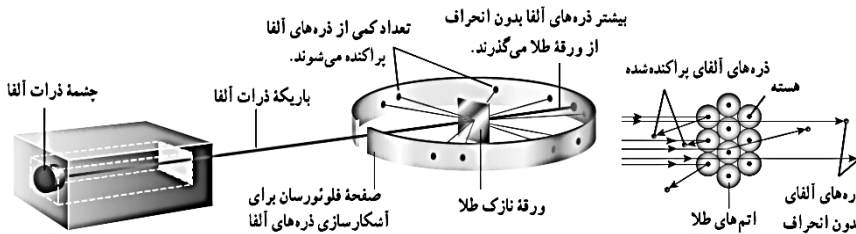
نام رشته	مقدار n'	رابطه‌ی ریبرگ	مقدارهای n	گستره‌ی طول موج
لیمان	n' = ۱	$\frac{1}{\lambda} = R_H \left(\frac{1}{1} - \frac{1}{n^2} \right)$	n = ۲, ۳, ۴ ...	فرابنفش
بالمر	n' = ۲	$\frac{1}{\lambda} = R_H \left(\frac{1}{2^2} - \frac{1}{n^2} \right)$	n = ۳, ۴, ۵ ...	فرابنفش و مرئی
پاشن	n' = ۳	$\frac{1}{\lambda} = R_H \left(\frac{1}{3^2} - \frac{1}{n^2} \right)$	n = ۴, ۵, ۶ ...	فرو سرخ
براکت	n' = ۴	$\frac{1}{\lambda} = R_H \left(\frac{1}{4^2} - \frac{1}{n^2} \right)$	n = ۵, ۶, ۷ ...	فرو سرخ
پفوند	n' = ۵	$\frac{1}{\lambda} = R_H \left(\frac{1}{5^2} - \frac{1}{n^2} \right)$	n = ۶, ۷, ۸ ...	فرو سرخ

به ازای n'=۲ رشته بالمر به دست می آید که در ناحیه مرئی طیف قرار دارد.



مدل اتمی تامسون (مدل کیک کشمشي): جوزف تامسون موفق به کشف الکترون و اندازه گیری نسبت بار به جرم (e/m) آن شد. در مدل تامسون، اتم همچون کره‌ای است که بار مثبت به طور همگن در سرتاسر آن گسترده شده‌است و الکترون‌ها که سهم ناچیزی در جرم اتم دارند در جاهای مختلف آن پراکنده شده‌اند. این مدل را گاهی مدل کیک کشمشي هم می‌گویند. در مدل اتمی تامسون، وقتی الکترون‌ها با بسامدهای معینی حول وضع تعادلشان نوسان می‌کنند این نوسان سبب تابش امواج الکترومغناطیسی از اتم می‌شود. بسامدهای تابش گسیل شده از اتم، که مدل اتمی تامسون پیش بینی می‌کرد، با نتایج تجربی سازگار نبود.

نتیجه آزمایش رادرفورد: ارنست رادرفورد باریکه‌های اذره‌های دارای بار مثبت (هسته اتم هلیم یا ذره آلفا) بر سطح ورقه‌ای نازک از جنس طلا فرو تاباند و نتیجه گرفت باید هسته‌ای چگال و دارای بار مثبت در مرکز هراتم باشد.



بنا بر مدل رادرفورد (مدل هسته‌ای اتم)، اتم دارای یک هسته بسیار چگال و کوچک (10^{-15} شعاع هسته) و با بار مثبت است که با تعدادی الکترون در فاصله‌هایی به نسبت دور احاطه شده است.

مدل اتمی رادرفورد: در این مدل، همه‌ی بار مثبت اتم، در یک ناحیه‌ی مرکزی با حجم بسیار کوچکی به نام هسته، متمرکز شده و اطراف آن را الکترون‌ها با بار منفی در فاصله‌ی زیاد احاطه کرده‌اند، به گونه‌ای که می‌توان گفت: فضای بین الکترون‌ها خلأ می‌باشد.

اشکالات مدل اتمی رادرفورد:

(۱) اگر الکترون‌ها در اطراف هسته، ساکن باشند، نیروی جاذبه‌ی الکترونیکی بین هسته و الکترون‌ها، باعث می‌شود الکترون روی هسته سقوط کند. یعنی ساختار داخلی اتم، فرو می‌ریزد، در صورتی که اتم پایدار است.

(۲) اگر الکترون‌ها، مانند سیاره‌های منظومه‌ی خورشیدی، که به دور خورشید در حرکتند، به دور هسته در گردش باشند، طبق نظریه‌ی فیزیک کلاسیک که هر ذره‌ی باردار شتاب دار، نور گسیل می‌کند، چون الکترون به طور پیوسته شتاب دارد و طبق مبانی کلاسیکی، بسامد موج گسیل شده با بسامد دوران الکترون برابر است، لذا بایستی به طور پیوسته نور گسیل کند و چون انرژی از دست می‌دهد، شعاع مداری آن به طور پیوسته کاهش یافته و در نتیجه بسامد آن به طور پیوسته زیاد شده و در نهایت، مارپیچ وار به داخل هسته سقوط می‌کند، یعنی طیف اتمی بایستی پیوسته بوده و اتم پایدار نباشد، در صورتی که طیف اتمی، گسسته است و اتم پایدار می‌باشد.

نتیجه: الگوی اتمی رادرفورد از دو ایراد عمده رنج می‌برد:

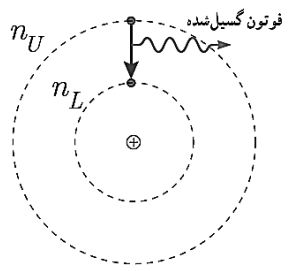
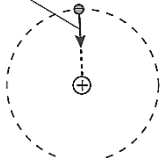
- (۱) نمی‌تواند پایداری حرکت الکترون‌ها در مدارهای اتمی و در نتیجه پایداری اتم‌ها را توضیح دهد.
- (۲) قادر به توجیه طیف گسسته‌ی اتمی نیست.

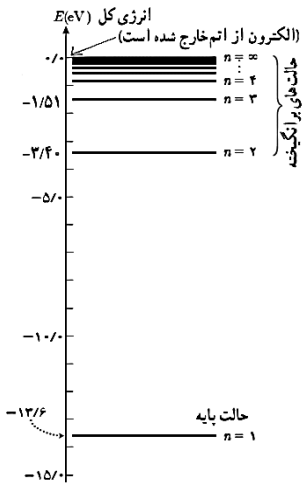
موفقیت‌های مدل اتمی بور چیست؟ (۱) بور مدلی را برای اتم هیدروژن ارائه کرد که مسئله ناپایداری اتم را در مدل رادرفورد حل می‌کرد. (۲) معادله ریبرگ برای طیف خطی اتم هیدروژن را به دست می‌آورد.

اصول مدل اتمی بور به صورت زیر است:

- ۱- مدارها و انرژی‌های الکترون‌ها در هر اتم کوانتیده‌اند؛ یعنی فقط مدارها و انرژی‌های گسسته معینی مجاز هستند.
- ۲- وقتی یک الکترون در یکی از مدارهای مجاز است، هیچ نوع تابش الکترومغناطیسی گسیل نمی‌شود. از این رو گفته می‌شود الکترون در مدار مانا یا حالت مانا قرار دارد.
- ۳- الکترون می‌تواند از یک حالت مانا به حالت مانای دیگر برود. هنگام گذار الکترون از یک حالت مانا با انرژی بیشتر E_U به یک حالت مانا با انرژی کمتر E_L ک فوتون تابش می‌شود.

نیروی ریبایش الکترونیکی که از طرف هسته به الکترون وارد می‌شود.





نمودار ترازهای انرژی برای الکترون اتم هیدروژن

(شعاع مدارهای الکترون برای اتم هیدروژن) $(r_n = a_0 n^2 \quad n=1,2,3,\dots, \quad a_0 = 0.529 \text{ \AA})$
 (ترازهای انرژی الکترون در اتم هیدروژن)

$$E_n = \frac{E_1}{n^2} = -\frac{E_R}{n^2} \quad E_R = 2/17 \times 10^{-18} \text{ J} = 13.6 \text{ eV}$$

در این روابط n عدد کوانتومی نامیده می‌شود. a_0 شعاع کوچک ترین مدار در اتم هیدروژن که شعاع بور برای اتم هیدروژن نامیده می‌شود.

انرژی الکترون در n=1 برابر $E_1 = -13.6 \text{ eV}$ است که اندازه آن راصحاً یک ریذبرگ می‌نامند و با نماد E_R نشان می‌دهند. در این صورت انرژی فوتون تابش شده برابر اختلاف انرژی بین دو مدار اولیه و مدار نهایی است، یعنی:

$$E_U - E_L = hf \quad (\text{معادله گسیل فوتون از اتم})$$

$$E_U - E_L = \frac{hc}{\lambda}$$

بنا به مدل بور، وقتی الکترونی از مداری با انرژی بیشتر به مداری با انرژی کمتر جهش می‌کند یک فوتون گسیل می‌شود.

پایین ترین تراز انرژی، حالت پایه نامیده می‌شود تا از ترازهای بالاتر که حالت‌های برانگیخته نامیده می‌شوند متمایز باشد. در اتم

هیدروژن و در دمای اتاق، الکترون اغلب در حالت پایه قرار دارد. کمترین انرژی لازم برای خارج کردن الکترون از حالت پایه، انرژی یونش الکترون نامیده می‌شود. انرژی یونش اتم هیدروژن 13.6 eV است.

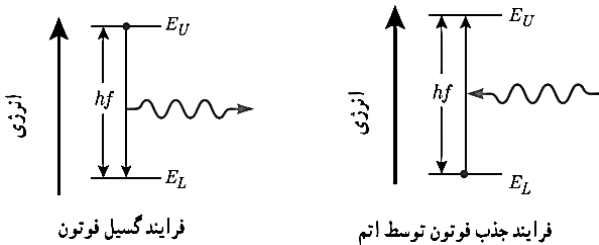
فرانیهوفر، با مشاهده دقیق طیف خورشید، خط‌های تاریک نازکی را در آن کشف کرد. خط‌های تاریکی که فرانیهوفر در طیف خورشید کشف کرد، ناشی از جذب طول موج‌های مربوط به این خط‌ها توسط گازهای جو خورشید و جو زمین پدید می‌آیند.

طیف جذبی خطی: برای مشاهده طیف‌های جذبی، نور یک چشمه نور سفید را از ظرفی حاوی گاز کم فشار هیدروژن اتمی (یا گاز عنصر دیگری) عبور داده و توسط منشور پاشیده می‌شود و طیف آن روی پرده تشکیل می‌شود. خط‌های تاریک روی طیف، به طول موج‌هایی از نور سفید مربوط است که توسط اتم‌های گاز جذب شده‌اند.

مطالعه و مقایسه همچنین طیف‌های گسیلی و جذبی عنصرهای مختلف نشان می‌دهد که:

(۱) در طیف گسیلی و در طیف جذبی اتم‌های گاز هر عنصر، طول موج‌های معینی وجود دارد که از مشخصه‌های آن عنصر است. یعنی طیف گسیلی و طیف جذبی هیچ دو گازی همانند یکدیگر نیست.

(۲) اتم‌های هر گاز دقیقاً همان طول موج‌هایی را از نور سفید جذب می‌کنند که اگر دمای آنها به اندازه کافی بالا رود و یا به هر صورت دیگر برانگیخته شوند، آنها را تابش می‌کنند.



بر اساس مدل بور می‌دانیم که خط‌های گوناگون در طیف گسیلی گاز هیدروژن اتمی وقتی به وجود می‌آیند که الکترون‌های اتم‌های هیدروژن، که به هر دلیلی برانگیخته شده‌اند، از تراز انرژی بالاتر به تراز انرژی پایین‌تر جهش کنند و فوتون‌هایی را گسیل کنند.

الکترون‌ها می‌توانند در جهت عکس گذار کنند، یعنی در فرایندی که جذب فوتون خوانده می‌شود از ترازهای انرژی پایین‌تر به ترازهای انرژی بالاتر بروند در این حالت، اتم، فوتونی را که دقیقاً انرژی لازم برای گذار را دارد جذب می‌کند.

موفقیت‌های مدل بور: مدل بور تصویری از چگونگی حرکت الکترون‌ها به دور هسته ارائه می‌کند. این مدل در تبیین پایداری اتم، طیف گسیلی و جذبی گاز هیدروژن اتمی و محاسبه انرژی یونش اتم هیدروژن با موفقیت همراه است.

نارسایی‌های مدل بور:

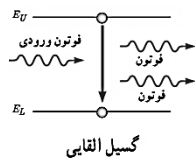
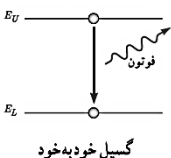
(۱) این مدل برای وقتی که بیش از یک الکترون به دور هسته می‌گردد به کار نمی‌رود، زیرا در مدل بور، نیروی الکتریکی که یک الکترون بر الکترون دیگر وارد می‌کند به حساب نیامده است.

(۲) این مدل نمی‌تواند متفاوت بودن شدت خط‌های طیف گسیلی را توضیح دهد. برای مثال مدل بور نمی‌تواند توضیح دهد که چرا شدت خط قرمز با شدت خط آبی در طیف گسیلی گاز هیدروژن اتمی با یکدیگر متفاوت است.

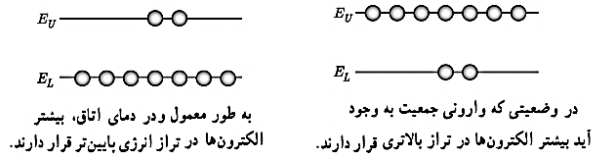
اتم هیدروژن گونه به اتم‌هایی گفته می‌شود که تنها یک الکترون دارند.

لیزر

وقتی یک الکترون از تراز انرژی بالاتر به تراز انرژی پایین‌تر جهش می‌کند یک فوتون گسیل می‌شود. فرایند گسیل می‌تواند به صورت گسیل خود به خود یا گسیل القایی باشد.



در گسیل خود به خود فوتون در جهتی کاتوره‌ای گسیل می‌شود. درحالی که در گسیل القایی یک فوتون ورودی، الکترون برانگیخته را تحریک (یا القا) می‌کند تا تراز انرژی خود را تغییر دهد و به تراز پایین‌تر برود. برای گسیل القایی، انرژی فوتون ورودی باید دقیقاً با اختلاف انرژی های دو تراز یعنی $E_U - E_L$ یکسان باشد.



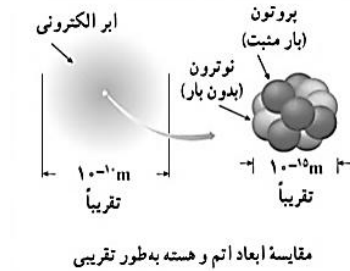
گسیل القایی سه ویژگی عمده دارد: (۱) یک فوتون وارد و دو فوتون خارج می‌شود. به این ترتیب این فرایند تعداد فوتون‌ها را افزایش می‌دهد و نور را تقویت می‌کند. (۲) فوتون گسیل شده، در همان جهت فوتون ورودی حرکت می‌کند. (۳) اینکه فوتون گسیل شده با فوتون ورودی همگام یا دارای همان فاز است. به این ترتیب فوتون‌هایی که باریکه لیزری را ایجاد می‌کنند هم بسامد، هم جهت و هم فاز هستند.

در گسیل القایی یک چشمه انرژی خارجی مناسب باید وجود داشته باشد تا الکترون‌ها را به ترازهای انرژی بالاتر برانگیخته کند. این انرژی می‌تواند به روش‌های متعددی از جمله درخش‌های شدید نور معمولی و یا تخلیه‌های ولتاژ بالا فراهم شود.

اگر انرژی کافی به اتم‌ها داده شود، الکترون‌های بیشتری به تراز انرژی بالاتر برانگیخته خواهند شد، شرطی که به **وارونی جمعیت** معروف است.

وارونی جمعیت الکترون‌ها در یک محیط لیزری، مربوط به وضعیتی است که تعداد الکترون‌ها در ترازهایی موسوم به **ترازهای شبه پایدار** نسبت به تراز پایین‌تر بسیار بیشتر باشند.

در این ترازها، الکترون‌ها مدت زمان بسیار طولانی‌تری (10^{-3} s) نسبت به حالت برانگیخته معمولی (10^{-8} s) باقی می‌مانند. این زمان طولانی‌تر، فرصت بیشتری برای افزایش وارونی جمعیت و در نتیجه تقویت نور لیزر فراهم می‌کند.



فیزیک هسته‌ای، شاخه‌ای از فیزیک است که در آن با ساختار، برهم کنش‌ها و واپاشی هسته‌های اتمی سروکار داریم. **ساختار هسته:** با کاوش درون اتم، در مرکز آن، هسته را می‌یابیم که شعاع آن تقریباً $\frac{1}{100000}$ شعاع اتم است. هسته اتم از نوترون‌ها و پروتون‌ها تشکیل شده‌است که به طور کلی **نوکلئون** نامیده می‌شوند.

نوترون بار الکتریکی ندارد، و جرمش اندکی بیشتر از پروتون است. تعداد پروتون‌های هسته را عدد اتمی (Z) می‌نامند و در عنصرهای مختلف متفاوت است. در یک اتم خنثی، تعداد پروتون‌های هسته با تعداد الکترون‌های دور هسته برابر است. تعداد نوترون‌های هسته، عدد نوترونی (N) نامیده همچنین مجموع تعداد کل پروتون‌ها و نوترون‌ها را عدد جرمی (A) می‌نامند. پس: $A=Z+N$

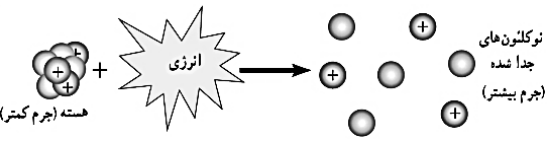
برای یک عنصر با نماد شیمیایی X نماد هسته به صورت ${}^A_Z X_N$ نشان داده می‌شود.

ایزوتوپ‌ها: ویژگی‌های هسته را تعداد پروتون‌ها و نوترون‌های آن تعیین می‌کند. خواص شیمیایی هر اتم را تعداد پروتون‌های هسته (عدد اتمی Z) تعیین می‌کند. به همین سبب هسته‌هایی که تعداد پروتون مساوی ولی تعداد نوترون متفاوت دارند خواص شیمیایی یکسانی دارند، در نتیجه این هسته‌ها در جدول تناوبی عناصر هم مکان هستند و بنابراین **ایزوتوپ (هم مکان)** نامیده می‌شوند.

پایداری هسته: ابعاد هسته در مقایسه با ابعاد اتم بسیار کوچک‌تر است. با وجود این، بیشتر جرم اتم (بیش از ۹۹/۹ درصد آن) در هسته متمرکز شده است. با توجه به اینکه نیروی الکتروستاتیکی رانشی خیلی قوی بین پروتون‌های درون هسته، که بسیار به یکدیگر نزدیک‌اند، وارد می‌شود، تنها چیزی که مانع از هم پاشیدن هسته می‌شود نیروی هسته‌ای است. این نیرو نمی‌تواند گرانشی باشد، زیرا جاذبه حاصل از نیروی گرانشی بین نوکلئون‌ها، چنان ضعیف است که نمی‌تواند با نیروی الکتروستاتیکی رانشی مقابله کند. **ویژگی‌های نیروی هسته‌ای:** (۱) نیروی هسته‌ای رابیش است (۲) نیروی هسته‌ای قوی‌تر از گرانشی و الکترو استاتیکی است (۳) نیروی هسته‌ای، کوتاه برد است و تنها در فاصله‌ای کوچک‌تر از ابعاد هسته اثر می‌کند. (۴) نیروی هسته‌ای مستقل از بار الکتریکی است، یعنی نیروی رابیشی هسته‌ای یکسانی بین دو پروتون، دو نوترون، یا یک پروتون و یک نوترون وجود دارد. به همین دلیل از منظر نیروی هسته‌ای، تفاوتی بین پروتون و نوترون وجود ندارد و دلیل نام گذاری آنها با نام عام نوکلئون نیز همین است.

چرا با افزایش تعداد پرتونها در عناصر سنگین تعداد نوترونها بیشتر از پرتونها افزایش می‌یابد؟ برای پایداری هسته، باید نیروی دافعه الکتروستاتیکی بین پروتون‌ها با نیروی جاذبه بین نوکلئون‌ها، که ناشی از نیروی هسته‌ای است، موازنه شده باشد. ولی به دلیل بلند برد بودن نیروی الکتروستاتیکی، یک پروتون تمام پروتون‌های دیگر درون هسته را دفع می‌کند، در حالی که یک پروتون یا یک نوترون، فقط نزدیک‌ترین نوکلئون‌های مجاور خود را با نیروی هسته‌ای جذب می‌کند. به همین دلیل وقتی تعداد پروتون‌های درون هسته افزایش یابد، اگر هسته بخواهد پایدار باقی بماند، باید تعداد نوترون‌های درون هسته نیز افزایش یابد.

انرژی بستگی هسته‌ای و ترازهای انرژی هسته: برای جدا کردن نوکلئون‌های یک هسته، انرژی لازم است. انرژی لازم برای این منظور، **انرژی بستگی هسته‌ای** نامیده می‌شود.

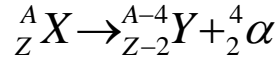


جرم هسته از مجموع جرم پروتون‌ها و نوترون‌های تشکیل دهنده‌اش اندکی کمتر است. اگر اختلاف جرم را که به آن **کاستی جرم هسته** گفته می‌شود، مطابق رابطه معروف اینشتین ($E=mc^2$)، در مربع تندی نور (c^2) ضرب کنیم **انرژی بستگی هسته‌ای** به دست می‌آید. (c برحسب متر برثانیه و m برحسب کیلوگرم باشد، E برحسب J خواهد بود.)

انرژی نوکلئون‌های وابسته به هسته نیز مانند انرژی الکترون‌های وابسته به اتم، کوانتیده‌اند و نوکلئون‌های درون هسته نمی‌توانند هر انرژی دلخواهی را اختیار کنند. همچنین همان طور که الکترون‌های اتم می‌توانند با جذب انرژی از تراز پایه به تراز برانگیخته بروند، نوکلئون‌ها نیز می‌توانند با جذب انرژی به ترازهای انرژی بالاتر بروند و در نتیجه هسته برانگیخته شود. هسته برانگیخته با گسیل فوتون به تراز پایه بر می‌گردد. انرژی فوتون گسیل شده، با اختلاف انرژی بین تراز برانگیخته و تراز پایه برابر است. اختلاف بین ترازهای انرژی نوکلئون‌ها در هسته از مرتبه keV تا مرتبه MeV است، در حالی که اختلاف بین ترازهای انرژی الکترون‌ها در اتم از مرتبه eV است. از این رو، هسته‌ها در واکنش‌های شیمیایی برانگیخته نمی‌شوند.

پرتوزایی طبیعی: وقتی یک هسته ناپایدار یا پرتوزا خودبه خود واپاشی می‌کند، نوع معینی از ذرات یا فوتون‌های پر انرژی آزاد می‌شوند. این فرایند واپاشی، **پرتوزایی طبیعی** نامیده می‌شود. در پرتوزایی طبیعی سه نوع پرتو ایجاد می‌شود: پرتوهای آلفا (α) پرتوهای بتا (β) و پرتوهای گاما (γ) پرتوهای α کمترین نفوذ را دارند و با ورقه نازک سربی با ضخامت ناچیز ($\approx 0.1 \text{ mm}$) متوقف می‌شوند، در حالی که پرتوهای β مسافت خیلی بیشتری را ($\approx 1 \text{ mm}$) در سرب نفوذ می‌کنند. پرتوهای γ بیشترین نفوذ را دارند و می‌توانند از ورقه ای سربی به ضخامت قابل ملاحظه‌ای ($\approx 10 \text{ mm}$) گذرند. در تمام فرایندهای واپاشی پرتوزا مشاهده شده‌است که تعداد نوکلئون‌ها در طی فرایند واپاشی هسته‌ای پایسته است؛ یعنی تعداد نوکلئون‌ها، پیش از فرایند با تعداد نوکلئون‌ها پس از فرایند مساوی است.

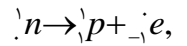
واپاشی α : در این نوع واپاشی که در هسته‌های سنگین صورت می‌گیرد، ذرات باردار مثبت از جنس هسته اتم هلیم (${}^4_2\text{He}$) از هسته اتم خارج می‌شود. معادله‌ی واکنش به صورت زیر است.



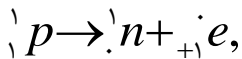
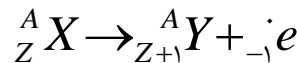
در این واکنش، X و Y دو عنصر متفاوت هستند، چون عدد اتمی متفاوت دارند.

واپاشی همراه با گسیل ذره‌ی بتا (β): این متداول‌ترین نوع واپاشی در هسته‌ها است. در این واپاشی هسته‌ی ناپایدار با گسیل الکترون یا پوزیترون (ذره‌ای دارای جرم برابر جرم الکترون و بار مخالف آن) به هسته‌ی جدیدی تبدیل می‌شود. ذره‌ی β ، از جنس الکترون (${}_{-1}^0 e$) یا پوزیترون (${}_{+1}^0 e$) است. اما هسته، الکترون یا پوزیترون ندارد. پس ذره‌ی β ، از کجا می‌آید؟ پاسخ آن است:

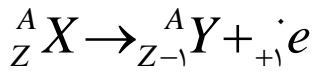
الف (واپاشی β منفی) اگر در واپاشی، گسیل الکترون را داشته باشیم، یک نوترون در هسته، متلاشی شده و تبدیل به یک پروتون و یک الکترون می‌شود:



به این ترتیب یک نوترون از هسته کم می‌شود و یک پروتون به آن اضافه می‌شود. بنابراین جرم هسته، تغییر چندانی نمی‌کند، ولی عدد اتمی یک واحد زیاد می‌شود:

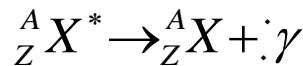


ب (واپاشی β مثبت) اگر در واپاشی گسیل پوزیترون را داشته باشیم، یک پروتون هسته به نوترون و پوزیترون تبدیل می‌شود:



محصول این واپاشی، هسته‌ی عنصر جدیدی است که در جدول تناوبی قبل از X قرار دارد.

واپاشی γ : رفتن هسته از حالت برانگیخته به حالت پایه، همراه با گسیل ذره‌ی گاما (γ): پرتو γ ، از جنس امواج الکترومغناطیسی است. جرم و بار پرتو γ ، صفر است. بنابراین با گسیل پرتو γ ، نه عدد جرمی تغییر می‌کند و نه عدد اتمی. اما هسته مقداری انرژی از دست می‌دهد و به حالت پایدارتری می‌رسد:



❖ اگر یک هسته پرتوزا چند نوع تابش انجام دهد برای موازنه‌ی آن و به دست آوردن مجهول (X) باید نکات زیر را در نظر گرفت:

(۱) مجموع اعداد اتمی در دو سمت واکنش هسته‌ای باید یکسان باشد.

(۲) مجموع اعداد جرمی در دو سمت واکنش هسته‌ای باید یکسان باشد.

❖ در تمام واکنش‌های فوق، به X هسته‌ی مادر و به Y هسته‌ی دختر گویند.

نیمه عمر، مدت زمانی است که طول می‌کشد تا تعداد هسته‌های مادر موجود در یک نمونه، به نصف برسند.

نیمه عمر ماده‌ی پرتوزا: نیمه عمر یک ماده‌ی پرتوزا، مدت زمانی است که طول می‌کشد تا طی آن نیمی از هسته‌های

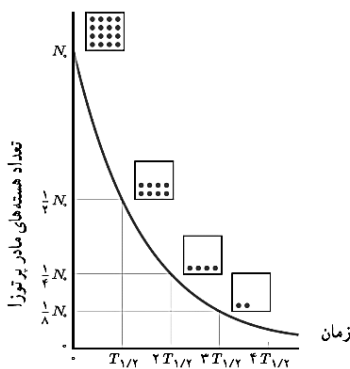
پرتوزای موجود در آن واپاشیده شوند و آن را با $T_{1/2}$ نشان می‌دهند. در واقع نیمه عمر، به نوعی سرعت واپاشی یک ایزوتوپ را نشان می‌دهد.

پس از گذشت هر نیمه عمر، تعداد هسته‌های ایزوتوپ پرتوزای اولیه، نصف می‌شود. بنابراین پس از گذشت n نیمه عمر، تعداد این هسته‌ها $\frac{1}{2^n}$ برابر می‌شوند

بنابراین اگر پس از مدت زمان t ، تعداد هسته‌های ماده‌ی رادیواکتیو از N_0 به N کاهش یابد، داریم:

$$N = \frac{N_0}{2^n} \Rightarrow N' = N_0 - N, n = \frac{t}{T_{1/2}}$$

(تعداد نیمه عمرها، تعداد هسته‌های باقی مانده و تعداد هسته‌های متلاشی شده است).



بسمه تعالی

سؤالات امتحان نهایی درس: فیزیک ۳	مدت امتحان: ۱۲۰ دقیقه	تعداد صفحه: ۳	ساعت شروع: ۱۰ صبح
پایه دوازدهم دوره دوم متوسطه	نام و نام خانوادگی:	تاریخ امتحان: ۱۳۹۷/۱۰/۵	رشته: علوم تجربی
دانش آموزان بزرگسال و داوطلبان آزاد سراسر کشور در نوبت دی ماه سال ۱۳۹۷		مرکز سنجش آموزش و پرورش http://aee.medu.ir	

توجه: استفاده از ماشین حساب ساده (دارای چهار عمل اصلی، جذر و درصد) مجاز می باشد.

ردیف	سؤالات (پاسخ نامه دارد)	نمره
------	-------------------------	------

۱	<p>جاهای خالی را با کلمات مناسب پر کنید.</p> <p>الف) برداری که مبدأ محور را به مکان جسم در هر لحظه وصل می کند بردار جسم در آن لحظه نامیده می شود.</p> <p>ب) اگر برآیند نیروهای وارد بر جسم صفر شود، می گوئیم نیروهای وارد بر جسم هستند.</p> <p>پ) تعداد نوسان های انجام شده در هر ثانیه را می نامند.</p> <p>ت) انرژی لازم برای جدا کردن نوکلئون های یک هسته، انرژی نامیده می شود.</p>	۱
۲	<p>شکل روبرو نمودار مکان - زمان دوچرخه سواری را نشان می دهد که روی مسیری مستقیم در حال حرکت است.</p> <p>الف) بیشترین فاصله دوچرخه سوار از مبدأ چند متر است؟</p> <p>ب) در کدام بازه زمانی دوچرخه سوار در خلاف جهت محور X حرکت می کند؟</p> <p>پ) مسافت طی شده توسط دوچرخه سوار در بازه زمانی $t_0=0s$ تا $t_1=20s$ چند متر است؟</p> <p>ت) اندازه سرعت متوسط دوچرخه سوار در بازه زمانی $t_1=4s$ تا $t_2=20s$ را بدست آورید.</p>	۰/۲۵ ۰/۲۵ ۰/۵ ۰/۵
۳	<p>خودرویی با سرعت 36 km/h در امتداد مسیری مستقیم در حال حرکت است. تندی آن با شتاب $1/5 \text{ m/s}^2$ افزایش می یابد. سرعت خودرو پس از 500 m جابجایی چقدر است؟</p>	۱
۴	<p>معادله سرعت - زمان متحرکی در SI به صورت $v = -2t + 1$ است. جابجایی متحرک در بازه زمانی $t_1=0s$ تا $t_2=3s$ چند متر است؟</p>	۰/۷۵
۵	<p>درستی یا نادرستی جمله های زیر را با کلمات ((درست)) یا ((نادرست)) در پاسخ برگ مشخص کنید.</p> <p>الف) هواپیمایی که بر روی باند پرواز حرکت می کند تا به شرایط برخاستن برسد، دارای شتاب تقریباً ثابت است.</p> <p>ب) در حرکت بر روی خط راست، اگر بردار سرعت و بردار شتاب هم جهت باشند، حرکت تندشونده است.</p> <p>پ) نیروهای کنش و واکنش ممکن است منجر به اثرات متفاوتی شوند.</p> <p>ت) هر چه تندی جسم بیشتر باشد، نیروی مقاومت شاره کمتر خواهد شد.</p> <p>ث) هر چه مدت زمان اثر نیروی خالص وارد بر جسم بیشتر باشد، تغییر تکانه جسم کمتر است.</p> <p>ج) برای امواج کروی، همواره زاویه بازتابش برابر با زاویه تابش است.</p>	۱/۵
۶	<p>وزنه ای به جرم 2 kg را به انتهای فنری به طول 2 m که ثابت فنر آن 1000 N/m است می بندیم و فنر را از سقف یک آسانسور آویزان می کنیم. آسانسور با شتاب 2 m/s^2 از حال سکون رو به پایین شروع به حرکت می کند. طول فنر در این حالت چقدر است؟ ($g = 10 \text{ N/kg}$)</p>	۱
ادامه سؤالات در صفحه دوم		

بسمه تعالی

سؤالات امتحان نهایی درس: فیزیک ۳	مدت امتحان: ۱۲۰ دقیقه	تعداد صفحه: ۳	ساعت شروع: ۱۰ صبح
پایه دوازدهم دوره دوم متوسطه	نام و نام خانوادگی:	تاریخ امتحان: ۱۳۹۷/۱۰/۵	رسمه: علوم تجربی
دانش آموزان بزرگسال و داوطلبان آزاد سراسر کشور در نوبت دی ماه سال ۱۳۹۷		مرکز سنجش آموزش و پرورش http://aee.medu.ir	

توجه: استفاده از ماشین حساب ساده (دارای چهار عمل اصلی، جذر و درصد) مجاز می باشد.

ردیف	سؤالات (پاسخ نامه دارد)	نمره
------	-------------------------	------

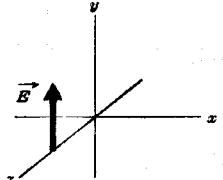


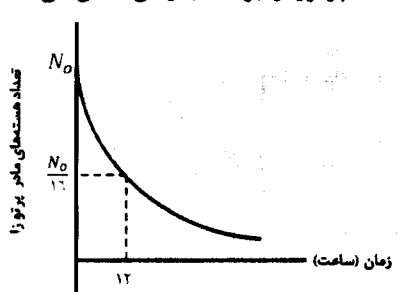
۷	در هر یک از موارد زیر، گزینه مناسب را انتخاب کنید و در پاسخ برگ بنویسید. الف) انرژی جنبشی جسم با (تکانه - مربع تکانه) نسبت مستقیم دارد. ب) با افزایش دمای هوا، ضریب شکست هوا (کاهش - افزایش) می یابد. پ) طول موج نور مرئی (بلندتر - کوتاهتر) از میکروموج هاست. ت) شدتی است که گوش انسان از صوت درک می کند. (بلندی - ارتفاع) ث) بر اساس (دیدگاه کلاسیکی - نتایج تجربی) پدیده فوتوالکتریک باید با هر بسامدی رخ دهد. ج) در اتم هیدروژن در دمای اتاق، الکترون اغلب در حالت (برانگیخته - پایه) قرار دارد.	۱/۵
۸	جسمی به جرم 2 kg با تندی ثابت روی سطح افقی با نیروی 10 نیوتن کشیده می شود. ضریب اصطکاک جنبشی بین جسم و سطح را حساب کنید. ($g = 10 \text{ N/kg}$)	۱/۲۵
۹	جرم و شعاع سیاره ای به ترتیب 5 و 2 برابر جرم و شعاع زمین است. شتاب گرانشی در این سیاره چند برابر شتاب گرانشی در سطح زمین است؟	۰/۷۵
۱۰	معادله حرکت هماهنگ ساده یک نوسانگر در SI به صورت $x = 0.020 \cos 10\pi t$ است. الف) بیشینه تندی این نوسانگر چقدر است؟ ($\pi = 3$) ب) در چه زمانی پس از لحظه صفر برای نخستین بار انرژی پتانسیل نوسانگر بیشینه است؟	۰/۷۵ ۰/۷۵
۱۱	الف) از بین کمیت های زیر، دو عامل موثر بر دوره تناوب آونگ ساده را مشخص کنید و در پاسخ برگ بنویسید. (شتاب گرانشی - جرم وزنه آونگ - دامنه - طول آونگ) ب) نوسان واداشته را تعریف کنید.	۰/۵ ۰/۵
۱۲	دو تار A و B با طول های یکسان به ترتیب با جرم های 0.18 g و $3/2 \text{ g}$ ، تحت نیروی کشش برابر قرار دارند. تندی انتشار موج در تار A چند برابر تندی انتشار موج در تار B است؟	۰/۷۵
۱۳	یک دستگاه صوتی، صدایی با تراز شدت $\beta_1 = 120 \text{ dB}$ و دستگاه صوتی دیگر، صدایی با تراز شدت $\beta_2 = 100 \text{ dB}$ ایجاد می کند. شدت های مربوط به این دو تراز (بر حسب W/m^2) به ترتیب I_1 و I_2 هستند. نسبت $\frac{I_1}{I_2}$ را تعیین کنید.	۰/۷۵
۱۴	طول موج نور قرمز لیزر هلیم-نئون در هوا حدود 633 nm و در زجاجیه چشم 474 nm است. ضریب شکست زجاجیه برای این نور چقدر است؟ (ضریب شکست هوا، یک فرض شود)	۰/۷۵
	ادامه سوالات در صفحه سوم	

بسمه تعالی

سؤالات امتحان نهایی درس: فیزیک ۳	مدت امتحان: ۱۲۰ دقیقه	تعداد صفحه: ۳	ساعت شروع: ۱۰ صبح
پایه دوازدهم دوره دوم متوسطه	نام و نام خانوادگی:	تاریخ امتحان: ۱۳۹۷/۱۰/۵	رشته: علوم تجربی
دانش آموزان بزرگسال و داوطلبان آزاد سراسر کشور در نوبت دی ماه سال ۱۳۹۷		مرکز سنجش آموزش و پرورش و پرورش http://aee.medu.ir	

توجه: استفاده از ماشین حساب ساده (دارای چهار عمل اصلی، جذر و درصد) مجاز می باشد.

ردیف	سؤالات (پاسخ نامه دارد)	نمره
------	-------------------------	------

۱۵	الف) در یک لحظه خاص، میدان الکتریکی مربوط به یک موج الکترومغناطیسی در نقطه‌ای از فضا در جهت $+y$ و جهت انتقال انرژی در جهت $+x$ است. جهت میدان مغناطیسی در این لحظه در کدام سواست؟ 	۰/۲۵
۰/۱۵	ب) در شکل روبرو ماشین آتش نشانی (چشمه صوتی) نسبت به دو ناظر A و B ساکن است. با حرکت ماشین بطرف ناظر A، طول موج صوت دریافتی دو ناظر ساکن A و B، چه تغییری نسبت به قبل خواهد داشت؟ 	۰/۱۵
۱۶	الکترونی در اتم هیدروژن از حالت برانگیخته $n = 3$ به حالت پایه $n = 1$ جهش می‌یابد. انرژی فوتون تابش شده چند الکترون ولت است؟ ($E_R = 13/6 \text{ eV}$)	۰/۷۵
۱۷	بلندترین طول موج رشته پاشن ($n=3$) چند نانومتر است؟ ($R = 0/11 \text{ nm}^{-1}$)	۰/۷۵
۱۸	الف) سه ویژگی فوتون‌های باریکه لیزری را بنویسید. ب) شکل روبرو به کدام مشکل مدل رادرفورد اشاره دارد؟ 	۰/۲۵
۰/۱۵	پ) چرا مدل بور برای وقتی که بیش از یک الکترون به دور هسته می‌چرخد به کار نمی‌رود؟	۰/۱۵
۱۹	در ایزوتوپ ${}^{237}_{93}\text{Np}$ واپاشی از طریق گسیل ذرات بتای منفی صورت می‌گیرد. معادله مربوط به این واپاشی را بنویسید. (هسته دختر با نماد ${}^A_Z\text{Y}$ نوشته شود)	۰/۱۵
۲۰	شکل روبرو نمودار تغییرات تعداد هسته‌های مادر پرتوزای موجود در یک ماده پرتوزا را برحسب زمان نشان می‌دهد. نیمه عمر این ماده پرتوزا چند ساعت است؟ 	۰/۷۵
۲۰	پیروز باشید	

راهنمای تصحیح امتحان نهایی درس: فیزیک ۳	رشته: علوم تجربی	ساعت شروع: ۱۰ صبح	مدت امتحان: ۱۲۰ دقیقه
پایه دوازدهم دوره دوم متوسطه		تاریخ امتحان: ۱۳۹۷/۱۰/۵	
دانش آموزان بزرگسال و داوطلبان آزاد سراسر کشور دی ماه سال ۱۳۹۷		مرکز سنجش آموزش و پرورش http://aee.medu.ir	

ردیف	پاسخها	نمره
۱	(الف) مکان ص.۴ (ب) متوازن ص.۲۸ (پ) بسامد ص.۵۴ (ت) بستگی هسته‌ای ص.۱۱۵ هر مورد (۰/۲۵)	۱
۲	(الف) ۱۹متر (۰/۲۵) (ب) ۴ثانیه تا ۱۲ ثانیه (۰/۲۵) (پ) $19+14+14=47m$ (۰/۵) (ت) صفر است (۰/۲۵) چون جابجایی در این بازه زمانی صفر است. (۰/۲۵) ص.۹	۱/۵
۳	$v = 36 km/h = 10 m/s$ (۰/۲۵) $v^2 = v_0^2 + 2a\Delta x$ (۰/۲۵) $v^2 = 100 + (2 \times 1/5 \times 500)$ (۰/۲۵) $v = 40 m/s$ (۰/۲۵) ص.۱۸	۱
۴	$\Delta x = \frac{1}{2}at^2 + v_0t$ (۰/۲۵) $\Delta x = \frac{1}{2}(-2)t^2 + t = -t^2 + t$ (۰/۲۵) $\Delta x = -9 + 3 - 0 = -6m$ (۰/۲۵) ۱۷.ص (۰/۲۵)	۰/۲۵
۵	(الف) درست ص.۱۵ (ب) درست ص.۱۶ (پ) درست ص.۲۲ (ت) نادرست ص.۲۴ (ث) نادرست ص.۴۵ (ج) درست ص.۲۷ هر مورد (۰/۲۵)	۱/۵
۶	$Kx - mg = ma$ (۰/۲۵) $(1000 \cdot N/m)(L - 0.2m) - (2kg \times 10 \cdot N/kg) = (2kg)(-2m/s^2)$ (۰/۵) $L = 0.216m$ (۰/۲۵) ۵۱.ص (۰/۲۵)	۱
۷	(الف) مربع تکانه ص.۴۵ (ب) کاهش ص.۸۶ (پ) کوتاه‌تر ص.۶۸ (ت) بلندی ص.۷۴ (ث) دیدگاه کلاسیکی ص.۹۷ (ج) پایه ص.۱۰۶ هر مورد (۰/۲۵)	۱/۵
۸	$F_N = mg = 20N$ (۰/۲۵) $F - f_k = 0$ (۰/۲۵) $f_k = F = 10N$ (۰/۲۵) $(10N) = \mu_k(20N)$ (۰/۲۵) $\mu_k = 0.5$ (۰/۲۵) ۴۰.ص (۰/۲۵)	۱/۲۵
۹	$\frac{g}{g_e} = \frac{M}{M_e} \times \left(\frac{R_e}{R}\right)^2$ (۰/۲۵) $\frac{g}{g_e} = \frac{\Delta M_e}{M_e} \times \left(\frac{R_e}{2R_e}\right)^2$ (۰/۲۵) $\frac{g}{g_e} = \frac{\Delta}{4}$ (۰/۲۵) ۴۹.ص (۰/۲۵)	۰/۲۵
۱۰	(الف) $v_{Max} = AW$ (۰/۲۵) $v_{Max} = 0.02 \times 10 \times 3$ (۰/۲۵) $v_{Max} = 0.6 m/s$ (۰/۲۵) (ب) $x = -A \cos 10\pi t = -1$ (۰/۲۵) $10\pi t = \pi$ (۰/۲۵) $t = 0.1 s$ (۰/۲۵) ۵۹.ص (۰/۲۵)	۱/۵
۱۱	(الف) شتاب گرانشی - طول آونگ (۰/۵) ۵۹.ص (ب) نوسانی است که نوسانگرمی تواند با اعمال یک نیروی خارجی، با بسامدهای دیگری نیز به نوسان درآید. (۰/۵) ۶۰.ص (۰/۵)	۱

مدت امتحان: ۱۲۰ دقیقه	ساعت شروع: ۱۰ صبح	رشته: علوم تجربی	راهنمای تصحیح امتحان نهایی درس: فیزیک ۳
تاریخ امتحان: ۱۳۹۷/۱۰/۵		پایه دوازدهم دوره دوم متوسطه	
مرکز سنجش آموزش و پرورش http://aee.medu.ir		دانش آموزان بزرگسال و داوطلبان آزاد سراسر کشور دی ماه سال ۱۳۹۷	

نمره	ادامه پاسخها	ردیف
۰/۷۵	$\frac{v_A}{v_B} = \sqrt{\frac{m_B}{m_A}}$ $\frac{v_A}{v_B} = \sqrt{\frac{2/2}{0.8}}$ $\frac{v_A}{v_B} = 2$ (۰/۲۵) (۰/۲۵) (۰/۲۵)	۱۲ ص. ۶۵
۰/۷۵	$\beta_1 - \beta_2 = 10 \log \frac{I_1}{I_2}$ $20 \text{ dB} = 10 \log \frac{I_1}{I_2}$ $\frac{I_1}{I_2} = 100$ ص. ۹۲ (۰/۲۵) (۰/۲۵)	۱۳
۰/۷۵	$\frac{n'}{n} = \frac{\lambda}{\lambda'}$ $\frac{n'}{1} = \frac{6328 \text{ nm}}{474 \text{ nm}}$ $n' = 1/33$ (۰/۲۵) (۰/۲۵) (۰/۲۵)	۱۴ ص. ۹۴
۰/۷۵	(الف) جهت +Z (۰/۲۵) ص. ۶۷ (ب) طول موج صوت برای ناظر A کاهش و برای ناظر B افزایش می یابد. (۰/۵) ص. ۷۵	۱۵
۰/۷۵	$E_n = \left(-\frac{E_R}{n^2}\right)$ $\Delta E = \left(\frac{-13/6}{9} - \frac{-13/6}{1}\right)$ $\Delta E = 12/0.9 \text{ eV}$ (۰/۲۵) (۰/۲۵) (۰/۲۵)	۱۶ ص. ۱۰۶
۰/۷۵	$\frac{1}{\lambda} = R \left(\frac{1}{n'^2} - \frac{1}{n^2}\right)$ $\frac{1}{\lambda} = 0.11 \text{ nm}^{-1} \left(\frac{1}{9} - \frac{1}{16}\right)$ $\lambda \cong 1870 \text{ nm}$ (۰/۲۵) (۰/۲۵) (۰/۲۵)	۱۷ ص. ۱۰۱
۱/۵	(الف) هم بسامد، هم جهت و هم فاز هر مورد (۰/۲۵) ص. ۱۱۱ (ب) طیف گسیلی از اتم پیوسته است. (۰/۲۵) ص. ۱۰۴ (پ) در این مدل نیروی الکتریکی که یک الکترون به الکترون دیگر وارد می کند به حساب نیامده است. (۰/۵) ص. ۱۰۹	۱۸
۰/۱۵	${}_{93}^{237}\text{Np} \rightarrow {}_{94}^{237}\text{Y} + {}_{-1}^0\text{e}^-$ (۰/۵) ص. ۱۱۷	۱۹
۰/۷۵	$\frac{N_0}{2^n} = \frac{N_0}{16}$ $n = 4$ $T_{1/2} = \frac{t}{n} = \frac{12}{4} = 3 \text{ ساعت}$ (۰/۲۵) (۰/۲۵) (۰/۲۵)	۲۰ ص. ۱۲۰
۲۰	" در نهایت، نظر همکاران محترم صائب است "	

سؤالات امتحان نهایی درس : فیزیک ۳	رشته : علوم تجربی	نام و نام خانوادگی :	ساعت شروع : ۸ صبح
پایه دوازدهم دوره دوم متوسطه	تعداد صفحه : ۳	تاریخ امتحان : ۹۸/۰۳/۵	مدت امتحان : ۱۲۰ دقیقه
دانش آموزان روزانه، بزرگسال و داوطلبان آزاد سراسر کشور در نوبت خرداد ماه سال ۱۳۹۸ مرکز سنجش و پایش کیفیت آموزشی http://aee.medu.ir			

توجه: استفاده از ماشین حساب ساده (دارای چهار عمل اصلی، جذر و درصد) مجاز می باشد.

ردیف	سؤالات (پاسخ نامه دارد)	نمره
۱	الف) بردار مکان را تعریف کنید. ب) در چه صورت اندازه سرعت متوسط متحرک با تندی متوسط آن برابر می شود؟	۰/۵ ۰/۵
۲	نمودار سرعت- زمان متحرکی که در حال حرکت در امتداد محور X است در شکل زیر نشان داده شده است. الف) مساحت سطح بین منحنی سرعت و محور زمان در هر بازه زمانی برابر چه کمیتی است؟ ب) در کدام بازه زمانی بردار شتاب در جهت محور X است؟ پ) در بازه زمانی t_1 تا t_2 حرکت تندشونده است یا کندشونده؟ ت) در چه لحظه ای جهت حرکت متحرک تغییر کرده است؟	۱
۳	سرعت متوسط خودرویی که از حال سکون با شتاب $1/5 \text{ m/s}^2$ در امتداد محور X به حرکت در می آید در ۴s اول حرکت، چند متر بر ثانیه است؟	۱/۵
۴	نمودار شتاب- زمان متحرکی که در امتداد محور X حرکت می کند مطابق شکل زیر است. توضیح دهید کدام یک از نمودارهای مکان- زمان شکل های (الف) یا (ب) می تواند متناظر با این نمودار شتاب- زمان باشد.	۰/۵
۵	چتربازی در هوای آرام و در امتداد قائم در حال سقوط است. با رسم شکل، نیروهای وارد بر چترباز را مشخص کرده و تعیین کنید واکنش هر یک از این نیروها به چه جسمی وارد می شود؟	۱
۶	دانش آموزی به جرم 60 kg روی یک ترازوی فنری در آسانسور ساکن، ایستاده است. آسانسور با شتاب $1/2 \text{ m/s}^2$ به طرف بالا شروع به حرکت می کند. در این حالت ترازو چند نیوتون را نشان می دهد؟ ($g=9/8 \text{ N/kg}$)	۰/۷۵
	ادامه سؤالات در صفحه دوم	

سؤالات امتحان نهایی درس : فیزیک ۳	رشته : علوم تجربی	نام و نام خانوادگی :	ساعت شروع : ۸ صبح
پایه دوازدهم دوره دوم متوسطه	تعداد صفحه: ۳	تاریخ امتحان: ۹۸/۰۳/۵	مدت امتحان: ۱۲۰ دقیقه
دانش آموزان روزانه، بزرگسال و داوطلبان آزاد سراسر کشور در نوبت خرداد ماه سال ۱۳۹۸ مرکز سنجش و پایش کیفیت آموزشی http://aee.medu.ir			

توجه: استفاده از ماشین حساب ساده (دارای چهار عمل اصلی، جذر و درصد) مجاز می باشد.

ردیف	سؤالات (پاسخ نامه دارد)	نمره
۷	آزمایشی طراحی کنید که با آن بتوانید ضریب اصطکاک ایستایی (μ_s) بین یک مکعب چوبی با وجوه مشابه و میز افقی را اندازه بگیرید.	۱
۸	گلوله‌ای به جرم 0.5kg با تندی افقی 20m/s به دیواری برخورد می کند و بصورت افقی با تندی 15m/s در جهت مخالف برمی گردد. اندازه تغییر تکانه گلوله را محاسبه کنید.	۰/۷۵
۹	دو گره توپر همگن به جرم‌های 120kg و 40kg را در نظر بگیرید که فاصله مرکز آنها از یکدیگر 4m است. نیروی گرانشی که این دو کره به یکدیگر وارد می کنند چند نیوتون است؟ ($G = 6.67 \times 10^{-11} \text{Nm}^2/\text{kg}^2$)	۰/۷۵
۱۰	در شکل زیر نمودار مکان - زمان نوسانگر هم‌هنگ ساده جرم - فنری با دوره 0.04s و دامنه نوسان 4cm نشان داده شده است. اگر ثابت فنر این نوسانگر 60N/m باشد؛ الف) انرژی مکانیکی این نوسانگر چند ژول است؟ ب) مقدار t_1 چند ثانیه است؟ ($\cos \frac{\pi}{3} = \frac{1}{2}$)	۰/۷۵ ۰/۷۵
۱۱	الف) موج ایجاد شده در فنر شکل روبه‌رو طولی است یا عرضی؟ ب) چرا به این موج پیش‌رونده می گویند؟ پ) ریسمانی به جرم 0.5kg و طول 6m را با نیروی 3N می کشیم. تندی انتشار موج در این ریسمان چند متر بر ثانیه است؟	۰/۲۵ ۰/۲۵ ۰/۷۵
۱۲	درستی یا نادرستی گزاره های زیر را با واژه‌های ((درست)) یا ((نادرست)) در پاسخ‌نامه مشخص کنید. الف) اندازه شتاب نوسانگر هم‌هنگ ساده در نقاط بازگشتی صفر است. ب) بسامد سامانه جرم - فنر با یک فنر معین ولی وزنه‌های متفاوت با جذر جرم وزنه به‌طور مستقیم متناسب است. پ) با افزایش دما در یک منطقه، ساعت آونگ‌دار (با آونگ ساده) عقب می افتد. ت) اگر بسامد نوسان‌های واداشته بیشتر از بسامد طبیعی آونگ ساده باشد، برای آونگ تشدید رخ نمی دهد. ث) تندی انتشار امواج الکترومغناطیسی در خلاء از رابطه $c = \sqrt{\mu_0 \epsilon_0}$ بدست می آید. ج) بسامد موج فرابنفش بیشتر از بسامد میکروموج است.	۱/۵
ادامه سؤالات در صفحه سوم		

سؤالات امتحان نهایی درس : فیزیک ۳	رشته : علوم تجربی	نام و نام خانوادگی :	ساعت شروع : ۸ صبح
پایه دوازدهم دوره دوم متوسطه	تعداد صفحه: ۳	تاریخ امتحان: ۹۸/۰۳/۵	مدت امتحان: ۱۲۰ دقیقه
دانش آموزان روزانه، بزرگسال و داوطلبان آزاد سراسر کشور در نوبت خرداد ماه سال ۱۳۹۸ مرکز سنجش و پایش کیفیت آموزشی http://aee.medu.ir			

توجه: استفاده از ماشین حساب ساده (دارای چهار عمل اصلی، جذر و درصد) مجاز می باشد.

ردیف	سؤالات (پاسخ نامه دارد)	نمره										
۱۳	یک دستگاه صوتی صدایی با تراز شدت $\beta_1 = 80 \text{ dB}$ و دستگاه صوتی دیگر، صدایی با تراز شدت $\beta_2 = 90 \text{ dB}$ ایجاد می کند. شدت های مربوط به این دو تراز (برحسب W/m^2) به ترتیب I_1 و I_2 هستند. I_2 چند برابر I_1 است؟	۰/۷۵										
۱۴	گزاره های زیر را با واژه مناسب کامل کنید. (الف) به هر یک از برآمدگی ها یا فرورفتگی های ایجاد شده روی سطح آب یک تشت موج می گویند. (ب) مکان یابی پژواکی به همراه اثر دوپلر در تعیین و تعیین اجسام متحرک به کار می رود. (پ) با افزایش دمای هوا، ضریب شکست هوا می یابد.	۱										
۱۵	طول موج نور قرمز لیزر در هوا حدود 630 nm و در محیط شیشه حدود 420 nm است. تندی این نور در شیشه را محاسبه کنید (تندی نور در هوا $3 \times 10^8 \text{ m/s}$ فرض شود).	۰/۷۵										
۱۶	از داخل پراکنش گزینه درست را انتخاب کنید و در پاسخ نامه بنویسید. (الف) در گسیل (القایی - خودبه خود) فوتون در جهتی کاتوره ای گسیل می شود. (ب) خواص شیمیایی هر اتم را تعداد (نوترون های - پروتون های) هسته تعیین می کند. (پ) نیروی هسته ای بین نوکلئون ها (کوتاه برد - بلند برد) است. (ت) در دماهای معمولی، بیشتر تابش گسیل شده از سطح اجسام در ناحیه (فروسرخ - نور مرئی) قرار دارد.	۱										
۱۷	(الف) توضیح دهید برای یک فلز معین، افزایش شدت نور فرودی در بسامدهای بزرگ تر از بسامد آستانه چه تاثیری در نتیجه اثر فوتوالکتریک دارد؟ (ب) دو مورد از نازسایه های مدل بور را بنویسید. (پ) طول موج سومین خط طیفی اتم هیدروژن در رشته بالمر ($n' = 2$) چند نانومتر است؟ ($R \approx 1.09 \times 10^7 \text{ m}^{-1}$)	۰/۲۵ ۰/۵ ۰/۷۵										
۱۸	اگر شدت تابشی متوسط خورشید در سطح زمین به ازای هر متر مربع حدود 330 W/m^2 باشد در هر دقیقه چند فوتون به هر متر مربع از سطح زمین می رسد؟ طول موج متوسط فوتون ها را 570 nm فرض کنید. ($h = 6.6 \times 10^{-34} \text{ J.s}$, $C = 3 \times 10^8 \text{ m/s}$)	۱										
۱۹	هر یک از گزاره های ستون (الف) تنها به یک واپاشی در ستون (ب) ارتباط دارد. گزاره مرتبط با هر واپاشی را در پاسخ نامه مشخص کنید (در ستون (ب) یک مورد اضافه است).	۰/۷۵										
	<table border="1"> <thead> <tr> <th>ستون (الف)</th> <th>ستون (ب)</th> </tr> </thead> <tbody> <tr> <td>(۱) پرتوهای این واپاشی بیشترین نفوذ را در ورقه سرب دارند.</td> <td>a. آلفا</td> </tr> <tr> <td>(۲) نوترون درون هسته به الکترون و پروتون تبدیل می شود.</td> <td>b. بتای مثبت</td> </tr> <tr> <td>(۳) این نوع واپاشی در هسته های سنگین صورت می گیرد.</td> <td>c. بتای منفی</td> </tr> <tr> <td></td> <td>d. گاما</td> </tr> </tbody> </table>	ستون (الف)	ستون (ب)	(۱) پرتوهای این واپاشی بیشترین نفوذ را در ورقه سرب دارند.	a. آلفا	(۲) نوترون درون هسته به الکترون و پروتون تبدیل می شود.	b. بتای مثبت	(۳) این نوع واپاشی در هسته های سنگین صورت می گیرد.	c. بتای منفی		d. گاما	۰/۷۵
ستون (الف)	ستون (ب)											
(۱) پرتوهای این واپاشی بیشترین نفوذ را در ورقه سرب دارند.	a. آلفا											
(۲) نوترون درون هسته به الکترون و پروتون تبدیل می شود.	b. بتای مثبت											
(۳) این نوع واپاشی در هسته های سنگین صورت می گیرد.	c. بتای منفی											
	d. گاما											
۲۰	نیمه عمر بیسموت ۲۱۲، حدود یک ساعت است. پس از گذشت ۵ ساعت، در نمونه ای از این بیسموت چه کسری از ماده اولیه باقی می ماند؟	۰/۷۵										
۲۰	موفق باشید.	جمع نمره										

مدت امتحان: ۱۲۰ دقیقه	ساعت شروع: ۸ صبح	رشته: علوم تجربی	راهنمای تصحیح امتحان نهایی درس: فیزیک ۳
تاریخ امتحان: ۱۳۹۸/۰۳/۵		پایه دوازدهم دوره دوم متوسطه	
مرکز سنجش و پایش کیفیت آموزشی http://aee.medu.ir		دانش آموزان روزانه، بزرگسال و داوطلبان آزاد سراسر کشور خرداد ماه سال ۱۳۹۸	

ردیف	راهنمای تصحیح	نمره
۱	الف) برداری که مبداء محور را به مکان جسم در هر لحظه وصل می کند. (۰/۵) ب) متحرک روی خط راست و بدون تغییر جهت حرکت کند. (۰/۵)	۴۰.ص
۲	الف) جابجایی (ب) صفر تا t_1 (پ) تندشونده (ت) t_2 هر مورد (۰/۲۵) ص. ۱۷ و ۱۹	۱
۳	$\Delta x = 1/2 at^2 + v_0 t$ (۰/۲۵) $v_{av} = \frac{\Delta x}{\Delta t}$ (۰/۲۵) ص. ۱۷	۱/۵
	$\Delta x = 1/2 \times (1/5) \times (4)^2 + 0$ (۰/۲۵) $v_{av} = \frac{12}{4} = 3 m/s$ (۰/۲۵)	
	$\Delta x = 12 m$ (۰/۲۵) $v_{av} = 3 m/s$ (۰/۲۵)	
۴	در نمودار مکان-زمان، جهت تقعر باید در بازه صفر تا t_1 رو به پایین و در بازه زمانی t_1 تا t_2 جهت تقعر رو به بالا باشد (۰/۲۵). نمودار (الف) (۰/۲۵)	۰/۵
۵	رسم دو نیروی وزن و مقاومت هوا روی شکل (۰/۵) واکنش نیروی مقاومت هوا به مولکولهای هوا (۰/۲۵) واکنش نیروی وزن به مرکز زمین (۰/۲۵)	۱ ۵۰.ص
۶	$F_N - W = ma$ (۰/۲۵) ص. ۳۶ $F_N = 60 \times (1/2 + 9/8)$ (۰/۲۵) $F_N = 660 N$ (۰/۲۵)	۰/۷۵
۷	مکعب چوبی را روی میز افقی قرار می دهیم و نیروسنج را به مکعب چوبی وصل می کنیم و سر دیگر نیروسنج را با دست به طور افقی می کشیم. نیروی دست را به آرامی افزایش می دهیم تا جایی که مکعب در آستانه لغزیدن قرار گیرد (۰/۲۵) عددی که در این حالت نیروسنج نشان می دهد $f_{s,Max}$ است. (۰/۲۵) پس از اندازه گیری جرم مکعب بنا به قانون دوم نیوتون؛ $F_N = mg$, $f_{s,Max} = \mu_s F_N$ (۰/۲۵) , $\mu_s = \frac{f_{s,Max}}{mg}$ (۰/۲۵) ص. ۳۹	۱
۸	$\Delta p = m(v_2 - v_1)$ (۰/۲۵) ص. ۴۶ $ \Delta p = 0.05 \times (-15 - 20) $ (۰/۲۵) $ \Delta p = 1.75 \text{ kg.m/s}$ (۰/۲۵)	۰/۷۵
۹	$F = G \frac{m_1 m_2}{r^2}$ (۰/۲۵) ص. ۴۷ $F = 6/6 \times 10^{-11} \times \frac{4.0 \times 12.0}{4^2}$ (۰/۲۵) $F = 1/98 \times 10^{-8} N$ (۰/۲۵)	۰/۷۵
۱۰	الف) $E = \frac{1}{2} kA^2$ (۰/۲۵) $E = \frac{1}{2} \times (60) \times (0.04)^2$ (۰/۲۵) $E = 4/8 \times 10^{-2} J$ (۰/۲۵) ب) $x = A \cos \frac{2\pi}{T} t_1$ (۰/۲۵) ص. ۸۹ و ۵۸ $y = \epsilon \cos \frac{2\pi}{T} t_1$ (۰/۲۵) $\frac{2\pi}{T} t_1 = \frac{\pi}{3}$ $t_1 = \frac{1}{150} s$ (۰/۲۵)	۱/۵
ادامه راهنمای تصحیح در صفحه دوم		

مدت امتحان: ۱۲۰ دقیقه	ساعت شروع: ۸ صبح	رشته: علوم تجربی	راهنمای تصحیح امتحان نهایی درس: فیزیک ۳
تاریخ امتحان: ۱۳۹۸/۰۳/۵		پایه دوازدهم دوره دوم متوسطه	
مرکز سنجش و پایش کیفیت آموزشی http://aee.medu.ir		دانش آموزان روزانه، بزرگسال و داوطلبان آزاد سراسر کشور خرداد ماه سال ۱۳۹۸	

ردیف	ادامه راهنمای تصحیح	نمره
۱۱	الف) طولی (۰/۲۵) ب) این موج با حرکت از نقطه‌ای به نقطه دیگر، انرژی را منتقل می‌کند. (۰/۲۵) پ)	۱/۲۵
	$v = \sqrt{\frac{FL}{m}} \quad v = \sqrt{\frac{3 \times 6}{0.5}} \quad v = 6 \text{ m/s}$ (۰/۲۵) (۰/۲۵) (۰/۲۵) ص. ۶۲ و ۶۵	
۱۲	الف) نادرست ص. ۸۹ ب) نادرست ص. ۵۷ ج) درست ص. ۶۸ د) نادرست ص. ۶۷	۱/۵
۱۳	الف) $I_2 = 10 I_1$ (۰/۲۵) ب) $90 - 80 = 10 \log \frac{I_2}{I_1}$ (۰/۲۵) ج) $\beta_2 - \beta_1 = 10 \log \frac{I_2}{I_1}$ (۰/۲۵)	۰/۷۵
۱۴	الف) جبهه موج (۰/۲۵) ص. ۶۳ ب) مکان (۰/۲۵) - تندی (۰/۲۵) ص. ۷۹ پ) کاهش (۰/۲۵) ص. ۸۶	۱
۱۵	الف) $v_2 = 2 \times 10^8 \text{ m/s}$ (۰/۲۵) ب) $\frac{3 \times 10^8}{v_2} = \frac{630}{420}$ (۰/۲۵) ج) $\frac{v_1}{v_2} = \frac{\lambda_1}{\lambda_2}$ (۰/۲۵)	۰/۷۵
۱۶	الف) خودبه‌خود ص. ۱۱۰ ب) پروتون‌های ص. ۱۱۳ پ) کوتاه برد ص. ۱۱۴ ت) فروسرخ ص. ۹۹	۱
۱۷	الف) سبب افزایش تعداد فوتوالکترون‌ها می‌شود. (۰/۲۵) ص. ۹۷ ب) این مدل برای وقتی که بیش از یک الکترون باشد به کار نمی‌رود. (۰/۲۵) نمی‌تواند در مورد شدت خط‌های طیف گسیلی توضیح دهد. (۰/۲۵) ص. ۱۰۹ پ)	۱/۵
	$\frac{1}{\lambda} = R \left(\frac{1}{n_1^2} - \frac{1}{n_2^2} \right) \quad \frac{1}{\lambda} = R \left(\frac{1}{2^2} - \frac{1}{5^2} \right) = \frac{21 \times R}{100} \quad \lambda \approx 476/2 \text{ nm}$ (۰/۲۵) (۰/۲۵) (۰/۲۵)	
۱۸	الف) $n = 5/7 \times 10^{22}$ (۰/۲۵) ب) $330 = \frac{n \times 6/6 \times 10^{-24} \times 3 \times 10^8}{6.0 \times 57.0 \times 10^{-9}}$ (۰/۵) ج) $I = \frac{E}{At} = \frac{nhc}{At\lambda}$ (۰/۲۵) ص. ۱۲۲	۱
۱۹	الف) d (۱) c (۲) a (۳) هر مورد (۰/۲۵) ص. ۱۱۶ و ۱۱۷	۰/۷۵
۲۰	الف) $N = \frac{N_0}{\tau}$ (۰/۲۵) ص. ۱۲۱ ب) $N = \frac{N_0}{\tau}$ (۰/۲۵) ج) $\frac{N}{N_0} = \frac{1}{\tau}$ (۰/۲۵)	۰/۷۵
۲۰	"در نهایت، نظر همکاران محترم صائب است"	

سؤالات امتحان نهایی درس : فیزیک ۳	رشته : ریاضی فیزیک	ساعت شروع : ۸ صبح	مدت امتحان : ۱۱۰ دقیقه
تاریخ امتحان : ۱۳۹۸ / ۶ / ۱۶	تعداد صفحه : ۳	پایه دوازدهم دوره دوم متوسطه	نام و نام خانوادگی :
دانش آموزان روزانه، بزرگسال و داوطلبان آزاد سراسر کشور در نوبت شهریور ماه سال ۱۳۹۸		مرکز سنجش و پایش کیفیت آموزشی http://aee.medu.ir	


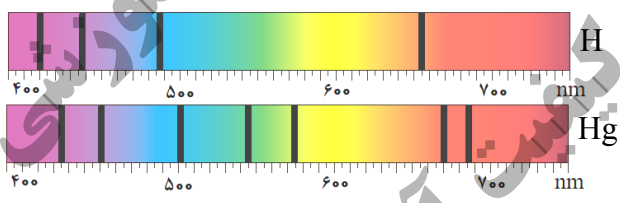
توجه : استفاده از ماشین حساب ساده (دارای چهار عمل اصلی ، جذر و درصد) بلامانع است .

ردیف	سؤالات (پاسخ نامه دارد)	نمره
۱	در جمله های زیر ، جاهای خالی را با کلمه های مناسب تکمیل کنید : الف) تغییرات سرعت متحرک در بازه زمانی تغییرات را می گویند . ب) حرکت متحرکی رو به شرق و کندشونده است . جهت بردار شتاب این متحرک رو به است . پ) در حرکت بر روی و بدون تغییر جهت ، مسافت با جابه جایی برابر است . ت) سقوط آزاد ، حرکتی است که تنها تحت تأثیر نیروی انجام می گیرد .	۱
۲	معادله مکان زمان متحرکی در SI به صورت $x = 2t^2 - 3t - 8$ است . الف) اندازه سرعت متوسط آن در بازه زمانی $t_1 = 0s$ تا $t_2 = 2s$ چند متر بر ثانیه است ؟ ب) شتاب حرکت آن چند متر بر مربع ثانیه است ؟	۱ ۰/۵
۳	نمودار سرعت - زمان جسمی که بر روی محور X حرکت می کند ، مطابق شکل است . الف) در کدام بازه زمانی حرکت جسم کندشونده و در کدام بازه تندشونده است ؟ ب) شتاب متوسط در کل زمان حرکت مثبت است یا منفی ؟ چرا ؟ پ) سطح محصور در این نمودار کدام کمیت را نشان می دهد ؟	۰/۵ ۰/۵ ۰/۲۵
۴	در جمله های زیر ، عبارت درست را از داخل پرانتز انتخاب کرده و در پاسخ برگ بنویسید : الف) شتاب ایجاد شده در جسم به علت تأثیر یک نیروی خالص ، با جرم جسم نسبت (وارون - مستقیم) دارد . ب) اگر جسم ساکنی به حرکت در آید ، در شروع حرکت بردارهای سرعت و (مکان - شتاب) هم جهت اند . پ) در حرکت یک جسم ، بردار تکانه همواره بر مسیر حرکت (مماس - عمود) است . ت) سطح زیر نمودار نیرو - زمان برای یک جسم ، با تغییر (تکانه - سرعت) جسم ، برابر است . ث) وقتی جسم متصل به نخ را بصورت افقی می چرخانیم ، نیروی مرکزگرا نیروی (کشش نخ - کشسانی) است . ج) نیروی گرانشی بین دو ذره با (فاصله - مربع فاصله) آن ها از یکدیگر نسبت وارون دارد .	۱/۵
۵	شکل مقابل ، آزمایشی را نشان می دهد : هدف از انجام این آزمایش چیست ؟ اگر جرم قطعه چوب را تغییر دهیم ، چه نتیجه ای در مورد $f_{s\max}$ می گیریم ؟	۰/۲۵
	ادامه سؤالات در صفحه دوم	

سؤالات امتحان نهایی درس: فیزیک ۳	رشته: ریاضی فیزیک	ساعت شروع: ۸ صبح	مدت امتحان: ۱۱۰ دقیقه
تاریخ امتحان: ۱۳۹۸ / ۶ / ۱۶	تعداد صفحه: ۳	پایه دوازدهم دوره دوم متوسطه	نام و نام خانوادگی:
دانش آموزان روزانه، بزرگسال و داوطلبان آزاد سراسر کشور در نوبت شهریور ماه سال ۱۳۹۸		مرکز سنجش و پایش کیفیت آموزشی http://aee.medu.ir	

ردیف	سؤالات (پاسخ نامه دارد)	نمره
۶	الف) جسمی به جرم 3 kg را به انتهای فنری با ثابت 50 N/cm بسته ایم و فنر را از سقف یک آسانسور آویزان می کنیم. اگر آسانسور با شتاب ثابت به طرف بالا شروع به حرکت کند و تغییر طول فنر 0.72 cm باشد، اندازه شتاب آسانسور چقدر است؟ ($g = 10 \text{ m/s}^2$)	۱
۰/۷۵	ب) سیاره ای به شعاع 10^4 کیلومتر و جرم $2 \times 10^{25} \text{ kg}$ به دور خود می چرخد. شتاب گرانشی در سطح این سیاره چند m/s^2 است؟ ($G \approx 6.7 \times 10^{-11} \text{ Nm}^2/\text{kg}^2$)	۰/۷۵
۷	درستی یا نادرستی جمله های زیر را در مورد یک سامانه جرم - فنر، با علامت های (د) یا (ن) مشخص کنید: الف) اگر ثابت فنر را افزایش دهیم، دوره نوسان ها نیز افزایش می یابد. ب) چون سطح بدون اصطکاک است، انرژی مکانیکی سامانه، پایسته می ماند. پ) بیشینه تندی مربوط به دو انتهای مسیر ($x = \pm A$) است.	۰/۷۵
۸	با توجه به مشخصات بارز امواج الکترومغناطیسی، به پرسش های زیر پاسخ کوتاه دهید: الف) زاویه میدان الکتریکی نسبت به میدان مغناطیسی چگونه است؟ ب) امواج الکترومغناطیسی طولی هستند یا عرضی؟ پ) بسامد میدان های الکتریکی و مغناطیسی نسبت به هم چگونه است؟	۰/۷۵
۹	الف) ارتفاع و بلندی که هر دو به ادراک شنوایی ما مربوط می شوند، هر کدام به کدام کمیت فیزیکی وابسته هستند؟ ب) طول موج نور قرمز رنگ 750 nm است. اگر تندی نور برابر $3 \times 10^8 \text{ m/s}$ باشد، بسامد نور قرمز را حساب کنید.	۰/۵ ۰/۷۵
۱۰	نمودار مکان - زمان یک حرکت هماهنگ ساده به شکل مقابل است. الف) دوره این حرکت چقدر است؟ ب) معادله حرکت آن را بنویسید.	۰/۲۵ ۰/۷۵
۱۱	به پرسش های زیر پاسخ کوتاه دهید: الف) خفایش از چه طریقی مکان یا سرعت اجسام متحرک مقابل خود را تعیین می کند؟ ب) اگر سطح بازتابنده نور مانند آینه، بسیار هموار باشد، بازتاب را چه می گویند؟ پ) معمولاً هر چه طول موج نور کوتاه تر می شود، ضریب شکست یک محیط معین چه تغییری می کند؟ ت) در پدیده پراش، پهنای شکاف از چه مرتبه ای باشد تا موج به اطراف گسترده شود؟	۱
	ادامه سؤالات در صفحه سوم	


سؤالات امتحان نهایی درس: فیزیک ۳	رشته: ریاضی فیزیک	ساعت شروع: ۸ صبح	مدت امتحان: ۱۱۰ دقیقه
تاریخ امتحان: ۱۳۹۸ / ۶ / ۱۶	تعداد صفحه: ۳	پایه دوازدهم دوره دوم متوسطه	نام و نام خانوادگی:
دانش آموزان روزانه، بزرگسال و داوطلبان آزاد سراسر کشور در نوبت شهریور ماه سال ۱۳۹۸		مرکز سنجش و پایش کیفیت آموزشی http://aee.medu.ir	

ردیف	سؤالات (پاسخ نامه دارد)	نمره
۱۲	پرتو نوری از درون شیشه با زاویه تابش 30° وارد محیط شفاف دیگری می شود. اگر زاویه شکست این پرتو در محیط دوم برابر با 45° و تندی نور در شیشه 2×10^8 m/s باشد، تندی نور در محیط دوم چقدر است؟ ($\sin 30^\circ = \frac{1}{2}$, $\sin 45^\circ = \frac{\sqrt{2}}{2}$)	۰/۷۵
۱۳	در طنابی با دو انتهای ثابت، موج ایستاده ای با چهار گره ایجاد شده است. تندی انتشار موج در طناب 240 m/s و فاصله دو گره متوالی 10 cm است. الف) وضعیت نوسانی طناب را رسم کنید. ب) طول طناب چند سانتی متر است؟ پ) بسامد نوسان ها چقدر است؟	۱/۵
۱۴	الف) شکل (۱) بیانگر کدام پدیده در فیزیک جدید است؟ ب) شکل های (۱) و (۲) چه تفاوت مهمی دارند؟ 	۰/۲۵ ۰/۷۵
۱۵	شکل مقابل، طیف جذبی گازهای هیدروژن و جیوه را نشان می دهند: الف) خط های تیره در زمینه طیف معرف چیست؟ ب) از مقایسه این دو طیف چه نتیجه مهمی می گیریم؟ 	۰/۵ ۰/۵
۱۶	الکترونی در اتم هیدروژن در دومین حالت برانگیخته قرار دارد. انرژی الکترون را در این حالت حساب کنید. ($E_R = 13/6$ eV)	۰/۷۵
۱۷	الف) کاستی جرم هسته چیست؟ ب) معادله واپاشی داده شده را کامل کنید: ${}_{91}^{231}\text{Pa} \rightarrow {}_2^4\alpha + \dots$ پ) شکافت هسته یعنی چه؟	۰/۵ ۰/۵ ۰/۵
۱۸	نیمه عمر یک ماده رادیواکتیو حدود ۱۵ ساعت است. پس از گذشت ۶۰ ساعت، چه کسری از هسته های فعال آن، باقی مانده اند؟	۱
	موفق و سربلند باشید	۲۰

راهنمای تصحیح امتحان نهایی درس فیزیک 3	رشته: ریاضی فیزیک
پایه دوازدهم دوره دوم متوسطه	تاریخ امتحان: 1398 / 6 / 16
دانش آموزان روزانه، بزرگسال و داوطلبان آزاد سراسر کشور در نوبت شهریور ماه سال 1398	مرکز سنجش و پایش کیفیت آموزشی http://aee.medu.ir

ردیف	پاسخ ها	نمره
1	الف) شتاب متوسط (ب) غرب (پ) خط راست (ت) گرانش	هر مورد (0/25) ص 11 و 16 و 2 و 21
2	الف) (0/25) $x_2 = -6\text{ m}$ (0/25) $v_{av} = \frac{-6 - (-8)}{2 - 0} = 1\text{ m/s}$ ب) (0/25) $a = 4\text{ m/s}^2$ (0/25) $x_1 = -8\text{ m}$ (0/25) $v_{av} = \frac{\Delta x}{\Delta t}$ (0/25) $\frac{1}{2}a = 2$	1/5 ص 5 و 17
3	الف) کندشونده: t تا 2t (0/25) و تندشونده: 2t تا 3t (0/25) ب) مثبت (0/25)، چون شیب خطی که ابتدای نمودار را به انتهای آن وصل می کند، مثبت است (0/25) پ) جابه جایی (0/25)	1/25 ص 12
4	الف) وارون (ب) شتاب (پ) مماس (ت) تکانه (ث) کشش نخ (ج) مربع فاصله	هر مورد (0/25) ص 32 و 33 و 47 و 52 و 54
5	برای اندازه گیری ضریب اصطکاک ایستایی (0/25)، نتیجه می گیریم که نیروی $f_{s\text{ max}}$ با نیروی عمودی سطح f_N متناسب است (0/5).	0/75 ص 41
6	الف) (0/25) $kx = m(g+a)$ (0/25) $a = 2\text{ m/s}^2$ ب) (0/25) $g = 13/4\text{ m/s}^2$ (0/25) $F_e - mg = ma$ (0/25) $36 - 30 = 3a$ (0/25) $g = \frac{6/7 \times 10^{-11} \times 2 \times 10^{25}}{(10^7)^2}$ (0/25) $50 \times 0/72 = 30 + 3a$ (0/25) $g = \frac{GM}{r^2}$	1/75 ص 56 و 58
7	الف) (ن) (ب) (د) (پ) (ن)	هر مورد (0/25) ص 65 و 67 و 68 و 69
8	الف) عمود (یا 90°) (ب) عرضی (پ) یکسان است	هر مورد (0/25) ص 75
9	الف) ارتفاع به بسامد (0/25) و بلندی به شدت (0/25) ب) (0/25) $f = 4 \times 10^{14}\text{ Hz}$ (0/25) $f = \frac{3 \times 10^8}{750 \times 10^{-9}}$ (0/25) $f = \frac{v}{\lambda}$	1/25 ص 81 و 87
10	الف) (0/25) $\frac{T}{2} = 0/3 \rightarrow T = 0/6\text{ s}$ ب) (0/25) $x = 0/05 \cos \frac{10\pi}{3}t$ (0/25) $\omega = \frac{2\pi}{0/6} = \frac{10\pi}{3}\text{ rad/s}$ (0/25) $\omega = \frac{2\pi}{T}$	1 ص 85
ادامه پاسخ ها در صفحه دوم		

راهنمای تصحیح امتحان نهایی درس فیزیک 3	رشته: ریاضی فیزیک
پایه دوازدهم دوره دوم متوسطه	تاریخ امتحان: 1398 / 6 / 16
دانش آموزان روزانه، بزرگسال و داوطلبان آزاد سراسر کشور در نوبت شهریور ماه سال 1398	مرکز سنجش و پایش کیفیت آموزشی http://aee.medu.ir

ردیف	پاسخ ها	نمره
11	الف) مکان یابی پژواکی (ب) منظم (آینه ای) (پ) بیشتر می شود (ت) طول موج هر مورد (0/25) ص 92 و 94 و 100 و 102	1
12	$\frac{\sin \theta_2}{\sin \theta_1} = \frac{v_2}{v_1} \quad (0/25)$ $\frac{\sqrt{2}}{2} = \frac{v_2}{2 \times 10^8} \quad (0/25)$ $v_2 = 2\sqrt{2} \times 10^8 \text{ m/s} \quad (0/25)$	0/75
13	الف) شکل (0/25) (ب)  (پ) $n = 3 \quad (0/25)$ $L = n \frac{\lambda}{2} \quad (0/25)$ $L = 3 \times 10 = 30 \text{ cm} \quad (0/25)$ $f = \frac{nv}{2L} \quad (0/25)$ $f = \frac{3 \times 240}{2 \times 0.3} = 1200 \text{ Hz} \quad (0/25)$	1/5
14	الف) پدیده فوتوالکتریک (0/25) (ب) در شکل (1) برهم کنش نور فرودی فرابنفش با کلاهیک برق نما باعث می شود تا ورقه های آن به سرعت به هم نزدیک شوند (0/5) ، در حالی که برهم کنش نور مرئی گسیل شده از یک لامپ رشته ای در شکل (2) ، چنین تأثیری ایجاد نمی کند . (0/25)	1
15	الف) معرف طول موج های جذب شده توسط اتم های گاز هستند (0/5) (ب) طیف گسیلی و جذبی هیچ دو گازی مانند هم نیست . (0/5)	1
16	دومین حالت برانگیخته ، یعنی : $n = 3$ (0/25) $E_n = -\frac{E_R}{n^2} \quad (0/25)$ $E_n = -\frac{13.6}{3^2} = -1.51 \text{ eV} \quad (0/25)$	0/75
17	الف) جرم هسته از مجموع جرم پروتون ها و نوترون های تشکیل دهنده اش ، اندکی کمتر است . این اختلاف جرم را کاستی جرم هسته می گویند . (0/5) (ب) ${}_{91}^{231}\text{Pa} \rightarrow {}_2^4\alpha + {}_{89}^{227}\text{X}$ عدد جرمی (0/25) و عدد اتمی (0/25) (پ) تقسیم شدن یک هسته سنگین به دو هسته با جرم کمتر (0/5)	1/5
18	$n = \frac{t}{T} \quad (0/25)$ $n = \frac{60}{15} = 4 \quad (0/25)$ $N = \frac{N_0}{2^n} \quad (0/25)$ $N = \frac{1}{2^4} N_0 = \frac{1}{16} N_0 \quad (0/25)$	1
20	همکاران محترم ، ضمن عرض خسته نباشید لطفاً برای پاسخ های درست دیگر ، نمره لازم را در نظر بگیرید .	

سؤالات امتحان نهایی درس: فیزیک ۳	رشته: علوم تجربی	پایه دوازدهم دوره دوم متوسطه	ساعت شروع: ۱۰ صبح
تاریخ امتحان: ۹۸/۱۰/۷	تعداد صفحه: ۳	نام و نام خانوادگی:	مدت امتحان: ۱۱۰ دقیقه
دانش آموزان روزانه، بزرگسال و داوطلبان آزاد سراسر کشور در نوبت دی ماه سال ۱۳۹۸		مرکز سنجش و پایش کیفیت آموزشی http://aee.medu.ir	

توجه: استفاده از ماشین حساب ساده (دارای چهار عمل اصلی، جذر و درصد) مجاز می باشد.

ردیف	سؤالات (پاسخ نامه دارد)	نمره
۱	<p>واژه مناسب برای هر گزاره را در پاسخ نامه بنویسید.</p> <p>(الف) یک نیوتون برابر است با مقدار نیروی خالصی که به جسمی به جرم..... کیلوگرم، شتابی برابر 1m/s^2 می دهد.</p> <p>(ب) طبق قانون..... نیوتون، اگر شما دیوار را هل دهید، دیوار نیز شما را هل می دهد.</p> <p>(پ) هر چه فنر را بیشتر فشرده کنیم (در محدوده معینی از تغییر طول فنر)، نیروی کشسانی فنر..... می شود.</p> <p>(ت) وقتی چشمه صوت به ناظر ساکن نزدیک می شود، تجمع جبهه های موج در عقب چشمه..... می شود.</p> <p>(ث) دامنه حرکت هماهنگ ساده..... فاصله نوسانگر از حالت تعادل است.</p> <p>(ج) در تابش پرتو فرابنفش به سطح فلز، الکترون های جدا شده از سطح فلز را..... می نامند.</p> <p>(د) در دماهای معمولی، بیشتر تابش گسیل شده از سطح اجسام در ناحیه..... است.</p>	۱/۷۵
۲	<p>نمودار مکان- زمان متحرکی که روی محور X در حال حرکت است، مطابق شکل زیر است.</p> <p>(شیب خط در بازه صفر تا t_1، ثابت است)</p> <p>(الف) جهت حرکت متحرک چند بار تغییر کرده است؟</p> <p>(ب) حرکت متحرک در بازه زمانی t_2 تا t_3 در کدام جهت است؟</p> <p>(پ) نوع حرکت متحرک در بازه صفر تا t_1 را بنویسید.</p> <p>(ت) علامت شتاب متحرک در بازه زمانی t_3 تا t_4 مثبت است یا منفی؟</p>	۱
۳	<p>شکل روبه رو نمودار سرعت- زمان متحرکی را نشان می دهد که روی محور X در حال حرکت است.</p> <p>(الف) نوع حرکت متحرک در بازه زمانی ۱s تا ۴s تندشونده است یا کندشونده؟ چرا؟</p> <p>(ب) مسافتی که متحرک در بازه زمانی صفر تا ۴s می پیماید چند متر است؟</p>	۰/۵
۴	<p>معادله مکان- زمان متحرکی در حرکت بر روی خط راست در SI، بصورت $x = t^2 - 4t + 3$ است.</p> <p>(الف) جابجایی این متحرک در بازه زمانی صفر تا ۲ ثانیه، چند متر است؟</p> <p>(ب) معادله سرعت- زمان این متحرک را بنویسید.</p>	۰/۷۵ ۰/۷۵
	ادامه سوالات در صفحه دوم	

سؤالات امتحان نهایی درس: فیزیک ۳	رشته: علوم تجربی	پایه دوازدهم دوره دوم متوسطه	ساعت شروع: ۱۰ صبح
تاریخ امتحان: ۹۸/۱۰/۷	تعداد صفحه: ۳	نام و نام خانوادگی:	مدت امتحان: ۱۱۰ دقیقه
دانش آموزان روزانه، بزرگسال و داوطلبان آزاد سراسر کشور در نوبت دی ماه سال ۱۳۹۸		مرکز سنجش و پایش کیفیت آموزشی http://aee.medu.ir	

توجه: استفاده از ماشین حساب ساده (دارای چهار عمل اصلی، جذر و درصد) مجاز می باشد.

ردیف	سؤالات (پاسخ نامه دارد)	نمره
۵	چتربازی در هوای آرام و در امتداد قائم در حال سقوط است. الف) چه نیروهایی بر چترباز وارد می شود؟ ب) در چه صورت تندی چترباز به تندی حدی می رسد؟	۰/۵ ۰/۲۵
۶	نمودار تغییر تکانه متحرکی بر حسب زمان در SI، مطابق شکل روبه رو است. اندازه نیروی خالص متوسط وارد بر این متحرک در بازه زمانی صفر تا ۲s چند نیوتون است؟	۰/۷۵
۷	قطعه چوبی را به طور افقی، روی سطحی افقی پرتاب می کنیم. ضریب اصطکاک جنبشی بین چوب و سطح ۰/۲ است. شتاب حرکت چوب را بدست آورید.	۱/۲۵
	$(g = 10 \text{ m/s}^2)$	
۸	ماهواره‌ای در فاصله ۱۶۰۰ km از سطح زمین روی مدار تقریباً دایره‌ای شکل، به دور زمین می چرخد. وزن این ماهواره در این ارتفاع، چند برابر وزن آن روی سطح زمین است؟	۰/۷۵
	$(R_e = 6400 \text{ km})$	
۹	دوره تناوب آونگ ساده‌ای به طول ۰/۲m در مکانی که $g = 9/80 \text{ m/s}^2$ است، چند ثانیه است؟ $(\pi = 3)$	۰/۷۵
۱۰	برای هر یک از سوالات زیر، گزینه درست را انتخاب کنید و در پاسخ نامه بنویسید. الف) انرژی مکانیکی سامانه جرم-فنر با کدامیک از عوامل زیر متناسب نیست؟ ب) در پدیده تشدید، بسامد نوسانگر ----- بسامد طبیعی آن است؟ پ) فاصله دو جبهه متوالی موج تخت تشکیل شده روی سطح آب برابر؛ ت) بسامد کدامیک از امواج زیر از بسامد امواج فرسرخ بیشتر است؟	۱
	(۱) مربع دامنه نوسان (۲) مربع ثابت فنر (۳) مربع بسامد زاویه‌ای	
	(۱) برابر (۲) بیشتر از (۳) کمتر از	
	(۱) $\lambda/2$ (۲) λ (۳) 2λ	
	(۱) امواج رادیویی (۲) میکروموج (۳) نور مرئی	
	ادامه سوالات در صفحه سوم	

سؤالات امتحان نهایی درس: فیزیک ۳	رشته: علوم تجربی	پایه دوازدهم دوره دوم متوسطه	ساعت شروع: ۱۰ صبح
تاریخ امتحان: ۹۸/۱۰/۷	تعداد صفحه: ۳	نام و نام خانوادگی:	مدت امتحان: ۱۱۰ دقیقه
دانش آموزان روزانه، بزرگسال و داوطلبان آزاد سراسر کشور در نوبت دی ماه سال ۱۳۹۸		مرکز سنجش و پایش کیفیت آموزشی http://aee.medu.ir	

توجه: استفاده از ماشین حساب ساده (دارای چهار عمل اصلی، جذر و درصد) مجاز می باشد.

ردیف	سؤالات (پاسخ نامه دارد)	نمره
۱۱	معادله حرکت هماهنگ ساده یک نوسانگر در SI بصورت $x = 0.1 \cos 5\pi t$ است. در چه زمانی، پس از لحظه صفر، برای نخستین بار تندی نوسانگر به بیشترین مقدار خود می رسد؟	۰/۷۵
۱۲	شکل رو به رو، پرتو نوری را نشان می دهد که از محیط (۱) وارد محیط (۲) می شود. اگر تندی انتشار نور در محیط (۱)، بیشتر از تندی انتشار نور در محیط (۲) باشد، توضیح دهید کدام یک از پرتوهای A یا B، می تواند پرتوی نور در محیط (۲) باشد؟	۰/۷۵
۱۳	دانش آموزی رو به صخره قائمی در فاصله ۲۵۵ متری از صخره ایستاده است و فریاد می زند. اولین پژواک صدای خود را چند ثانیه بعد از فریاد می شنود؟ (سرعت صوت در هوا ۳۴۰ m/s فرض شود)	۰/۷۵
۱۴	تراز شدت صوت یک دستگاه صوتی 100 dB است. شدت این صوت (بر حسب W/m^2) چقدر است؟ ($I_0 = 10^{-12} \text{ W/m}^2$)	۰/۷۵
۱۵	تندی انتشار موج عرضی در سیمی به طول ۲ m و جرم 0.008 kg که بین دو نقطه با نیروی 160 N کشیده شده است، چند متر بر ثانیه است؟	۰/۷۵
۱۶	الف) سه مشخصه بارز امواج الکترومغناطیسی را بنویسید. ب) علت خطوط تاریک در طیف نور خورشید چیست؟	۰/۷۵ ۰/۵
۱۷	درستی یا نادرستی هر یک از گزاره های زیر را با واژه های ((درست)) یا ((نادرست)) در پاسخ نامه مشخص کنید. الف) نیروی هسته ای بین دو پروتون، مستقل از بار الکتریکی است. ب) هسته اتم در واکنش های شیمیایی برانگیخته می شود. پ) ذرات آلفای گسیل شده از هسته های سنگین می توانند مسافت های طولانی را در هوا طی کنند. ت) در فرآیند واپاشی بتای مثبت، یکی از پروتون های درون هسته به یک نوترون و یک پوزیترون تبدیل می شود. ث) هسته هایی که تعداد نوترون مساوی ولی تعداد پروتون متفاوت دارند، ایزوتوپ نامیده می شوند.	۱/۲۵
۱۸	الکترونی از دومین حالت برانگیخته اتم هیدروژن با انرژی $E_2 = -1/5 \text{ eV}$ به حالت پایه با انرژی $E_1 = -13/6 \text{ eV}$ جهش می یابد. طول موج فوتون گسیل شده در این جهش، تقریباً چند نانومتر است؟ ($hc = 1240 \text{ eV.nm}$)	۱
۱۹	الف) نام هر از فرآیندهای a و b را در پاسخ نامه بنویسید؟ ب) کدامیک از فرآیندهای a یا b برای ایجاد باریکه لیزری بکار می رود؟	۰/۵ ۰/۲۵
		
۲۰	نیمه عمر یک ماده پرتوزا، ۴ روز است. پس از گذشت ۲۰ روز چه کسری از هسته های مادر پرتوزای اولیه باقی می ماند؟	۱
۲۰	موفق باشید	

راهنمای تصحیح امتحان نهایی درس: فیزیک ۳	رشته: علوم تجربی	ساعت شروع: ۱۰ صبح	مدت امتحان: ۱۱۰ دقیقه
پایه دوازدهم دوره دوم متوسطه		تاریخ امتحان: ۱۳۹۸/۱۰/۷	
دانش آموزان روزانه، بزرگسال و داوطلبان آزاد سراسر کشور دی ماه سال ۱۳۹۸		مرکز سنجش و پایش کیفیت آموزشی http://aee.medu.ir	
ردیف	راهنمای تصحیح		
۱	(الف) یک ص. ۲۱	(ب) سوم ص. ۲۲	(پ) بیشتر ص. ۴۱
	(ث) بیشینه ص. ۵۵	(ج) فوتوالکترون ص. ۹۷	(د) فروسرخ ص. ۹۹
۲	(الف) دو بار	(ب) خلاف جهت محور X	(پ) سرعت ثابت
	(ت) مثبت		(ت) مثبت
۳	(الف) تند شونده (۰/۲۵) اندازه سرعت افزایش یافته است. (۰/۲۵) ص. ۱۶		
	(ب) ص. ۲۰		
	$l = \frac{1 \times 1}{2} + \left \frac{3 \times (-3)}{2} \right $ (۰/۵)	$l = 0/5 + 4/5 = 5m$ (۰/۵)	
۴	(الف) ص. ۱۷		
	$\Delta x = x_2 - x_1 = (4 - 8 + 3) - 3$ (۰/۵)	$\Delta x = -4m$ (۰/۲۵)	
	(ب) ص. ۱۷		
	$\frac{1}{2} a = 1$ $a = 2m/s^2$ (۰/۲۵)	$v = at + v_0$ (۰/۲۵)	$v = 2t - 4$ (۰/۲۵)
۵	(الف) نیروی وزن (۰/۲۵) و نیروی مقاومت هوا (۰/۲۵)		
	(ب) نیروهای وارد بر چتر باز، متوازن باشد. (۰/۲۵) ص. ۲۵		
۶	(الف) ص. ۴۶		
	$F_{av} = \frac{\Delta p}{\Delta t}$ (۰/۲۵)	$F_{av} = \left \frac{0-10}{2-0} \right = 5N$ (۰/۵)	
۷	(الف) ص. ۵۱		
	$F_{net} = ma$ (۰/۲۵)	$-f_k = ma$ (۰/۲۵)	$-\mu_k \times mg = ma$ (۰/۲۵)
	$a = -0/2 \times 10 = -2m/s^2$ (۰/۵)		
۸	(الف) ص. ۴۹		
	$\frac{w'}{w} = \left(\frac{R_e}{R_e+h} \right)^2$ (۰/۲۵)	$\frac{w'}{w} = \left(\frac{6400}{6400+1600} \right)^2 = \frac{64}{100}$ (۰/۵)	
۹	(الف) ص. ۵۹		
	$T = 2\pi \sqrt{\frac{l}{g}}$ (۰/۲۵)	$T = 2\pi \sqrt{\frac{0/2}{9/8}} = \frac{6}{5} s$ (۰/۵)	
۱۰	(الف) گزینه (۲) ص. ۵۹	(ب) گزینه (۱) ص. ۶۰	(پ) گزینه (۲) ص. ۶۳
	(ت) گزینه (۳) ص. ۶۸		(ت) گزینه (۳) ص. ۶۸
۱۱	(الف) ص. ۸۹		
	$x = 0$ (۰/۲۵)	$\cos 5 \cdot \pi t = \cos \frac{\pi}{4}$ (۰/۲۵)	$5 \cdot \pi t = \frac{\pi}{4}$ $t = 0/1s$ (۰/۲۵)
۱۲	(الف) ص. ۸۵		
	پرتو B، (۰/۲۵) طبق رابطه $\frac{\sin \theta_2}{\sin \theta_1} = \frac{v_2}{v_1}$ ، چون تندی انتشار نور در محیط (۲) کمتر است پس زاویه شکست از زاویه تابش کوچکتر می شود. (۰/۲۵) ص. ۸۵		
۱۳	(الف) ص. ۹۳		
	$t = \frac{2L}{v}$ (۰/۲۵)	$t = \frac{2 \times 255}{340} = 1/5s$ (۰/۵)	
ادامه در صفحه دوم			

مدت امتحان: ۱۱۰ دقیقه	ساعت شروع: ۱۰ صبح	رشته: علوم تجربی	راهنمای تصحیح امتحان نهایی درس: فیزیک ۳
تاریخ امتحان: ۱۳۹۸/۱۰/۷		پایه دوازدهم دوره دوم متوسطه	
مرکز سنجش و پایش کیفیت آموزشی http://aee.medu.ir		دانش آموزان روزانه، بزرگسال و داوطلبان آزاد سراسر کشور دی ماه سال ۱۳۹۸	

ردیف	راهنمای تصحیح	نمره
۱۴	$\beta = 10 \log(I/I_0)$ (۰/۲۵) $100 = 10 \log(I/I_0)$ (۰/۲۵) $I/10^{-12} = 10^{10}$ $I = 10^{-2} W/m^2$ (۰/۲۵) ص. ۷۳	۰/۷۵
۱۵	$v = \sqrt{\frac{F.L}{m}}$ (۰/۲۵) $v = \sqrt{\frac{160 \times 2}{0.008}}$ (۰/۲۵) $v = 200 \text{ m/s}$ (۰/۲۵) ص. ۶۵	۰/۷۵
۱۶	الف) میدان الکتریکی همواره عمود بر میدان مغناطیسی است (۰/۲۵)، این امواج عرضی اند (۰/۲۵)، میدانهای الکتریکی و مغناطیسی با بسامد یکسان و همگام با یکدیگر تغییر می کنند. (۰/۲۵) ص. ۶۷ ب) طول موجهای مربوط به این خطوط، توسط گازهای جو خورشید و جو زمین جذب شده است. (۰/۵) ص. ۱۰۷	۱/۲۵
۱۷	الف) درست ص. ۱۱۴ (ب) نادرست ص. ۱۱۵ (پ) نادرست ص. ۱۱۷ ت) درست ص. ۱۱۸ (ث) نادرست ص. ۱۱۳ هر مورد (۰/۲۵)	۱/۲۵
۱۸	$E_3 - E_1 = \frac{hc}{\lambda}$ (۰/۲۵) $-1/5 \text{ eV} + 13/6 \text{ eV} = \frac{1240 \text{ eV.nm}}{\lambda}$ (۰/۵) $\lambda \approx 102/48 \text{ nm}$ (۰/۲۵) ص. ۱۰۶	۱
۱۹	الف) a گسیل خودبه خود (۰/۲۵) - b گسیل القایی (۰/۲۵) (ب) b (۰/۲۵) ص. ۱۱۱	۰/۷۵
۲۰	$n = \frac{t}{T_1} = \frac{20}{4} = 5$ (۰/۵) $\frac{N}{N_0} = \left(\frac{1}{2}\right)^n$ (۰/۲۵) $\frac{N}{N_0} = \left(\frac{1}{2}\right)^5 = \frac{1}{32}$ (۰/۲۵) ص. ۱۲۱	۱
۲۰	" در نهایت، نظر همکاران محترم صائب است "	۲۰

سؤالات امتحان نهایی درس : فیزیک ۳	رشته : علوم تجربی	نام و نام خانوادگی :	ساعت شروع : ۸ صبح
پایه دوازدهم دوره دوم متوسطه	تعداد صفحه : ۴	تاریخ امتحان : ۹۹/۰۳/۲۵	مدت امتحان : ۱۲۰ دقیقه
دانش آموزان روزانه سراسر کشور در نوبت خرداد ماه سال ۱۳۹۹		مرکز سنجش و پایش کیفیت آموزشی http://aee.medu.ir	

توجه: استفاده از ماشین حساب ساده (دارای چهار عمل اصلی، جذر و درصد) مجاز می باشد.

ردیف	سؤالات بخش الزامی	نمره
	الف) سوالات بخش الزامی دانش آموز عزیز به سؤالات ۱ تا ۱۴ جهت کسب ۱۶ نمره پاسخ دهید (پاسخ نامه دارد)	
۱	در هر یک از گزاره های زیر، واژه مناسب را انتخاب کنید و در پاسخ نامه بنویسید. الف) اگر سرعت متحرک در جهت محور x ، به تدریج (افزایش - کاهش) یابد، شتاب آن در خلاف جهت محور x است. ب) بردار سرعت متوسط متحرک در حرکت روی محور x (خلاف جهت - هم جهت) با بردار جابه جایی است. پ) در حرکت با شتاب ثابت روی محور x ، سرعت متوسط بین دو لحظه t_1 و t_2 ، برابر میانگین (سرعت - شتاب) متحرک این دو لحظه است. ت) در حرکت روی محور x ، وقتی متحرک به مکان آغازین حرکتش باز می گردد (مسافت طی شده - سرعت متوسط) متحرک صفر است.	۱
۲	نمودار شتاب - زمان متحرکی مطابق شکل روبه رو است. کدام یک از نمودارهای سرعت - زمان زیر می تواند متناظر با این نمودار شتاب - زمان باشد؟ توضیح دهید.	۰/۵
	<p>(الف) (ب)</p>	
۳	معادله مکان - زمان متحرکی روی خط راست در SI به صورت $x = -4t + 6$ است. الف) این متحرک در چه لحظه ای از مبدأ مکان عبور کرده است؟ ب) آیا جهت حرکت این متحرک تغییر کرده است؟ پ) نمودار مکان - زمان این متحرک را برای ۳ ثانیه ابتدای حرکت رسم کنید.	۰/۵ ۰/۲۵ ۰/۵
۴	شکل روبه رو نمودار مکان - زمان متحرکی را نشان می دهد که از حالت سکون با شتاب ثابت در امتداد محور x شروع به حرکت می کند. الف) حرکت این متحرک در بازه زمانی صفر تا ۴s، تندشونده است یا کندشونده؟ چرا؟ ب) معادله مکان - زمان این متحرک را بدست آورید.	۰/۵ ۱
	ادامه سؤالات در صفحه دوم	

سؤالات امتحان نهایی درس : فیزیک ۳	رشته : علوم تجربی	نام و نام خانوادگی :	ساعت شروع: ۸ صبح
پایه دوازدهم دوره دوم متوسطه	تعداد صفحه: ۴	تاریخ امتحان: ۹۹/۰۳/۲۵	مدت امتحان: ۱۲۰ دقیقه
دانش آموزان روزانه سراسر کشور در نوبت خرداد ماه سال ۱۳۹۹		مرکز سنجش و پایش کیفیت آموزشی http://aee.medu.ir	

توجه: استفاده از ماشین حساب ساده (دارای چهار عمل اصلی، جذر و درصد) مجاز می باشد.

ردیف	ادامه سوالات	نمره
۵	الف) وقتی در خودروی ساکنی نشسته‌اید و خودرو ناگهان شروع به حرکت می‌کند به صندلی فشرده می‌شوید. علت این پدیده را توضیح دهید. ب) آزمایشی را طراحی کنید که با آن بتوان ثابت فنر را به دست آورد.	۰/۵ ۱
۶	شخصی درون آسانسور ساکن روی ترازوی فنری ایستاده است و ترازو وزن او را ۶۰۰ نیوتون نشان می‌دهد. در لحظه شروع حرکت آسانسور رو به بالا، ترازو عدد ۷۵۰ نیوتون را نشان می‌دهد. شتاب حرکت آسانسور در این لحظه چقدر است؟ ($g = 10 \text{ N/kg}$)	۰/۷۵
۷	مطابق نمودار رو به رو، به جسم ساکنی به جرم ۲kg نیروی خالص افقی بر حسب زمان وارد می‌شود. نیروی خالص متوسط وارد بر جسم را در مدت ۶s به دست آورید. 	۱
۸	جعبه ساکنی به جرم ۴۰kg روی سطح افقی قرار دارد. ابتدا جعبه را با نیروی ثابت افقی ۱۰۰ نیوتون، هل می‌دهیم و جعبه ساکن می‌ماند. هنگامی که نیروی افقی را به ۱۲۰ نیوتون می‌رسانیم، جعبه در آستانه حرکت قرار می‌گیرد؛ الف) ضریب اصطکاک ایستایی بین سطح و جعبه چقدر است؟ ب) نیروی اصطکاک ایستایی در حالت اول چند نیوتون است؟ ($g = 10 \text{ N/kg}$)	۱ ۰/۵
۹	درستی یا نادرستی هر یک از گزاره‌های زیر را با واژه‌های ((درست)) یا ((نادرست)) مشخص کنید. الف) افزایش جرم در سامانه جرم- فنر، با فنر یکسان به گندشدن نوسان‌ها می‌انجامد. ب) یکی از ویژگی‌های امواج پیش‌رونده، انتقال انرژی از یک نقطه به نقطه دیگر در جهت انتشار موج است. پ) برای امواج مکانیکی، تندی انتشار موج طولی در یک محیط جامد کمتر از تندی انتشار موج عرضی در همان محیط است. ت) موج‌های رادیویی برای انتشار خود به محیط مادی نیاز ندارند. ث) گوش انسان قادر به شنیدن صداها با بسامدهای بیشتر از ۲۰۰۰۰ هرتز است. ج) اثر دوپلر برای میکروموج و نور مرئی برقرار نیست. د) با کاهش چگالی هوا، ضریب شکست هوا افزایش می‌یابد.	۱/۷۵
	ادامه سوالات در صفحه سوم	

سؤالات امتحان نهایی درس : فیزیک ۳	رشته : علوم تجربی	نام و نام خانوادگی :	ساعت شروع : ۸ صبح
پایه دوازدهم دوره دوم متوسطه	تعداد صفحه : ۴	تاریخ امتحان : ۹۹/۰۳/۲۵	مدت امتحان : ۱۲۰ دقیقه
دانش آموزان روزانه سراسر کشور در نوبت خرداد ماه سال ۱۳۹۹		مرکز سنجش و پایش کیفیت آموزشی http://aee.medu.ir	

توجه: استفاده از ماشین حساب ساده (دارای چهار عمل اصلی، جذر و درصد) مجاز می باشد.

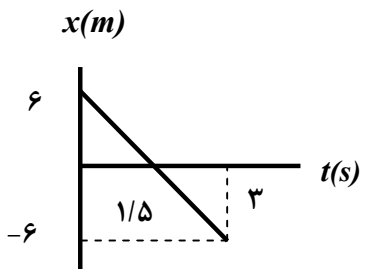
ردیف	ادامه سوالات	نمره
۱۰	معادله حرکت یک نوسانگر هماهنگ ساده در SI به صورت $x = 0.02 \cos(10\pi t)$ است. (الف) در چه لحظه ای پس از لحظه صفر، برای نخستین بار تندی نوسانگر به صفر می رسد؟ (ب) اندازه بیشترین شتاب حرکت این نوسانگر چقدر است؟ ($\pi^2 = 10$)	۰/۷۵ ۰/۷۵
۱۱	شکل زیر موجی عرضی در یک ریسمان را نشان می دهد که با تندی موج v به سمت راست حرکت می کند، در حالی که تندی ذره نشان داده شده ریسمان، v_r است. آیا این دو تندی با هم برابرند؟ توضیح دهید.	۱
۱۲	شخصی میان دو صخره قائم قرار دارد. فاصله شخص از صخره نزدیک تر ۳۴۰ متر است. شخص فریاد می زند و اولین پژواک صدای خود را پس از ۲ ثانیه و صدای پژواک دوم را یک ثانیه بعد از پژواک اول می شنود. فاصله بین دو صخره چند متر است؟	۱
۱۳	یک دستگاه صوتی صدایی با تراز شدت $\beta_1 = 40 \text{ dB}$ و دستگاه صوتی دیگر، صدایی با تراز شدت $\beta_2 = 60 \text{ dB}$ ایجاد می کند. شدت های مربوط به این دو تراز (بر حسب W/m^2) به ترتیب I_1 و I_2 هستند. نسبت $\frac{I_2}{I_1}$ است؟	۱
۱۴	در شکل زیر، پرتوی فرودی I شامل نورهای قرمز و آبی است که از هوا وارد یک محیط شفاف می شود. کدام یک از پرتوهای شکست ۱ یا ۲، مسیر نور قرمز را نشان می دهد؟ توضیح دهید.	۰/۷۵
	ادامه سوالات در صفحه چهارم	

سؤالات امتحان نهایی درس : فیزیک ۳	رشته : علوم تجربی	نام و نام خانوادگی :	ساعت شروع: ۸ صبح
پایه دوازدهم دوره دوم متوسطه	تعداد صفحه: ۴	تاریخ امتحان: ۹۹/۰۳/۲۵	مدت امتحان: ۱۲۰ دقیقه
دانش آموزان روزانه سراسر کشور در نوبت خرداد ماه سال ۱۳۹۹		مرکز سنجش و پایش کیفیت آموزشی http://aee.medu.ir	

توجه: استفاده از ماشین حساب ساده (دارای چهار عمل اصلی، جذر و درصد) مجاز می باشد.

ردیف	سؤالات بخش اختیاری (ب) سوالات بخش اختیاری دانش آموز عزیز جهت کسب ۴ نمره از سوالات ۱۵ تا ۲۲، فقط ۴ سوال را به دلخواه انتخاب کرده و پاسخ دهید.	نمره
۱۵	توضیح دهید: آیا می توان ایزوتوپ ^{۶۱}X را با روش شیمیایی از ایزوتوپ ^{۵۹}X جدا کرد؟ از ایزوتوپ ^{۶۱}Y چطور؟	۱
۱۶	گزاره های زیر را با واژه مناسب کامل کنید. (الف) تشکیل طیف گسیلی توسط جسم جامد، ناشی از برهم کنش قوی بین اتم های سازنده آن است. (ب) در گسیل فوتون در جهتی کاتوره ای گسیل می شود. (پ) به دلیل بودن نیروی رانشی الکتروستاتیکی، یک پروتون تمام پروتون های دیگر درون هسته را دفع می کند. (ت) پرتوهای بیشترین نفوذ را دارند و می توانند از ورقه ای سربی به ضخامت ($\approx 100\text{mm}$) بگذرند.	۱
۱۷	اگر الکترون در اتم هیدروژن از تراز $n=4$ به حالت پایه جهش یابد، انرژی فوتون گسیلی، چند الکترون ولت است؟ ($E_R = 13/6 \text{ ev}$)	۱
۱۸	پس از ۲۱ ساعت، $\frac{1}{128}$ تعداد هسته های اولیه یک ماده پرتوزا، فعال باقی می ماند. نیمه عمر این ماده پرتوزا چند ساعت است؟	۱
۱۹	راننده خودرویی که با سرعت 72km/h در یک مسیر مستقیم در حال حرکت است، با دیدن مانعی، اقدام به ترمز می کند و خودرو پس از طی مسافت ۲۰ متر متوقف می شود. شتاب خودرو را به دست آورید (از زمان واکنش راننده صرف نظر شود).	۱
۲۰	تعریف کنید؛ (الف) نیروی مقاومت شاره (ب) قانون گرانش عمومی	۱
۲۱	در یک تار به طول $1/2 \text{ m}$ و جرم 30g ، تندی انتشار موج عرضی 10m/s است. نیروی کشش این تار چند نیوتون است؟	۱
۲۲	یک فنر روی سطح افقی (بدون اصطکاک) به وزنه ای 200 گرمی متصل است و حرکت هماهنگ ساده، با دامنه 5cm و بسامد زاویه ای 20rad/s انجام می دهد. انرژی مکانیکی این نوسانگر چند ژول است؟	۱
۲۴	سلامت و پیروز باشید	جمع نمره

مدت امتحان: ۱۲۰ دقیقه	ساعت شروع: ۸ صبح	رشته: علوم تجربی	راهنمای تصحیح امتحان نهایی درس: فیزیک ۳
تاریخ امتحان: ۱۳۹۹/۰۳/۲۵		پایه دوازدهم دوره دوم متوسطه	
مرکز سنجش و پایش کیفیت آموزشی http://aee.medu.ir		دانش آموزان روزانه سراسر کشور خرداد ماه سال ۱۳۹۹	

ردیف	راهنمای تصحیح	نمره
۱	الف) کاهش (ب) هم جهت (پ) سرعت (ت) سرعت متوسط هر مورد (۰/۲۵) ص. ۱۹ و ۲۰ و ۲۱	۱
۲	نمودار (ب) (۰/۲۵). علامت شتاب در هر بازه زمانی نمودار شتاب- زمان، متناظر با شیب خط نمودار سرعت- زمان (ب) است (۰/۲۵) ص. ۲۱	۰/۵
۳	الف) (ب) خیر (۰/۲۵) (پ) (۰/۵) $t = \frac{6}{4} = 1/5 \text{ s}$ (۰/۲۵) $v = -4t + 6$ (۰/۲۵)  ص. ۱۳	۱/۲۵
۴	الف) تندشونده (۰/۲۵)، شیب خط مماس بر نمودار مکان- زمان معرف اندازه سرعت متحرک است در جهت محور x حال افزایش است. (۰/۲۵) ص. ۱۶ (ب) ص. ۱۷ $x = \frac{1}{4}at^2 + v.t + x_0$ $v = \left(\frac{1}{4}a \times 16\right) - 4$ $a = \frac{1}{4} \text{ m/s}^2$ $x = \frac{1}{4}t^2 - 4$ (۰/۲۵) (۰/۲۵) (۰/۲۵) (۰/۲۵)	۱/۵
۵	الف) در حرکت ناگهانی خودرو سرنشینان به دلیل خاصیت لختی تمایل دارند به حالت سکون باقی بمانند پس به سمت عقب به صندلی فشرده می شوند. (۰/۵) ص. ۵۰ (ب) فنری با طول اولیه L_0 را از یک نقطه بطور قائم آویزان می کنیم و به سر دیگر آن جسمی به جرم m وصل می کنیم. (۰/۲۵) پس از رسیدن فنر به حالت تعادل، تغییر طول فنر (x) را حساب کرده (۰/۲۵) و از رابطه زیر ثابت فنر به دست می آوریم: $Kx - mg = 0$ (۰/۲۵) $K = \frac{mg}{x}$ (۰/۲۵) ص. ۴۱	۱/۵
۶	$F_N - mg = ma$ $750 - 600 = 60a$ $a = 2/5 \text{ m/s}^2$ (۰/۲۵) (۰/۲۵) (۰/۲۵) ص. ۳۶	۰/۷۵
۷	$\Delta p = \frac{30 \times (4+6)}{4} = 150 \text{ kg} \cdot \frac{\text{m}}{\text{s}}$ (۰/۵) $ F_{av} = \frac{\Delta p}{\Delta t} = \frac{150}{6} = 25 \text{ N}$ (۰/۵) ص. ۵۲	۱
	ادامه راهنمای تصحیح در صفحه دوم	

مدت امتحان: ۱۲۰ دقیقه	ساعت شروع: ۸ صبح	رشته: علوم تجربی	راهنمای تصحیح امتحان نهایی درس: فیزیک ۳
تاریخ امتحان: ۱۳۹۹/۰۳/۲۵		پایه دوازدهم دوره دوم متوسطه	
مرکز سنجش و پایش کیفیت آموزشی http://aee.medu.ir		دانش آموزان روزانه سراسر کشور خرداد ماه سال ۱۳۹۹	

۱/۵	$F - \mu_s F_N = ma \quad (۰/۲۵) \quad ۱۲۰ - \mu_s \times ۴۰۰ = ۰ \quad (۰/۵) \quad \mu_s = ۰/۳ \quad (۰/۲۵)$	۸
۱/۵	$F - F_s = ۰ \quad (۰/۲۵) \quad F = F_s = ۱۰۰ N \quad (۰/۲۵)$	(الف) ۵۰ ص. (ب)
۱/۷۵	(الف) درست ص. ۵۷ (ب) درست ص. ۶۲ (پ) نادرست ص. ۶۹ (ت) درست ص. ۶۱ (ج) نادرست ص. ۷۵ (د) نادرست ص. ۸۶ (ث) نادرست ص. ۷۴ هر مورد (۰/۲۵)	۹
۱/۵	$-۰/۰۲ = ۰/۰۲ \cos ۱۰\pi t \quad ۱۰\pi t = \pi \quad (۰/۲۵) \quad t = \frac{1}{۱۰} s \quad (۰/۲۵)$	(الف) در لحظه‌ای که $x = -A$ باشد. تندی نوسانگر به صفر می‌رسد (۰/۲۵) (ب)
۱/۵	$a_{max} = w^2 \times A \quad (۰/۲۵) \quad a_{max} = ۱۰۰ \times ۱۰ \times ۰/۰۲ = ۲۰ \text{ m/s}^2 \quad (۰/۵)$	۱۰
۱	خیر، (۰/۲۵) تندی انتشار موج، به شرایط فیزیکی محیط بستگی دارد و با تغییر محیط تغییر خواهد کرد و تندی انتشار در یک محیط مقدار ثابتی است (۰/۵) تندی ذره؛ که فقط به شرایط چشمه موج بستگی دارد (۰/۲۵) ص. ۹۰	۱۱
۱	$v = \frac{x}{t} = \frac{۳۴۰}{۱} \quad v = \frac{۲x'}{۲t'} \quad \frac{۳۴۰}{۱} = \frac{۲x'}{۳} \quad x' = ۵۱۰ m \quad L = ۵۱۰ + ۳۴۰ = ۸۵۰ m$	(۰/۲۵) ۹۳ ص. (۰/۲۵) ۹۳ ص. (۰/۲۵) ۹۳ ص. (۰/۲۵) ۹۳ ص.
۱	$\beta_2 - \beta_1 = ۱۰ \log \frac{I_2}{I_1} \quad ۶۰ - ۴۰ = ۱۰ \log \frac{I_2}{I_1} \quad ۲ = \log \frac{I_2}{I_1} \quad \frac{I_2}{I_1} = ۱۰۰$	(۰/۲۵) ۷۳ ص. (۰/۲۵) ۷۳ ص. (۰/۲۵) ۷۳ ص. (۰/۲۵) ۷۳ ص.
۰/۷۵	پرتو ۲، (۰/۲۵) چون طول موج نور قرمز بیشتر از طول موج نور آبی است (۰/۲۵)، بنابراین ضریب شکست پرتو قرمز کمتر است و کمتر منحرف می‌شود. (۰/۲۵) ص. ۸۷	۱۴
ادامه راهنمای تصحیح در صفحه سوم		

مدت امتحان: ۱۲۰ دقیقه	ساعت شروع: ۸ صبح	رشته: علوم تجربی	راهنمای تصحیح امتحان نهایی درس: فیزیک ۳
تاریخ امتحان: ۱۳۹۹/۰۳/۲۵		پایه دوازدهم دوره دوم متوسطه	
مرکز سنجش و پایش کیفیت آموزشی http://aee.medu.ir		دانش آموزان روزانه سراسر کشور خرداد ماه سال ۱۳۹۹	

۱	ایزوتوپ ${}_{25}^{61}X$ را از ایزوتوپ ${}_{25}^{59}X$ با روش شیمیایی نمی توان جدا کرد (۰/۲۵) چون ایزوتوپ های یک عنصر دارای خواص شیمیایی یکسان هستند. (۰/۲۵) ایزوتوپ ${}_{25}^{61}X$ را با روش شیمیایی می توان از ایزوتوپ ${}_{25}^{61}Y$ جدا کرد (۰/۲۵) چون مربوط به دو عنصر با خواص شیمیایی متفاوت هستند. (۰/۲۵) ص. ۱۲۴	۱۵
۱	الف) پیوسته ص. ۹۹ ب) خود به خود ص. ۱۱۰ پ) بلندبرد ص. ۱۱۴ ت) گاما ص. ۱۱۶ هر مورد (۰/۲۵)	۱۶
۱	$\Delta E = -E_R \left(\frac{1}{n_U} - \frac{1}{n_L} \right)$ (۰/۲۵) $\Delta E = -13/6 \left(\frac{1}{16} - \frac{1}{1} \right)$ (۰/۵) $\Delta E = 12/75 \text{ ev}$ (۰/۲۵) ص. ۱۰۶ و ۱۰۵	۱۷
۱	$\frac{N}{N_0} = \frac{1}{2^n} = \frac{1}{128}$ (۰/۲۵) $n=7$ (۰/۲۵) $T_{1/2} = \frac{t}{n} = \frac{21}{7} = 3 \text{ ساعت}$ (۰/۵) ص. ۱۲۱	۱۸
۱	$v^2 - v_0^2 = 2a\Delta x$ (۰/۲۵) $0 - 20^2 = 2a \times 20$ (۰/۵) $a = -10 \text{ m/s}^2$ (۰/۲۵) ص. ۱۸ و ۱۹	۱۹
۱	الف) وقتی جسمی درون شاره قرار دارد و نسبت به آن در حال حرکت است نیرویی از طرف شاره در خلاف جهت حرکت جسم به آن وارد می شود که به آن نیروی مقاومت شاره می گویند (۰/۵) ص. ۳۴ ب) نیروی گرانش بین دو ذره با حاصل ضرب جرم دو ذره نسبت مستقیم و با مربع فاصله آنها از یکدیگر نسبت وارون دارد (۰/۵) ص. ۴۷	۲۰
۱	$v = \sqrt{\frac{F.L}{m}}$ (۰/۲۵) $10 = \sqrt{\frac{F \times 1/2}{0.03}}$ (۰/۵) $F = 2/5 \text{ N}$ (۰/۲۵) ص. ۶۵	۲۱
۱	$E = \frac{1}{2} m v^2$ (۰/۲۵) $E = \frac{1}{2} \times 0.2 \times (20^2 \times 0.05^2)$ (۰/۵) $E = 0.1 \text{ J}$ (۰/۲۵) ص. ۵۹	۲۲
۲۴	همکاران محترم ضمن عرض سلام و خسته نباشید لطفا برای دیگر پاسخ های درست، نمره منظور شود.	

سؤالات امتحان نهایی درس: فیزیک ۳	رشته: علوم تجربی	نام و نام خانوادگی:	ساعت شروع: ۸ صبح
پایه دوازدهم دوره دوم متوسطه	تعداد صفحه: ۴	تاریخ امتحان: ۹۹/۰۵/۲۵	مدت امتحان: ۱۲۰ دقیقه
دانش آموزان روزانه سراسر کشور در نوبت شهریور ماه سال ۱۳۹۹		مرکز سنجش و پایش کیفیت آموزشی http://aee.medu.ir	

توجه: استفاده از ماشین حساب ساده (دارای چهار عمل اصلی، جذر و درصد) مجاز می باشد.

ردیف	سؤالات بخش الزامی	نمره
	دانش آموز عزیز به سؤالات ۱ تا ۱۵ جهت کسب ۱۶ نمره پاسخ دهید (پاسخنامه دارد)	
۱	تعریف کنید؛ الف) بردار جابه جایی ب) موج طولی	۱
۲	شکل روبه رو نمودار مکان - زمان حرکت یک متحرک که در راستای محور x حرکت می کند را نشان می دهد. الف) در کدام لحظه متحرک بیشترین فاصله از مبدأ مختصات را دارد؟ ب) سرعت متوسط متحرک در بازه زمانی ۶s تا ۸s چند متر بر ثانیه است؟ پ) مسافت طی شده در بازه زمانی صفر تا ۸s چند متر است؟	۰/۲۵ ۰/۷۵ ۰/۲۵
۳	متحرکی در راستای محور x با شتاب ثابت در حرکت است. در مکان $x_1 = +10m$ سرعت متحرک $+4m/s$ و در $x_2 = +20m$ سرعت متحرک $+6m/s$ است. الف) شتاب حرکت متحرک چقدر است؟ ب) پس از چند ثانیه سرعت متحرک از $+4m/s$ به سرعت $+6m/s$ می رسد؟	۰/۷۵ ۰/۷۵
۴	نمودار سرعت - زمان متحرکی که در امتداد محور x حرکت می کند همانند شکل روبه رو است. الف) در کدام بازه های زمانی بردار شتاب در خلاف جهت محور x است؟ ب) حرکت متحرک در بازه زمانی t_1 تا t_2 کندشونده است یا تندشونده؟ چرا؟	۰/۵ ۰/۵
۵	هر یک از گزاره های زیر، به کدام یک از قانون های نیوتون مربوط می شود؟ الف) هرگاه جسمی به جسم دیگر نیرو وارد کند، جسم دوم نیز به جسم اول نیروی هم اندازه و هم راستا اما در خلاف جهت وارد می کند. ب) یک جسم، حالت سکون یا حرکت با سرعت ثابت خود را حفظ می کند مگر آنکه نیروی خالص غیر صفری به آن وارد شود.	۰/۵
۶	شخصی یک سطل محتوی مصالح به جرم $20kg$ را با طناب سبکی به طرف بالا می کشد. اگر تندی حرکت رو به بالای سطل، ثابت باشد نیروی کشش طناب چند نیوتون است؟ (از مقاومت هوا صرف نظر شود). ($g = 10 N/kg$)	۰/۷۵
	ادامه سؤالات در صفحه دوم	



سؤالات امتحان نهایی درس: فیزیک ۳	رشته: علوم تجربی	نام و نام خانوادگی:	ساعت شروع: ۸ صبح
پایه دوازدهم دوره دوم متوسطه	تعداد صفحه: ۴	تاریخ امتحان: ۹۹/۰۵/۲۵	مدت امتحان: ۱۲۰ دقیقه
دانش آموزان روزانه سراسر کشور در نوبت شهریور ماه سال ۱۳۹۹		مرکز سنجش و پایش کیفیت آموزشی http://aee.medu.ir	

توجه: استفاده از ماشین حساب ساده (دارای چهار عمل اصلی، جذر و درصد) مجاز می باشد.

ردیف	سؤالات	نمره
۷	<p>در هر یک از پرسش‌های زیر، گزینه درست را انتخاب کنید و در پاسخ‌نامه بنویسید.</p> <p>الف) ثابت فنر (k) به کدام یک از عوامل زیر بستگی ندارد؟</p> <p>(۱) تغییر طول فنر (۲) شکل فنر (۳) اندازه فنر</p> <p>ب) هر چه فاصله ماهواره از سطح زمین بیشتر شود، نیروی گرانشی وارد بر ماهواره</p> <p>(۱) افزایش می‌یابد (۲) کاهش می‌یابد (۳) تغییر نمی‌یابد</p> <p>پ) مساحت سطح زیر نمودار نیرو - زمان برابر است.</p> <p>(۱) تغییر تندی (۲) تغییر نیرو (۳) تغییر تکانه</p> <p>ت) کدام یک از روابط زیر در مورد اندازه نیروی اصطکاک ایستایی بیشینه، درست است؟</p> <p>(۱) $f_{s,max} = \mu_s F_N$ (۲) $f_{s,max} > \mu_s F_N$ (۳) $f_{s,max} < f_s$</p>	۱
۸	<p>نیروی موتور یک قایق موتوری که جرم آن با سرنشینش 400 kg است به گونه‌ای تنظیم می‌شود که در بازه زمانی معینی، همواره نیروی افقی خالص 800 N به طرف جلو بر قایق وارد می‌کند.</p> <p>الف) اگر نیروی پیشران 1400 N باشد، نیروی مقاومت در آن لحظه چقدر است؟</p> <p>ب) شتاب این قایق چقدر و در چه جهتی است؟</p>	۰/۷۵ ۱
۹	<p>معادله مکان - زمان نوسانگر هماهنگ ساده‌ای با دامنه 0.06 m و بسامد $2/5\text{ Hz}$ را بنویسید. با فرض اینکه در لحظه $t = 0\text{ s}$ نوسانگر در بیشینه فاصله از نقطه تعادل ($x = +A$) باشد.</p>	۰/۷۵
۱۰	<p>ریسمانی به طول 0.8 m و جرم 0.4 kg بین دو نقطه ثابت با نیروی کشیده 50 N کشیده شده است. تندی انتشار موج در این ریسمان چند متر بر ثانیه است؟</p>	۰/۷۵
۱۱	<p>الف) دو عامل مؤثر بر تندی انتشار موج صوتی را بنویسید.</p> <p>ب) چرا امواج الکترومغناطیسی برای انتقال انرژی به محیط مادی نیاز ندارند؟</p> <p>پ) دلیل پاشیدگی نور سفید در یک منشور چیست؟</p>	۰/۵ ۰/۵ ۰/۲۵
۱۲	<p>دانش آموزی رو به صخره قائمی در فاصله 204 متری از صخره ایستاده است و فریاد می‌زند. اولین پژواک صدای خود را چند ثانیه بعد از فریاد می‌شنود؟ (سرعت صوت در هوا 340 m/s فرض شود)</p>	۰/۷۵
۱۳	<p>در مکانی که مقدار شتاب گرانشی $9/75\text{ m/s}^2$ است، دوره تناوب یک آونگ ساده در حال نوسان، 2 ثانیه است.</p> <p>الف) طول آونگ چند متر است؟ ($\pi^2 = 10$)</p> <p>ب) آیا جرم آونگ تأثیری در بسامد آونگ دارد؟</p>	۰/۷۵ ۰/۲۵
	ادامه سؤالات در صفحه سوم	

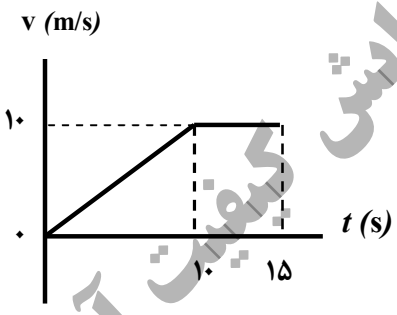
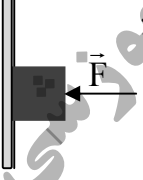
سؤالات امتحان نهایی درس: فیزیک ۳	رشته: علوم تجربی	نام و نام خانوادگی:	ساعت شروع: ۸ صبح
پایه دوازدهم دوره دوم متوسطه	تعداد صفحه: ۴	تاریخ امتحان: ۹۹/۰۵/۲۵	مدت امتحان: ۱۲۰ دقیقه
دانش آموزان روزانه سراسر کشور در نوبت شهریور ماه سال ۱۳۹۹		مرکز سنجش و پایش کیفیت آموزشی http://aee.medu.ir	

توجه: استفاده از ماشین حساب ساده (دارای چهار عمل اصلی، جذر و درصد) مجاز می باشد.

ردیف	سؤالات	نمره
۱۴	درستی یا نادرستی هر گزاره را با واژه ((درست)) یا ((نادرست)) مشخص کنید و در پاسخ نامه بنویسید. الف) آزمایش نشان می دهد که بیشینه نیروی اصطکاک ایستایی با اندازه نیروی عمودی سطح، متناسب است. ب) اگر کابل آسانسور پاره شود، آسانسور سقوط آزاد می کند و اندازه شتاب حرکت آسانسور برابر صفر است. پ) تاب خوردن کودکی که به طور دوره ای هل داده می شود مثالی از یک نوسان طبیعی است. ت) بلندی صوت، بسامدی است که گوش انسان درک می کند. ث) امواج الکترومغناطیسی تخت تابیده به یک سطح تخت، پس از بازتابش در یک نقطه کانونی می شوند. ج) یک موج صوتی با شدت $I = I_0$ ، تراز شدت صوتی برابر صفر دسی بل دارد.	۱/۵
۱۵	الف) شکل روبه رو، یک موج سینوسی را در لحظه ای از زمان نشان می دهد که در جهت محور x در طول ریسمان کشیده شده ای حرکت می کند. چهار جزء از این ریسمان روی شکل نشان داده شده اند. نام اجزایی که در این لحظه، به طرف پایین می روند را بنویسید. ب) کدام یک از دو شکل زیر، یک شکست نور را نشان می دهد که از لحاظ فیزیکی ممکن است؟ توضیح دهید.	۰/۵ ۰/۷۵
	 شکل (۱) $n=1/2$ to $n=1/5$ شکل (۲) $n=1/2$ to $n=1/8$	
	(ب) سوالات بخش اختیاری	
	دانش آموز عزیز جهت کسب ۴ نمره از بین سؤالات ۱۶ تا ۲۳، فقط به ۴ سوال به دلخواه پاسخ دهید.	
۱۶	یک چشمه نور فوتون هایی با طول موج 398 nm گسیل می کند. انرژی هر فوتون چند ژول است؟ ($hc = 19/9 \times 10^{-26} \text{ J.m}$)	۱
۱۷	طیف گسیلی یک جسم در چه مواردی پیوسته و در چه مواردی گسسته (خطی) است؟ منشأ فیزیکی این تفاوت را توضیح دهید.	۱
۱۸	الف) چرا به ایزوتوپ ها، هم مکان گفته می شود؟ ب) چرا هسته اتم ها در واکنش های شیمیایی برانگیخته نمی شوند؟	۰/۵ ۰/۵
۱۹	جاهای خالی در فرایندهای واپاشی زیر را کامل کنید. (در پاسخ نامه، هسته دختر با نماد $^A_Z Y$ نوشته شود) (۱) $^{242}_{94} \text{Pu} \rightarrow \dots + \alpha$ (۲) $^{18}_9 \text{F} \rightarrow \dots + \beta^+$	۱
	ادامه سؤالات در صفحه چهارم	

سؤالات امتحان نهایی درس: فیزیک ۳	رشته: علوم تجربی	نام و نام خانوادگی:	ساعت شروع: ۸ صبح
پایه دوازدهم دوره دوم متوسطه	تعداد صفحه: ۴	تاریخ امتحان: ۹۹/۰۵/۲۵	مدت امتحان: ۱۲۰ دقیقه
دانش آموزان روزانه سراسر کشور در نوبت شهریور ماه سال ۱۳۹۹		مرکز سنجش و پایش کیفیت آموزشی http://aee.medu.ir	

توجه: استفاده از ماشین حساب ساده (دارای چهار عمل اصلی، جذر و درصد) مجاز می باشد.

ردیف	سؤالات	نمره
۲۰	با توجه به مفاهیم حرکت هماهنگ ساده، واژه مناسب برای هر گزاره را مشخص کنید و در پاسخ نامه بنویسید. الف) تندی بیشینه نوسانگر برابر حاصل ضرب بسامد زاویه‌ای در نوسان است. ب) بسامد زاویه‌ای سامانه جرم - فنر با جذر به طور وارون، متناسب است. پ) انرژی پتانسیل سامانه جرم - فنر در نقاط بازگشتی است. ت) با کاهش تندی نوسانگر، انرژی نوسانگر ثابت می ماند.	۱
۲۱	الف) طول موج و تندی انتشار پرتوهای گاما و پرتوهای فرابنفش را هنگام انتشار در خلأ با هم مقایسه کنید. ب) منظور از جبهه‌های موج (هنگام تشکیل موج بر سطح آب) چیست؟	۰/۵ ۰/۵
۲۲	نمودار سرعت - زمان متحرکی که در راستای محور x حرکت می کند و در لحظه $t = 0$ از مکان $x = 0$ می گذرد همانند شکل زیر است. سرعت متوسط این متحرک در بازه زمانی صفر تا ۱۵s را حساب کنید. 	۱
۲۳	همانند شکل روبه‌رو، جسمی را با نیروی افقی $F = 10\text{N}$ به دیوار فشرده و ثابت نگاه داشته ایم. الف) سایر نیروهای وارد بر جسم را در پاسخ نامه رسم کنید. ب) نیروی خالص وارد بر جسم چقدر است؟ 	۰/۷۵ ۰/۲۵
۲۴	شاد و سلامت باشید	۲۴

مدت امتحان: ۱۲۰ دقیقه	ساعت شروع: ۸ صبح	رشته: علوم تجربی	راهنمای تصحیح امتحان نهایی درس: فیزیک ۳
تاریخ امتحان: ۱۳۹۹/۰۵/۲۵		تعداد صفحه: ۲	پایه دوازدهم دوره دوم متوسطه
مرکز سنجش و پایش کیفیت آموزشی http://aee.medu.ir		دانش آموزان روزانه سراسر کشور شهریورماه سال ۱۳۹۹	

ردیف	راهنمای تصحیح	نمره
۱	الف) پاره خط جهتی داری که مکان آغازین حرکت را به مکان پایانی حرکت وصل می کند. (۰/۵) ص ۲ ب) اگر جابه جایی هر جزء نوسان کننده ای از محیط، در راستای انتشار موج باشد موج را موج طولی می گویند. (۰/۵) ص ۶۲	۱
۲	الف) ۸۵ (۰/۲۵) ب) $v_{av} = \frac{\Delta x}{\Delta t}$ (۰/۲۵) $v_{av} = \frac{۱۶-۹}{۸-۶} = ۳/۵ \text{ m/s}$ (۰/۵) پ) $l = ۱۶ \text{ m}$ (۰/۲۵) ص ۹	۱/۲۵
۳	الف) $v^2 = v_0^2 + 2a(x_2 - x_1)$ (۰/۲۵) $۳۶ = ۱۶ + 2a(۱۰)$ (۰/۲۵) $a = ۱ \text{ m/s}^2$ (۰/۲۵) ب) $v_{av} = \frac{v + v_0}{2}$ (۰/۲۵) $\frac{۱۰}{\Delta t} = \frac{۶+۴}{۲}$ (۰/۲۵) $\Delta t = ۲ \text{ s}$ (۰/۲۵) ص ۲۵	۱/۵
۴	الف) بازه زمانی $t = ۰$ تا t_1 (۰/۲۵) بازه زمانی t_1 تا t_2 (۰/۲۵) ص ۲۴ ب) کندشونده است (۰/۲۵) اندازه سرعت در حال کاهش است. (۰/۲۵) ص ۱۶	۱
۵	الف) قانون سوم (۰/۲۵) ص ۳۰ ب) قانون اول (۰/۲۵) ص ۲۹	۰/۵
۶	الف) $T - mg = ma$ (۰/۲۵) $T - (۲۰ \times ۱۰) = ۰$ (۰/۲۵) $T = ۲۰۰ \text{ N}$ (۰/۲۵) ص ۴۳	۰/۷۵
۷	الف) (۱) ص ۴۱ ب) (۲) ص ۴۸ پ) (۳) ص ۴۶ ت) (۱) ص ۲۹ هر مورد (۰/۲۵)	۱
۸	الف) $F_{net} = F$ (۰/۲۵) $F_{net} = ۶۰۰ \text{ N}$ (۰/۲۵) مقاومت ب) شتاب قایق به طرف جلو (۰/۲۵) ص ۲۱ الف) $F_{net} = F$ (۰/۲۵) $F_{net} = ۱۴۰۰ - F$ (۰/۲۵) مقاومت ب) $a = \frac{F_{net}}{m}$ (۰/۲۵) $a = \frac{۸۰۰}{۴۰۰} = ۲ \text{ m/s}^2$ (۰/۵)	۱/۷۵
۹	الف) $x = A \cos \omega t$ (۰/۲۵) $x = ۰/۰۶ \cos(2\pi \times ۲/۵)t$ (۰/۲۵) $x = ۰/۰۶ \cos 5\pi t$ (۰/۲۵) ص ۵۶	۰/۷۵
۱۰	الف) $v = \sqrt{\frac{F.L}{m}}$ (۰/۲۵) $v = \sqrt{\frac{۵۰ \times ۰/۸}{۰/۴}}$ (۰/۲۵) $v = ۱۰ \text{ m/s}$ (۰/۲۵) ص ۶۵	۰/۷۵
۱۱	الف) جنس محیط (۰/۲۵) دمای محیط (۰/۲۵) ص ۷۱ ب) امواج الکترومغناطیسی، از میدان های الکتریکی و مغناطیسی تشکیل شده اند و این میدان های برای انتقال انرژی به محیط مادی نیاز ندارند. (۰/۵) ص ۶۸ پ) ضریب شکست محیط (منشور) برای طول موج های مختلف نور، متفاوت است. (۰/۲۵) ص ۸۷	۱/۲۵
۱۲	الف) $t = \frac{2L}{v}$ (۰/۲۵) $t = \frac{۲ \times ۲۰۴}{۳۴۰} = ۱/۲ \text{ s}$ (۰/۵) ص ۷۹	۰/۷۵
۱۳	الف) $T = 2\pi \sqrt{\frac{L}{g}}$ (۰/۲۵) $۲^2 = ۴ \times ۱۰ \left(\frac{L}{۹/۷۵} \right)$ (۰/۲۵) $L = ۰/۹۷۵ \text{ m}$ (۰/۲۵) ب) خیر (۰/۲۵) ص ۵۹	۱
ادامه راهنمای تصحیح در صفحه دوم		

مدت امتحان: ۱۲۰ دقیقه	ساعت شروع: ۸ صبح	رشته: علوم تجربی	راهنمای تصحیح امتحان نهایی درس: فیزیک ۳
تاریخ امتحان: ۱۳۹۹/۰۵/۲۵		تعداد صفحه: ۲	پایه دوازدهم دوره دوم متوسطه
مرکز سنجش و پایش کیفیت آموزشی http://aee.medu.ir		دانش آموزان روزانه سراسر کشور شهریورماه سال ۱۳۹۹	

ردیف	راهنمای تصحیح	نمره
۱۴	الف) درست ص. ۳۸ ب) نادرست ص. ۳۷ ت) نادرست ص. ۷۴ ث) نادرست ص. ۸۰ پ) نادرست ص. ۶۰ ج) درست ص. ۷۳ هر مورد (۰/۲۵)	۱/۵
۱۵	الف) c, d (۰/۵) ص. ۹۰ ب) شکل (۲). (۰/۲۵) طبق رابطه $\frac{\sin \theta_2}{\sin \theta_1} = \frac{v_2}{v_1} = \frac{n_1}{n_2}$ ، چون ضریب شکست محیط دوم بیشتر است، تندی انتشار کمتر و زاویه شکست از زاویه تابش کوچکتر می شود. (۰/۵) ص. ۸۶	۱/۲۵
مصحح گرامی اگر دانش آموز به بیش از ۴ سؤال انتخابی پاسخ داده باشد، فقط ۴ سؤال اول را تصحیح نمایید.		
۱۶	ص. ۹۸ $E = 5 \times 10^{-19} \text{ J}$ (۰/۲۵) $E = \frac{19/9 \times 10^{-26}}{398 \times 10^{-9}}$ (۰/۵) $E = \frac{hc}{\lambda}$ (۰/۲۵)	۱
۱۷	طیف گسیلی جسم جامد، پیوسته (۰/۲۵) و طیف گسیلی گاز کم فشار و رقیق، گسسته (خطی) است. (۰/۲۵) طیف پیوسته ناشی از برهم کنش قوی بین اتم‌های سازنده جسم جامد است در حالی که اتم‌های منفرد گازها از این برهم کنش‌های قوی بین اتم‌ها، آزادند. (۰/۵) ص. ۹۹	۱
۱۸	الف) هسته‌هایی که تعداد پروتون مساوی ولی تعداد نوترون متفاوت دارند خواص شیمیایی یکسانی دارند در نتیجه در جدول تناوبی عناصر هم‌مکان هستند. (۰/۵) ص. ۱۱۳ ب) زیرا اختلاف بین ترازهای انرژی نوکلئون‌ها در هسته از مرتبه KeV تا مرتبه MeV است در حالی که اختلاف بین ترازهای انرژی الکترون‌ها در اتم از مرتبه eV است. (۰/۵) ص. ۱۱۵	۱
۱۹	ص. ۱۲۴ (۱) ${}_{92}^{238}\text{Y}$ (۰/۵) (۲) ${}_{8}^{18}\text{Y}$ (۰/۵)	۱
۲۰	الف) دامنه ص. ۵۹ ب) جرم وزنه ص. ۵۷ پ) بیشینه ص. ۵۸ ت) مکانیکی ص. ۵۸ هر مورد (۰/۲۵)	۱
۲۱	الف) طول موج پرتو گاما کمتر از پرتو فرابنفش (۰/۲۵) و تندی انتشار هر دو پرتو، برابر است. (۰/۲۵) ص. ۹۱ ب) به هر یک از برآمدگی‌ها یا فر رفتگی‌های ایجاد شده روی سطح آب، یک جبهه موج می گویند. (۰/۵) ص. ۶۳	۱
۲۲	ص. ۲۰ $v_{av} = \frac{\Delta x}{\Delta t} = \frac{100}{15} \approx 6/6 \text{ m/s}$ (۰/۵) $\Delta x = s_{v-t} = \frac{(15+5) \times 10}{2} = 100 \text{ m}$ (۰/۵)	۱
۲۳	الف) رسم درست هر بردار نیرو (۰/۲۵) ب) صفر (۰/۲۵)	۱
۲۴	همکاران محترم ضمن عرض سلام و خسته نباشید لطفاً برای دیگر پاسخ‌های درست، نمره منظور شود.	

سؤالات امتحان نهایی درس: فیزیک 3	رشته: علوم تجربی	پایه دوازدهم دوره دوم متوسطه	ساعت شروع: 10 صبح
تاریخ امتحان: 99/10/20	تعداد صفحه: 3	نام و نام خانوادگی:	مدت امتحان: 110 دقیقه
دانش آموزان روزانه، بزرگسال و داوطلبان آزاد سراسر کشور در نوبت دی ماه سال 99		مرکز سنجش و پایش کیفیت آموزشی http://aee.medu.ir	

توجه: استفاده از ماشین حساب ساده (دارای چهار عمل اصلی، جذر و درصد) مجاز می باشد.

ردیف	سؤالات	نمره
1	<p>درستی یا نادرستی گزاره‌های زیر را با واژه‌های ((درست)) یا ((نادرست)) در پاسخ‌نامه مشخص کنید.</p> <p>الف) شیب خط مماس بر نمودار مکان - زمان حرکت جسم در هر لحظه برابر سرعت لحظه‌ای است.</p> <p>ب) اگر جهت حرکت متحرک تغییر کند، حرکت متحرک شتابدار است.</p> <p>پ) نیروی مقاومت شاره وارد بر جسم، به تندی حرکت جسم بستگی ندارد.</p> <p>ت) ضریب اصطکاک ایستایی معمولاً از ضریب اصطکاک جنبشی کوچکتر است.</p> <p>ث) دوره تناوب آونگ ساده به جرم وزنه متصل به آونگ بستگی دارد.</p> <p>ج) تاب خوردن کودک که به طور دوره‌ای هل داده می‌شود مثالی از نوسان واداشته است.</p>	1/5
2	<p>متحرکی روی خط راست، فاصله بین مکان آغازین $(+5m)\vec{i}$ و مکان پایانی $(-5m)\vec{i}$ را طی می‌کند.</p> <p>الف) بردار جابه‌جایی این متحرک را به دست آورید.</p> <p>ب) در چه صورت اندازه سرعت متوسط متحرک با تندی متوسط حرکت متحرک برابر است؟</p>	0/75 0/25
3	<p>شکل زیر نمودار سرعت - زمان متحرکی را در حرکت روی محور x نشان می‌دهد.</p> <p>الف) نوع حرکت متحرک در بازه زمانی صفر تا $3s$ تندشونده است یا کندشونده؟ چرا؟</p> <p>ب) مسافتی که متحرک در بازه زمانی صفر تا $5s$ می‌پیماید، چند متر است؟</p>	0/5 1
4	<p>معادله مکان - زمان متحرکی که با شتاب ثابت روی خط راست حرکت می‌کند، در SI به صورت $x = 2t^2 - t$ است.</p> <p>معادله سرعت - زمان این متحرک را به دست آورید.</p>	1
5	<p>نمودار نیروی کشسانی دو فنر A و B بر حسب تغییر طول آنها مطابق شکل زیر است.</p> <p>ثابت (سختی) کدام فنر بیشتر است؟ توضیح دهید.</p>	0/5
	ادامه سوالات در صفحه دوم	

سؤالات امتحان نهایی درس: فیزیک 3	رشته: علوم تجربی	پایه دوازدهم دوره دوم متوسطه	ساعت شروع: 10 صبح
تاریخ امتحان: 99/10/20	تعداد صفحه: 3	نام و نام خانوادگی:	مدت امتحان: 110 دقیقه
دانش آموزان روزانه، بزرگسال و داوطلبان آزاد سراسر کشور در نوبت دی ماه سال 99		مرکز سنجش و پایش کیفیت آموزشی http://aee.medu.ir	

توجه: استفاده از ماشین حساب ساده (دارای چهار عمل اصلی، جذر و درصد) مجاز می باشد.

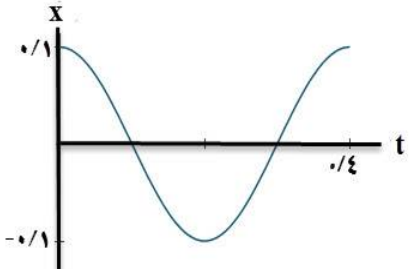
ردیف	سؤالات	نمره
6	<p>جسمی به وزن یک نیوتون را مانند شکل، با نیروی عمودی F به دیوار قائمی فشرده و ثابت نگه داشته ایم.</p> <p>الف) مقدار نیروی اصطکاک چقدر است؟</p> <p>ب) اگر نیروی عمودی F را افزایش دهیم، تعیین کنید با این کار اندازه هر یک نیروهای زیر؛ کاهش می یابد، افزایش می یابد یا ثابت می ماند؟</p> <p>1) نیروی عمودی سطح 2) نیروی وزن 3) نیروی اصطکاک بیشینه 4) نیروی اصطکاک</p>	0/25
7	<p>در هر یک از گزاره های زیر، جای خالی را با واژه مناسب پر کنید.</p> <p>الف) طبق قانون نیوتون، شتاب جسم با نیروی خالص وارد بر جسم نسبت مستقیم دارد.</p> <p>ب) جهت نیروی وزن و در نتیجه شتاب گرانشی همواره به طرف است.</p> <p>پ) وزن ماهواره ای که در ارتفاع R_e (شعاع زمین) از سطح زمین قرار دارد برابر وزن آن روی سطح زمین است.</p> <p>ت) در نقطه تعادل حرکت هماهنگ ساده سامانه جرم - فنر، انرژی نوسانگر صفر است.</p> <p>ث) مسافتی که موج در مدت یک دوره تناوب نوسان چشمه طی می کند برابر است.</p> <p>ج) عموماً ضریب شکست یک محیط معین برای نورهایی با طول موج کوتاه تر است.</p>	1/5
8	اندازه تکانه جسمی به جرم 2kg که با سرعت ثابت 10m/s در حرکت است را حساب کنید.	0/75
9	<p>از داخل پرانتز گزینه درست را انتخاب کرده و در پاسخ نامه بنویسید.</p> <p>الف) در حرکت هماهنگ ساده، دامنه نوسان؛ بیشینه فاصله نوسانگر از (نقطه تعادل - نقطه بازگشتی) است.</p> <p>ب) تندی انتشار صوت در هوا به (دامنه موج صوتی - دمای هوا) بستگی دارد.</p> <p>پ) طول موج (امواج رادیویی - نور مرئی) از طول موج امواج فرسرخ بیشتر است.</p> <p>ت) وقتی چشمه صوت به ناظر ساکن نزدیک می شود، فاصله جبهه های موج در عقب چشمه (بیشتر - کمتر) می شود.</p> <p>ث) میدان های الکتریکی و مغناطیسی یک موج الکترومغناطیسی همواره (عمودبر - موازی با) جهت حرکت موج هستند.</p> <p>ج) در دماهای معمولی، بیشتر تابش گسیل شده از سطح اجسام در ناحیه (فرابنفش - فرسرخ) است.</p>	1/5
10	<p>دامنه نوسان یک حرکت هماهنگ ساده $0/1\text{m}$ و دوره تناوب آن $0/4\text{s}$ است. (این نوسانگر در مبداء زمان، در انتهای مثبت مسیر نوسان قرار دارد)</p> <p>الف) معادله مکان - زمان این نوسانگر را بنویسید.</p> <p>ب) نمودار مکان - زمان این نوسانگر را در یک دوره تناوب رسم کنید.</p>	1 0/5
	ادامه سوالات در صفحه سوم	

سؤالات امتحان نهایی درس: فیزیک 3	رشته: علوم تجربی	پایه دوازدهم دوره دوم متوسطه	ساعت شروع: 10 صبح
تاریخ امتحان: 99/10/20	تعداد صفحه: 3	نام و نام خانوادگی:	مدت امتحان: 110 دقیقه
دانش آموزان روزانه، بزرگسال و داوطلبان آزاد سراسر کشور در نوبت دی ماه سال 99		مرکز سنجش و پایش کیفیت آموزشی http://aee.medu.ir	

توجه: استفاده از ماشین حساب ساده (دارای چهار عمل اصلی، جذر و درصد) مجاز می باشد.

ردیف	سؤالات	نمره
11	در یک فاصله مشخص از یک دستگاه صوتی، صدایی با تراز شدت $\beta = 100 \text{ dB}$ دریافت می شود. شدت این صدا را (بر حسب W/m^2) حساب کنید.	0/75
	$(I_0 = 10^{-12} \text{ W/m}^2)$	
12	اگر یک موج سینوسی از قسمت ضخیم طناب به قسمت نازک آن وارد شود، در قسمت نازک طناب هر یک از کمیت های زیر در مقایسه با موج فرودی چه تغییری می کند؟ (بخشی از موج به قسمت ضخیم بازتاب می شود). الف) بسامد موج بازتابیده ب) طول موج موج بازتابیده پ) تندی موج عبوری	0/75
13	جرم یک تار تحت کشش $0/05 \text{ kg}$ و طول آن 1 m است. اگر تندی انتشار موج در این تار 20 m/s باشد. نیروی کشش تار چند نیوتون است؟	0/75
14	یک چشمه نور فوتون هایی با طول موج 400 nm گسیل می کند. انرژی هر فوتون چند ژول است؟ $(hc \approx 2 \times 10^{-25} \text{ J.m})$	0/75
15	تعریف کنید. الف) لختی ب) موج طولی پ) اثر فوتو الکتریک	0/5 0/5 0/5
16	کوتاه ترین طول موج گسیلی اتم هیدروژن در رشته بالمر ($n' = 2$)، چند نانومتر است؟ $(R = 0/01 \text{ (nm)}^{-1})$	0/75
17	الف) ناکامی مدل اتمی تامسون را بنویسید. ب) فرایند گسیل القایی را توضیح دهید. پ) فرایند واپاشی روبه رو را کامل کنید. (هسته دختر با نماد $(^A_Z Y)$ در پاسخ نامه نوشته شود). $^{236}_{92} X \rightarrow \alpha + \dots$	0/5 0/5 0/5
18	نیمه عمر یک ماده پرتوزا، حدود 10 روز است. پس از گذشت 40 روز، چه کسری از ماده اولیه در نمونه ای از این ماده پرتوزا، باقی می ماند؟	1/25
	شاد و پیروز باشید	

مدت امتحان: ۱۱۰ دقیقه	ساعت شروع: ۱۰ صبح	رشته: علوم تجربی	راهنمای تصحیح امتحان نهایی درس: فیزیک ۳
تاریخ امتحان: ۱۳۹۹/۱۰/۲۰		تعداد صفحه: ۲	پایه دوازدهم دوره دوم متوسطه
مرکز سنجش و پایش کیفیت آموزشی http://aee.medu.ir		دانش آموزان روزانه، بزرگسال و داوطلبان آزاد سراسر کشور دی ماه سال ۱۳۹۹	

ردیف	راهنمای تصحیح	نمره
۱	الف) درست ص. ۹ (ب) درست ص. ۱۰ (پ) نادرست ص. ۳۴ ت) نادرست ص. ۴۰ (ث) نادرست ص. ۴۵ (ج) درست ص. ۶۰ هر مورد (۰/۲۵)	۱/۵
۲	الف) $\vec{d} = (-10\text{m})\vec{i}$ (۰/۲۵) $\vec{d} = (-5\text{m})\vec{i} - (+5\text{m})\vec{j}$ (۰/۲۵) $\vec{d} = \vec{d}_r - \vec{d}_l$ (۰/۲۵) ب) متحرک روی خط راست و در یک جهت حرکت کند. (۰/۲۵) ص. ۵۴	۱
۳	الف) کندشونده (۰/۲۵) زیرا تندی متحرک در حال کاهش است. (۰/۲۵) ص. ۱۶ ب) ص. ۱۹ (۰/۲۵) $I = 19/5\text{m}$ (۰/۵) $I = \left \frac{-9 \times 3}{2} \right + \frac{6 \times 2}{2}$ (۰/۲۵) $I = s_1 + s_r$ (۰/۲۵)	۱/۵
۴	الف) $v = 4t - 1$ (۰/۲۵) $v = at + v_0$ (۰/۲۵) $v_0 = -1\text{m/s}$ (۰/۲۵) $a = 4\text{m/s}^2$ (۰/۲۵) ص. ۱۷	۱
۵	فتر B، شیب خط این نمودار برابر ثابت فتر است و شیب خط B بیشتر است. (۰/۲۵) ص. ۴۱	۰/۵
۶	الف) $f_s = mg = 1\text{N}$ (۰/۲۵) ب) ۱- افزایش (۰/۲۵) ۲- ثابت (۰/۲۵) ۳- افزایش (۰/۲۵) ۴- ثابت (۰/۲۵) ص. ۵۲	۱/۲۵
۷	الف) دوم ص. ۳۲ (ب) زمین (مرکز زمین) ص. ۳۴ (پ) یک چهارم ص. ۴۹ ت) پتانسیل ص. ۵۸ (ث) طول موج ص. ۶۳ (ج) بیشتر ص. ۸۷ هر مورد (۰/۲۵)	۱/۵
۸	ص. ۴۵ (۰/۵) $P = 2 \times 10 = 20\text{ kg.m/s}$ (۰/۲۵) $P = mv$	۰/۷۵
۹	الف) نقطه تعادل ص. ۵۵ (ب) دمای هوا ص. ۶۵ (پ) امواج رادیویی ص. ۶۸ ت) بیشتر ص. ۷۵ (ث) عمود بر ص. ۶۷ (ج) فروسرخ ص. ۹۹ هر مورد (۰/۲۵)	۱/۵
۱۰	الف) $x = 0.1 \cos 5\pi t$ (۰/۲۵) $x = 0.1 \cos \frac{2\pi}{0.4} t$ (۰/۵) $x = A \cos \frac{2\pi}{T} t$ (۰/۲۵) ب) ص. ۸۹  (۰/۵)	۱/۵

مدت امتحان: ۱۱۰ دقیقه	ساعت شروع: ۱۰ صبح	رشته: علوم تجربی	راهنمای تصحیح امتحان نهایی درس: فیزیک ۳
تاریخ امتحان: ۱۳۹۹/۱۰/۲۰		تعداد صفحه: ۲	پایه دوازدهم دوره دوم متوسطه
مرکز سنجش و پایش کیفیت آموزشی http://aee.medu.ir		دانش آموزان روزانه، بزرگسال و داوطلبان آزاد سراسر کشور دی ماه سال ۱۳۹۹	

ردیف	راهنمای تصحیح	نمره
۱۱	$I = 10^{-2} \frac{W}{m^2} \quad (0/25)$ $100 = 10 \log \frac{I}{10^{-12}} \quad (0/25)$ $\beta = 10 \log \frac{I}{I_0} \quad (0/25)$	۰/۷۵
۱۲	الف) ثابت ب) افزایش پ) افزایش هر مورد (۰/۲۵)	۰/۷۵
۱۳	$F = 20 \text{ N} \quad (0/25)$ $20^2 = \frac{1 \times F}{0/05} \quad (0/25)$ $v = \sqrt{\frac{FL}{m}} \quad (0/25)$	۰/۷۵
۱۴	$E = \frac{2 \times 10^{-25}}{400 \times 10^{-9}} = 5 \times 10^{-19} \text{ J} \quad (0/5)$ $E = \frac{hc}{\lambda} \quad (0/25)$	۰/۷۵
۱۵	الف) خاصیتی از اجسام است که میل دارند وضعیت حرکت خود را هنگامی که نیروی خالص وارد بر آنها صفر است حفظ کنند. (۰/۵) ص. ۲۹ ب) در این موج، جابه‌جایی هر جزء نوسان‌کننده‌ای از فنر (با ماده که موج در آن حرکت می‌کند) در راستای حرکت موج است. (۰/۵) ص. ۶۲ پ) وقتی نوری با بسامد مناسب به سطح فلزی بتابد الکترون‌هایی از سطح فلز گسیل می‌شوند. (۰/۵) ص. ۹۷	۱/۵
۱۶	$\lambda = 400 \text{ nm} \quad (0/25)$ $\frac{1}{\lambda} = 0/01 \left(\frac{1}{4} - \frac{1}{\infty} \right) \quad (0/25)$ $\frac{1}{\lambda} = R \left(\frac{1}{n_1^2} - \frac{1}{n_2^2} \right) \quad (0/25)$	۰/۷۵
۱۷	الف) بسامدهای تابش شده از اتم که در این مدل پیش‌بینی شده بود با نتایج تجربی سازگار نبود. (۰/۵) ص. ۱۰۳ ب) یک فوتون ورودی، الکترون برانگیخته را تحریک (یا القا) می‌کند تا تراز انرژی خود را تغییر دهد و به تراز پایین‌تر برود. (۰/۵) ص. ۱۱۰ ب) ${}_{90}^{232}\text{Y}$ (۰/۵) ص. ۱۱۷	۱/۵
۱۸	$N = N_0 \left(\frac{1}{2} \right)^n \quad (0/25)$ $n = \frac{40}{10} = 4 \quad (0/25)$ $n = \frac{t}{T_{\frac{1}{2}}} \quad (0/25)$ $\frac{N}{N_0} = \frac{1}{16} \quad (0/25)$ $N = N_0 \left(\frac{1}{2} \right)^4 \quad (0/25)$	۱/۲۵
۲۰	همکاران محترم، ضمن عرض خسته نباشید لطفاً برای پاسخ‌های صحیح دیگر، نمره لازم را در نظر بگیرید.	

سؤالات امتحان نهایی درس: فیزیک ۳	رشته: علوم تجربی	پایه دوازدهم دوره دوم متوسطه	ساعت شروع: ۸ صبح
تاریخ امتحان: ۱۴۰۰/۰۳/۰۱	تعداد صفحه: ۳	نام و نام خانوادگی:	مدت امتحان: ۱۲۰ دقیقه
دانش آموزان روزانه، بزرگسال و داوطلبان آزاد سراسر کشور در نوبت خرداد ماه سال ۱۴۰۰		مرکز سنجش و پایش کیفیت آموزشی http://aee.medu.ir	

توجه: استفاده از ماشین حساب ساده (دارای چهار عمل اصلی، جذر و درصد) مجاز می باشد.

ردیف	سؤالات	نمره
۱	<p>واژه مناسب برای هر یک گزاره‌های زیر را انتخاب کنید. (یک واژه اضافه است)</p> <div style="border: 1px solid black; padding: 5px; text-align: center;"> <p>مکانیکی - الکترومغناطیسی - آونگ - جرم - بسامد</p> </div> <p>الف) تندی انتشار موج در یک ریسمان تحت کشش، به ریسمان بستگی دارد. ب) توان متوسط در یک موج سینوسی برای همه انواع امواج مکانیکی، با مربع دامنه و مربع موج متناسب است. پ) از اثر متقابل میدان‌های الکتریکی و مغناطیسی، امواج به وجود می آیند. ت) امواج برای انتشار به محیط مادی نیاز دارند.</p>	۱
۲	<p>شکل روبه‌رو نمودار مکان - زمان حرکت یک متحرک که در راستای محور x حرکت می کند را نشان می دهد.</p> <p>الف) در کدام لحظه متحرک بیشترین فاصله از مبدأ مختصات را دارد؟ ب) جابه‌جایی کل متحرک در جهت محور x است یا خلاف جهت محور x؟ پ) جهت حرکت متحرک چند بار تغییر کرده است؟ ت) در کدام بازه زمانی متحرک در حال نزدیک شدن به مبدأ است؟ ث) در کدام لحظه متحرک از مبدأ عبور می کند؟</p> 	۱/۲۵
۳	<p>متحرکی در مدت زمان $8s$ از مکان $\vec{d}_1 = (-4m)\vec{i}$ به مکان $\vec{d}_2 = (4m)\vec{i}$ می رسد.</p> <p>الف) جهت حرکت این متحرک را تعیین کنید. ب) بزرگی سرعت متوسط متحرک در مدت زمان $8s$ چند متر بر ثانیه است؟ پ) مسافت طی شده متحرک چند متر است؟</p>	۰/۲۵ ۰/۷۵ ۰/۲۵
۴	<p>شکل روبه‌رو نمودار سرعت - زمان حرکت یک متحرک که در راستای محور x حرکت می کند را نشان می دهد.</p> <p>الف) بزرگی شتاب متوسط متحرک در بازه زمانی $t_1 = 4s$ تا $t_2 = 12s$ را به دست آورید. ب) اگر این متحرک در لحظه $t = 0s$ در مکان $x = 2m$ باشد، در لحظه $t = 2s$ در چند متری مبدأ است؟</p> 	۰/۷۵ ۰/۷۵
۵	<p>همانند شکل روبه‌رو، نیروی $F = 20N$ به جعبه‌ای به جرم $5kg$ که روی میز افقی قرار دارد وارد می شود.</p> <p>الف) نیروی عمودی سطح چند نیوتون است؟ ب) واکنش نیروی عمودی سطح در چه جهتی است؟</p> <p>$(g = 10 \text{ N/kg})$</p> 	۰/۷۵ ۰/۲۵

ادامه سوالات در صفحه دوم

سؤالات امتحان نهایی درس: فیزیک ۳	رشته: علوم تجربی	پایه دوازدهم دوره دوم متوسطه	ساعت شروع: ۸ صبح
تاریخ امتحان: ۱۴۰۰/۰۳/۰۱	تعداد صفحه: ۳	نام و نام خانوادگی:	مدت امتحان: ۱۲۰ دقیقه
دانش آموزان روزانه، بزرگسال و داوطلبان آزاد سراسر کشور در نوبت خرداد ماه سال ۱۴۰۰		مرکز سنجش و پایش کیفیت آموزشی http://aee.medu.ir	

توجه: استفاده از ماشین حساب ساده (دارای چهار عمل اصلی، جذر و درصد) مجاز می باشد.

ردیف	سؤالات	نمره
۶	در شکل روبه‌رو وقتی وزنه 20N را به فنری با طول اولیه 12cm آویزان می‌کنیم، طول فنر 16cm می‌شود. ثابت فنر چند نیوتون بر متر است؟	۱
۷	الف) در فیلمی علمی-تخیلی، موتور یک کشتی فضایی در حال حرکت، در فضای تهی و خارج از جو زمین و دور از هر سیاره و خورشید از کار می‌افتد. آیا ممکن است حرکت کشتی کند شود و کشتی متوقف شود؟ چرا؟ ب) چتربازی در هوای آرام در حال سقوط است. در چه شرایطی چترباز با تندی حادی به طرف پائین حرکت می‌کند؟ پ) یک مکعب چوبی روی یک میز افقی با نیروی ثابت و افقی F کشیده می‌شود. اگر مکعب روی سطح بلغزد، نیروی اصطکاک بین مکعب چوبی و سطح میز به کدام عامل یا عوامل زیر وابسته است؟ (۱) میزان زبری سطح میز (۲) مساحت سطح تماس مکعب با میز (۳) جرم مکعب چوبی	۰/۵ ۰/۵ ۰/۵
۸	شکل روبه‌رو نیروهای وارد بر توپی به جرم 4kg را در بالاترین نقطه مسیرش نشان می‌دهد. بردار شتاب این توپ را در نقطه نشان داده شده بر حسب بردارهای یگه بنویسید.	۰/۷۵
۹	معادله حرکت هماهنگ ساده یک نوسانگر در SI به صورت $x = \left(\frac{2}{\pi}\right) \cos 25\pi t$ است. الف) دوره تناوب این نوسانگر چند ثانیه است؟ ب) تندی بیشینه این نوسانگر چند متر بر ثانیه است؟	۰/۷۵ ۰/۷۵
۱۰	در آینه تخت شکل روبه‌رو، مقدار زاویه تابش و زاویه بازتابش آینه، چند درجه است؟	۰/۵
۱۱	تراز شدت صوت یک مخلوط کن 80dB است. شدت این صوت چقدر است؟ ($I_0 = 10^{-12} \text{W/m}^2$)	۰/۷۵
۱۲	شکل رو به‌رو یک موج سینوسی را در لحظه‌ای از زمان نشان می‌دهد که در جهت محور x در طول ریسمان کشیده شده‌ای، حرکت می‌کند. با توجه به شکل، تعیین کنید هر یک از اجزای (یا نقاط) مشخص شده به‌طرف بالا می‌روند یا پایین؟ الف) نقطه a ب) نقطه b پ) نقطه c ت) نقطه d	۱

ادامه سؤالات در صفحه سوم

سؤالات امتحان نهایی درس: فیزیک ۳	رشته: علوم تجربی	پایه دوازدهم دوره دوم متوسطه	ساعت شروع: ۸ صبح
تاریخ امتحان: ۱۴۰۰/۰۳/۰۱	تعداد صفحه: ۳	نام و نام خانوادگی:	مدت امتحان: ۱۲۰ دقیقه
دانش آموزان روزانه، بزرگسال و داوطلبان آزاد سراسر کشور در نوبت خرداد ماه سال ۱۴۰۰		مرکز سنجش و پایش کیفیت آموزشی http://aee.medu.ir	

توجه: استفاده از ماشین حساب ساده (دارای چهار عمل اصلی، جذر و درصد) مجاز می باشد.

ردیف	سؤالات	نمره	
۱۳	<p>شکل روبه‌رو جبهه‌های موج تخت نوری را نشان می‌دهد که به طور مایل به مرز دو محیط می‌رسند و سپس شکست پیدا می‌کنند.</p> <p>الف) با استفاده از قانون شکست عمومی، توضیح دهید تندی انتشار نور در کدام محیط، بیشتر است؟ $(\theta_1 > \theta_2)$</p> <p>ب) ضریب شکست کدام محیط کمتر است؟</p> <p>پ) با ذکر دلیل، بسامد نور فرودی و نور شکست یافته را مقایسه کنید.</p>	<p>۰/۷۵</p> <p>۰/۲۵</p> <p>۰/۵</p>	
۱۴	<p>تعریف کنید؛</p> <p>الف) دامنه حرکت</p> <p>ب) نیمه عمر</p>	<p>۰/۵</p> <p>۰/۵</p>	
۱۵	<p>درستی یا نادرستی هر گزاره را با واژه ((درست)) یا ((نادرست)) مشخص کنید و در پاسخ نامه بنویسید.</p> <p>الف) بر اساس نتایج تجربی، اگر شدت نور فرودی به سطح فلز به قدر کافی بزرگ باشد پدیده فوتوالکتریک در هر بسامدی رخ می‌دهد.</p> <p>ب) طیف گسیلی حاصل از گازهای کم‌فشار و رقیق، طیف خطی است.</p> <p>پ) مدل اتمی تامسون را مدل اتم هسته‌ای یا مدل هسته‌ای اتم می‌نامند.</p> <p>ت) خواص شیمیایی هر اتم را تعداد نوترون‌های هسته تعیین می‌کند.</p> <p>ث) در مدل بور، نیروی الکتریکی که یک الکترون بر الکترون دیگر وارد می‌کند به حساب آمده است.</p> <p>ج) نیروی هسته‌ای کوتاه برد است و تنها در فاصله‌های کوچک‌تر از ابعاد هسته اتم اثر می‌کند.</p> <p>چ) به اختلاف جرم هسته اتم با مجموع جرم نوکلئون‌های تشکیل دهنده اتم، کاستی جرم هسته گفته می‌شود.</p>	<p>۱/۷۵</p>	
۱۶	بلندترین طول موج طیفی اتم هیدروژن در رشته لیمان ($n=1$) چند متر است؟ $(R \approx 0.01 \text{ nm}^{-1})$	۱	
۱۷	برای ${}_{82}^{208}\text{Pb}$ مطلوب است:	۰/۷۵	
	(۱) تعداد نوکلئون‌ها	(۲) تعداد نوترون‌ها	(۳) تعداد پروتون
۱۸	یک لامپ با توان ۵W تابش مرئی با طول موج ۵۵۰ nm گسیل می‌کند. در هر ثانیه چه تعداد فوتون از این لامپ گسیل می‌شود؟ $(hc = 2 \times 10^{-25} \text{ J.m})$	۱	
۲۰	شاد و سلامت باشید	۲۰	

راهنمای تصحیح امتحان نهایی درس: فیزیک ۳	رشته: علوم تجربی	ساعت شروع: ۸ صبح	مدت امتحان: ۱۲۰ دقیقه
پایه دوازدهم دوره دوم متوسطه	تعداد صفحه: ۲	تاریخ امتحان: ۱۴۰۰/۰۳/۰۱	
دانش آموزان روزانه، بزرگسال و داوطلبان آزاد سراسر کشور خرداد ماه سال ۱۴۰۰		مرکز سنجش و پایش کیفیت آموزشی http://aee.medu.ir	

ردیف	راهنمای تصحیح	نمره
۱	الف) جرم ص. ۶۵ (ب) بسامد ص. ۶۶ (پ) الکترومغناطیسی ص. ۶۶ (ت) مکانیکی ص. ۶۸ هر مورد (۰/۲۵)	۱
۲	الف) t_1 (ب) خلاف محور x (پ) یک بار (ت) t_1 تا t_2 (ث) t_2 پرسش ۱-۳-۸ ص. ۸ هر مورد (۰/۲۵)	۱/۲۵
۳	الف) در جهت مثبت محور x (۰/۲۵) (ب) $v_{av} = 1 m/s$ (۰/۲۵) $v_{av} = \frac{4 - (-4)}{8}$ (۰/۲۵) $v_{av} = \frac{\Delta x}{\Delta t}$ (۰/۲۵) (پ) اگر متحرک روی خط راست حرکت کند مسافت، ۸ متر است. (پاسخ صحیح دیگر: اگر حرکت متحرک روی خط راست نباشد، نمی توان مسافت را تعیین کرد) (۰/۲۵) ص. ۵	۱/۲۵
۴	الف) ص. ۱۲ (ب) ص. ۱۴ $a_{av} = -0.5 m/s^2$ (۰/۲۵) $a_{av} = \frac{2-6}{12-4}$ (۰/۲۵) $a_{av} = \frac{\Delta v}{\Delta t}$ (۰/۲۵) $x = 6 \times 2 + 2 = 14m$ (۰/۵) $x = vt + x_0 \Rightarrow x = 6t + 2$ (۰/۲۵)	۱/۵
۵	الف) $F_N = 5 \times 10 + 20 = 70 N$ (۰/۵) (ب) عمود بر سطح به طرف پایین (خلاف جهت محور y) (۰/۲۵) $F_{net} = 0 \Rightarrow F_N = mg + F$ (۰/۲۵) تمرین ص. ۲۶	۱
۶	الف) $k \Delta x = W \Rightarrow k(0.16 - 0.12) = (20)$ (۰/۲۵) $k = 500 N/m$ (۰/۲۵) (ب) $F_e = W$ (۰/۲۵) ص. ۴۲	۱
۷	الف) خیر (۰/۲۵) اگر نیروی خالصی به متحرک وارد نشود، متحرک با سرعت ثابت به حرکتش ادامه می دهد (قانون اول نیوتون) (۰/۲۵) پرسش ص. ۲۹ (ب) هنگامی که نیروی مقاومت هوا و وزن هم اندازه شده و نیروهای وارد بر چتر باز متوازن شوند. (۰/۵) مثال ص. ۲۴ (پ) میزان زبری سطح میز (۰/۲۵) جرم مکعب چوبی (۰/۲۵) ص. ۴۰	۱/۵
	ادامه در صفحه دوم	

راهنمای تصحیح امتحان نهایی درس: فیزیک ۳	رشته: علوم تجربی	ساعت شروع: ۸ صبح	مدت امتحان: ۱۲۰ دقیقه
پایه دوازدهم دوره دوم متوسطه	تعداد صفحه: ۲	تاریخ امتحان: ۱۴۰۰/۰۳/۰۱	
دانش آموزان روزانه، بزرگسال و داوطلبان آزاد سراسر کشور خرداد ماه سال ۱۴۰۰		مرکز سنجش و پایش کیفیت آموزشی http://aee.medu.ir	

۰/۷۵	$\vec{a} = \frac{\vec{F}_{net}}{m} \quad (۰/۲۵)$ $\vec{a} = \frac{(-1)\vec{i} + (-4)\vec{j}}{۰/۴} \quad (۰/۲۵)$ $\vec{a} = (-۲/۵)\vec{i} + (-۱۰)\vec{j} \quad (۰/۲۵)$	مثال ص. ۳۲	۸	
۱/۵	$w = \frac{۲\pi}{T} \quad (۰/۲۵)$ $T = \frac{۲\pi}{۲۵\pi} \quad (۰/۲۵)$ $T = ۰/۰۸ s \quad (۰/۲۵)$ $v_{max} = Aw \quad (۰/۲۵)$ $v_{max} = \frac{۲}{\pi} \times ۲۵\pi \quad (۰/۲۵)$ $v_{max} = ۵۰ m/s \quad (۰/۲۵)$	الف) ص. ۵۵ ب) مثال ص. ۵۹	۹	
۰/۵	$\theta_i = \theta_r = ۴۰^\circ \quad (۰/۵)$	ص. ۷۷	۱۰	
۰/۷۵	$\beta = ۱۰ \log \frac{I}{I_0} \quad (۰/۲۵)$ $۸۰ = ۱۰ \log \frac{I}{۱۰^{-۱۲}} \quad (۰/۲۵)$ $I = ۱۰^{-۴} W/m^2 \quad (۰/۲۵)$	مثال ص. ۷۳	۱۱	
۱	هر مورد (۰/۲۵) ص. ۹۰	الف) پایین ب) بالا پ) پایین ت) بالا	۱۲	
۱/۵	<p>الف) طبق رابطه $\frac{\sin \theta_1}{v_1} = \frac{\sin \theta_2}{v_2}$، چون سینوس زاویه تابش از سینوس زاویه شکست بزرگتر است، (۰/۲۵)</p> <p>تندی انتشار نور در محیط اول بیشتر است. (۰/۲۵) ص. ۸۳</p> <p>ب) محیط اول (۰/۲۵) ص. ۸۳</p> <p>پ) بسامد موج در محیط‌های اول و دوم برابر است. (۰/۲۵) بسامد موج به محیط انتشار موج بستگی ندارد. (۰/۲۵)</p>		۱۳	
۱	الف) پیشینه فاصله جسم (نوسانگر) از نقطه تعادل است. (۰/۵) ص. ۵۵	ب) مدت زمانی است که طول می‌کشد تا تعداد هسته‌ای مادر موجود در یک نمونه، به نصف برسد. (۰/۵) ص. ۱۲۰	۱۴	
۱/۷۵	الف) نادرست ص. ۹۷ ب) درست ص. ۹۹ ج) درست ص. ۱۱۴ د) نادرست ص. ۱۰۹	پ) نادرست ص. ۱۰۴ چ) درست ص. ۱۱۵	ت) نادرست ص. ۱۱۳ هر مورد (۰/۲۵)	۱۵
۱	$\frac{1}{\lambda} = R \left(\frac{1}{n_1^2} - \frac{1}{n_2^2} \right) \quad (۰/۲۵)$ $\frac{1}{\lambda} = \frac{1}{۱۰۰} \left(\frac{1}{۱} - \frac{1}{۴} \right) \quad (۰/۲۵)$ $\lambda = ۱۰۳ / ۳ \text{ nm} \quad (۰/۲۵)$ $\lambda = ۱ / ۰.۳۳ \times ۱۰^{-۷} \text{ m} \quad (۰/۲۵)$	ص. ۱۰۲	۱۶	
۰/۷۵	$۱۲۴ \quad (۰/۲۵)$ $۲۰۸ \quad (۱)$ $۱۲۶ \quad (۲)$ $۸۲ \quad (۳)$	هر مورد (۰/۲۵) تمرین ۱۶ ص. ۱۲۴	۱۷	
۱	$p = \frac{E}{t} \quad (۰/۲۵)$ $\frac{nhc}{\lambda} = pt \quad (۰/۲۵)$ $n = \frac{۵ \times ۱ \times ۵۵۰ \times ۱۰^{-۹}}{۲ \times ۱۰^{-۲۵}} \quad (۰/۲۵)$ $n = ۱ / ۳۷۵ \times ۱۰^{۱۹} \quad (۰/۲۵)$	تمرین ۴-۱-۹۹	۱۸	
۲۰	همکاران محترم، ضمن عرض خسته نباشید لطفاً برای پاسخ‌های صحیح دیگر، نمره لازم را در نظر بگیرید.			

سؤالات امتحان نهایی درس: فیزیک ۳	رشته: علوم تجربی	پایه دوازدهم دوره دوم متوسطه	ساعت شروع: ۸ صبح
تاریخ امتحان: ۱۳/۰۶/۱۴۰۰	تعداد صفحه: ۳	نام و نام خانوادگی:	مدت امتحان: ۱۲۰ دقیقه
دانش آموزان روزانه، بزرگسال و داوطلبان آزاد سراسر کشور در نوبت شهریور ماه سال ۱۴۰۰		مرکز سنجش و پایش کیفیت آموزشی http://aee.medu.ir	

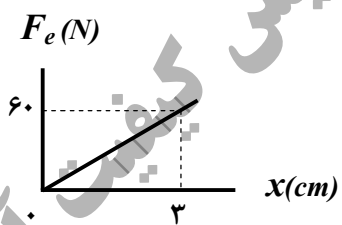
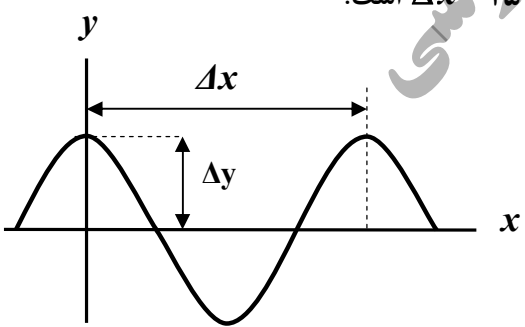
توجه: استفاده از ماشین حساب ساده (دارای چهار عمل اصلی، جذر و درصد) مجاز می باشد.

ردیف	سؤالات	نمره
۱	<p>گزاره‌های زیر را با انتخاب واژه مناسب، کامل کنید. (یک واژه اضافه است)</p> <p style="border: 1px solid black; padding: 5px; display: inline-block;">بردار جابه‌جایی - برداری - تندی متوسط - بردار مکان - شتاب - نرده‌ای</p> <p>الف) تندی متوسط، کمیتی است.</p> <p>ب) پاره خط جهت‌داری که مکان آغازین حرکت را به مکان پایانی حرکت وصل می‌کند نامیده می‌شود.</p> <p>پ) شیب خط مماس بر نمودار سرعت - زمان در هر لحظه برابر در آن لحظه است.</p> <p>ت) برداری که مبدأ محور را به مکان جسم در هر لحظه وصل می‌کند جسم در آن لحظه نامیده می‌شود.</p> <p>ث) در حرکت متحرک بدون تغییر جهت، اندازه سرعت متوسط در هر بازه زمانی برابر در آن بازه زمانی است.</p>	۱/۲۵
۲	<p>خودرویی از حال سکون در امتداد محور x شروع به حرکت می‌کند. پس از $12s$، سرعت خودرو به $24m/s$ در جهت x می‌رسد. بزرگی شتاب متوسط خودرو در این بازه زمانی چقدر است؟</p>	۰/۷۵
۳	<p>شکل روبه‌رو نمودار مکان - زمان متحرکی را نشان می‌دهد که با سرعت ثابت $2m/s$ در جهت محور x حرکت می‌کند.</p> <p>الف) مسافت پیموده شده این متحرک در بازه زمانی صفر تا $6s$، چند متر است؟</p> <p>ب) معادله مکان - زمان این متحرک را بنویسید.</p> <p>پ) t' چند ثانیه است؟</p>	<p>$x(m)$</p> <p>$t(s)$</p>
۴	<p>توضیح دهید کدام یک از نمودارهای مکان - زمان شکل زیر، می‌تواند نشان‌دهنده نمودار $x-t$ یک متحرک باشد.</p>	۰/۵
	<p>(الف)</p> <p>(ب)</p>	
۵	<p>الف) اندازه نیروی مقاومت شاره وارد بر جسم در حال حرکت درون شاره به چه عواملی بستگی دارد؟ (۲ مورد)</p> <p>ب) دو عامل مؤثر بر ضریب اصطکاک ایستایی بین دو سطح را بنویسید.</p> <p>پ) همانند شکل روبه‌رو، جسمی را به نخ بسته و از سقف آویزان می‌کنیم. با انتقال شکل به پاسخ‌نامه، نیروهای وارد بر این جسم ساکن را رسم کنید.</p>	<p>۰/۵</p> <p>۰/۵</p> <p>۰/۵</p>

ادامه سؤالات در صفحه دوم

سؤالات امتحان نهایی درس: فیزیک ۳	رشته: علوم تجربی	پایه دوازدهم دوره دوم متوسطه	ساعت شروع: ۸ صبح
تاریخ امتحان: ۱۳/۰۶/۱۴۰۰	تعداد صفحه: ۳	نام و نام خانوادگی:	مدت امتحان: ۱۲۰ دقیقه
دانش آموزان روزانه، بزرگسال و داوطلبان آزاد سراسر کشور در نوبت شهریور ماه سال ۱۴۰۰		مرکز سنجش و پایش کیفیت آموزشی http://aee.medu.ir	

توجه: استفاده از ماشین حساب ساده (دارای چهار عمل اصلی، جذر و درصد) مجاز می باشد.

ردیف	سؤالات	نمره
۶	شخصی به وزن $600N$ درون آسانسوری، روی یک ترازوی فنری ایستاده است. اگر آسانسور با سرعت ثابت در حال حرکت باشد، ترازو چه عددی را نشان می دهد؟ چرا؟	۰/۷۵
۷	همانند شکل زیر، به جسمی به جرم $20kg$ ، نیروی افقی ثابت $F = 50N$ وارد می شود و جسم با شتاب ثابت $2 m/s^2$ روی سطح افقی به طرف راست حرکت می کند. الف) آیا نیروهای وارد بر جسم متوازن اند؟ ب) اندازه و جهت نیروی اصطکاک جنبشی بین جسم و سطح را تعیین کنید.	۰/۲۵ ۱
۸	در شکل روبه رو، نمودار نیروی کشسانی بر حسب تغییر طول فنر برای یک فنر رسم شده است. ثابت فنر (k) چند نیوتون بر سانتی متر است؟	۰/۷۵
		
۹	درستی یا نادرستی گزاره های زیر را با واژه های ((درست)) یا ((نادرست)) در پاسخ نامه مشخص کنید. الف) دوره تناوب آونگ ساده، به جرم و دامنه آن بستگی دارد. ب) بیشینه تندی نوسانگر در حرکت هماهنگ ساده با بسامد زاویه ای به طور مستقیم، متناسب است. پ) یکی از ویژگی های موج پیش رونده، انتقال انرژی از یک نقطه به نقطه دیگر در جهت انتشار موج است. ت) امواج مکانیکی، از رابطه متقابل میدان های الکتریکی و مغناطیسی به وجود می آیند. ث) در طیف امواج الکترومغناطیسی، بیشترین بسامد مربوط به امواج رادیویی است. ج) اگر یک آونگ با بسامدی برابر با بسامد طبیعی آن به نوسان درآید، برای آونگ، تشدید (رزونانس) رخ می دهد. چ) بازتاب یک دسته پرتوی موازی نور از سطح یک کاغذ، از قانون بازتاب عمومی امواج پیروی نمی کند.	۱/۷۵
۱۰	الف) پژواک را تعریف کنید. ب) از بین موارد زیر، عامل های مؤثر بر تندی صوت را انتخاب کنید و در پاسخ نامه بنویسید. (شکل موج - جنس محیط - دامنه موج - دمای محیط - بسامد موج)	۰/۵ ۰/۵
۱۱	در نمودار جابه جایی - مکان موج عرضی شکل زیر، $\Delta y = 10cm$ و $\Delta x = 25cm$ است. اگر بسامد نوسان های چشمه این موج $10Hz$ باشد: الف) طول موج چند سانتی متر است؟ ب) دامنه موج چند سانتی متر است؟ پ) دوره تناوب موج چند ثانیه است؟	۰/۲۵ ۰/۲۵ ۰/۵
		

ادامه سؤالات در صفحه سوم

سؤالات امتحان نهایی درس: فیزیک ۳	رشته: علوم تجربی	پایه دوازدهم دوره دوم متوسطه	ساعت شروع: ۸ صبح
تاریخ امتحان: ۱۳/۰۶/۱۴۰۰	تعداد صفحه: ۳	نام و نام خانوادگی:	مدت امتحان: ۱۲۰ دقیقه
دانش آموزان روزانه، بزرگسال و داوطلبان آزاد سراسر کشور در نوبت شهریور ماه سال ۱۴۰۰		مرکز سنجش و پایش کیفیت آموزشی http://aee.medu.ir	

توجه: استفاده از ماشین حساب ساده (دارای چهار عمل اصلی، جذر و درصد) مجاز می باشد.

ردیف	سؤالات	نمره
۱۲	معادله مکان - زمان یک نوسانگر هماهنگ ساده در SI به صورت $x = ۰/۱ \cos ۴۰\pi t$ است. بسامد این نوسانگر چند هرتز است؟	۰/۷۵
۱۳	شکل زیر، نمودار تبدیل انرژی در حین حرکت هماهنگ ساده یک سامانه جرم - فنر روی سطح افقی (بدون اصطکاک) را نشان می دهد. نام هر یک از انرژی های ((الف، ب و پ)) را در پاسخ نامه بنویسید.	۰/۷۵
۱۴	الف) شدت صوت در یک کتابخانه 10^{-9} W/m^2 است. تراز شدت این صوت چند دسی بل است؟ $(I_0 = 10^{-12} \text{ W/m}^2)$ ب) ضریب شکست یک نوع شیشه $\frac{3}{2}$ است. تندی انتشار نور در این محیط چند متر بر ثانیه است؟ $(c = 3 \times 10^8 \text{ m/s})$	۰/۷۵ ۰/۷۵
۱۵	توضیح دهید نظریه کوانتومی تابش که توسط اینشتین مطرح شد و در آن نور به صورت مجموعه ای از بسته های انرژی در نظر گرفته شد چگونه به تبیین اثر فوتوالکتریک کمک کرد؟	۰/۷۵
۱۶	کوتاه ترین طول موج در رشته پراکت ($n' = 4$) هیدروژن اتمی را به دست آورید و تعیین کنید که این طول موج در کدام گستره طول موج های الکترومغناطیسی قرار دارد. $(R = 0/01 \text{ (nm)}^{-1})$	۱
۱۷	نام هر یک از واپاشی های زیر را در پاسخ نامه بنویسید. الف) ${}_{9}^{18}\text{F} \rightarrow {}_{8}^{18}\text{O} + {}_{1}^{0}e^{+}$ ب) ${}_{94}^{242}\text{Pu} \rightarrow {}_{92}^{238}\text{U} + {}_{2}^{4}\text{He}$ پ) ${}_{90}^{231}\text{Th}^* \rightarrow {}_{90}^{231}\text{Th} + \gamma$	۰/۷۵
۱۸	واژه مناسب را از داخل پرانتز انتخاب کرده و در پاسخ نامه بنویسید. الف) طیف گسیلی یک لامپ حاوی مقداری گاز کم فشار و رقیق که به ولتاژ بالا وصل است، طیفی (پیوسته - خطی) است. ب) خواص شیمیایی هر اتم را تعداد (پروتون های - نوترون های) هسته تعیین می کنند. پ) نیروی الکتروستاتیکی بین دو پروتون درون هسته، (بلندبرد - کوتاه برد) است. ت) انرژی لازم برای جدا کردن نوکلئون های یک هسته را انرژی (یونش الکترون - بستگی هسته ای) می نامند. ث) هنگام گذار الکترون از یک حالت مانا با انرژی بیشتر به یک حالت مانا با انرژی کمتر یک فوتون (جذب - تابش) می شود.	۱/۲۵
۱۹	نیمه عمر یک نمونه پرتوزا ۴ روز است. پس از گذشت چند روز تعداد هسته های پرتوزای این نمونه به $\frac{1}{64}$ تعداد هسته های پرتوزای اولیه می رسد؟	۱/۲۵
۲۰	شاد و سلامت باشید	

نمره	راهنمای تصحیح	ردیف
۱/۲۵	پ) شتاب a_{av} (ب) بردار جابه‌جایی Δx (ت) تندی متوسط v_{av}	۱
۰/۷۵	$a_{av} = \frac{v_2 - v_1}{t_2 - t_1}$ (۰/۲۵) هر مورد (۰/۲۵) $a_{av} = \frac{24 - 0}{12 - 0}$ (۰/۲۵) $a_{av} = 2 \frac{m}{s^2}$ (۰/۲۵) $v_{av} = 2 \frac{m}{s}$ (۰/۲۵) ۱۱-ص	۲
۱/۵	الف) ۱۲ متر (۰/۲۵) (ب) $x = vt + x_0$ (۰/۲۵) $x = 2t - 4$ (۰/۲۵) پ) $t' = 2s$ (۰/۲۵) ۱۴-ص	۳
۰/۵	شکل الف (۰/۲۵) زیرا متحرک در هر لحظه از زمان صرفاً در یک مکان می‌تواند باشد. (۰/۲۵) ۲۳-ص	۴
۱/۵	الف) بزرگی جسم (۰/۲۵) ، تندی جسم (۰/۲۵) ۳۴-ص ب) جنس سطح تماس دو جسم (۰/۲۵) میزان صافی و زبری آنها (۰/۲۵) ۴۰-ص پ) رسم درست هر نیرو (۰/۲۵) ۵۰-ص	۵
۰/۷۵	$F_N - W = ma$ (۰/۲۵) $F_N - W = 0 \Rightarrow F_N = W$ (۰/۲۵) $F_N = 600 N$ (۰/۲۵) ۵۰-ص	۶
۱/۲۵	الف) خیر (۰/۲۵) ۲۸-ص ب) به طرف چپ (۰/۲۵) ۴۰-ص	۷
۰/۷۵	$F - f_k = ma$ (۰/۲۵) $50 - f_k = 20 \times 2$ (۰/۲۵) $f_k = 10 N$ (۰/۲۵) ۴۰-ص	۸
۱/۷۵	$F_e = kx$ (۰/۲۵) $60 = k(3)$ (۰/۲۵) $k = 20 \frac{N}{cm}$ (۰/۲۵) ۴۱-ص	۹
۱	الف) اگر صوت پس از بازتاب، با یک تأخیر زمانی به گوش شنونده‌ای برسد که صوت اولیه را مستقیماً می‌شنود، به چنین بازتابی، پژواک می‌گویند. (۰/۵) ۲۸-ص ب) جنس محیط (۰/۲۵) ، دمای محیط (۰/۲۵) ۷۱-ص	۱۰

راهنمای تصحیح امتحان نهایی درس: فیزیک ۳		رشته: علوم تجربی		ساعت شروع: ۸ صبح		مدت امتحان: ۱۲۰ دقیقه	
پایه دوازدهم دوره دوم متوسطه		تعداد صفحه: ۲		تاریخ امتحان: ۱۳۰۶/۰۶/۱۴۰۰			
دانش آموزان روزانه، بزرگسال و داوطلبان آزاد سراسر کشور شهریور ماه سال ۱۴۰۰		مرکز سنجش و پایش کیفیت آموزشی http://aee.medu.ir					
ردیف	راهنمای تصحیح						نمره
۱۱	الف) $\lambda = 25 \text{ cm}$ (۰/۲۵)	ب) $A = 1.0 \text{ cm}$ (۰/۲۵)	پ) $T = \frac{1}{f}$ (۰/۲۵)	ت) $T = \frac{1}{10}$ (۰/۲۵)			۱
۱۲	الف) $f = 20 \text{ Hz}$ (۰/۲۵)	ب) $40\pi = 2\pi f$ (۰/۲۵)	پ) $w = 2\pi f$ (۰/۲۵)				۰/۷۵
۱۳	الف) انرژی پتانسیل (۰/۲۵)	ب) انرژی کل (انرژی مکانیکی) (۰/۲۵)	پ) انرژی جنبشی (۰/۲۵)				۰/۷۵
۱۴	الف) $\beta = 3.0 \text{ dB}$ (۰/۲۵)	ب) $\beta = 1.0 \log \frac{10^{-9}}{10^{-12}}$ (۰/۲۵)	پ) $\beta = 1.0 \log \frac{I}{I_0}$ (۰/۲۵)	ت) $n = \frac{c}{v}$ (۰/۲۵)	ث) $\frac{3}{2} = \frac{3 \times 10^8}{v}$ (۰/۲۵)	ج) $v = 2 \times 10^8 \text{ m/s}$ (۰/۲۵)	۱/۵
۱۵	بنابر نظر اینشتین، وقتی نوری تکفام بر سطح فلزی می‌تابد هر فوتون صرفاً با یکی از الکترون‌های فلز برهم‌کنش می‌کند (۰/۲۵) اگر فوتون در حین برهم‌کنش انرژی کافی داشته باشد تا فرایند خارج کردن الکترون از فلز را انجام دهد (۰/۲۵) الکترون به‌طور آنی از سطح فلز خارج می‌شود. (۰/۲۵) <u>ص. ۹۷</u>						۰/۷۵
۱۶	الف) $\lambda = 1600 \text{ nm}$ (۰/۲۵)	ب) $\frac{1}{\lambda} = 0.01 \left(\frac{1}{4^2} - \frac{1}{\infty} \right)$ (۰/۲۵)	پ) $\frac{1}{\lambda} = R \left(\frac{1}{n_1^2} - \frac{1}{n_2^2} \right)$ (۰/۲۵)				۱
۱۷	الف) بتای مثبت	ب) آلفا	پ) گاما	هر مورد (۰/۲۵)			۰/۷۵
۱۸	الف) خطی <u>ص. ۹۹</u>	ب) پروتون‌های <u>ص. ۱۱۳</u>	پ) بلندبُرد <u>ص. ۱۱۴</u>	ت) بستگی هسته‌ای <u>ص. ۱۱۵</u>	ث) تابش <u>ص. ۱۰۵</u>	هر مورد (۰/۲۵)	۱/۲۵
۱۹	$n = 6$ (۰/۲۵)	$\frac{1}{64} N_0 = \frac{N_0}{2^n}$ (۰/۲۵)	$N = N_0 \left(\frac{1}{2} \right)^n$ (۰/۲۵)	$n = \frac{t}{T_{\frac{1}{2}}}$ (۰/۲۵)	$t = 6 \times 4 = 24$ روز (۰/۲۵)	<u>ص. ۱۲۱</u>	۱/۲۵
۲۰	همکار محترم باتشکر از زحمات شما، لطفاً برای پاسخ‌های صحیح دیگر، نمره لازم را در نظر بگیرید.						

ساعات شروع: ۱۰ صبح	پایه دوازدهم دوره دوم متوسطه	رشته: علوم تجربی	سؤالات امتحان نهایی درس: فیزیک ۳
مدت امتحان: ۱۲۰ دقیقه	نام و نام خانوادگی:	تعداد صفحه: ۴	تاریخ امتحان: ۱۴۰۰/۱۰/۱۱
مرکز سنجش و پایش کیفیت آموزشی http://aee.medu.ir		دانش آموزان روزانه، بزرگسال و داوطلبان آزاد سراسر کشور در نوبت دی ماه سال ۱۴۰۰	

توجه: استفاده از ماشین حساب ساده (اداری چهار عمل اصلی، جذر و درصد) مجاز می باشد.

ردیف	سؤالات	نمره
۱	<p>با توجه به واژه های داده شده، گزاره های زیر را کامل کنید. (یک واژه اضافه است)</p> <p>شتاب، جابه جایی، کمتر، شکل، بیشتر</p> <p>الف) پاره خط جهت داری که مکان آغازین را به مکان پایانی حرکت وصل می کند، بردار نامیده می شود.</p> <p>ب) شیب خط مماس بر نمودار سرعت - زمان در هر لحظه دلخواه t، برابر در آن لحظه است.</p> <p>پ) نیروی خالص و ثابت وارد بر یک جسم می تواند سبب تغییر سرعت جسم یا تغییر جسم شود.</p> <p>ت) معمولاً ضریب اصطکاک جنبشی میان دو سطح از ضریب اصطکاک ایستایی میان آن دو سطح است.</p>	۱
۲	<p>نمودار مکان - زمان حرکت مورچه ای بر روی محور x، همانند شکل روبه رو است.</p> <p>با توجه به این نمودار به سوالات زیر پاسخ دهید.</p> <p>الف) در چه لحظه ای مورچه بیشترین فاصله از مبدا مختصات را دارد؟</p> <p>ب) در کدام بازه زمانی سرعت مورچه هم جهت با محور x است؟</p> <p>پ) سرعت متوسط مورچه از لحظه $t_0 = 0s$ تا لحظه $t = 6s$ چقدر است؟</p> <p>ت) در چه لحظه ای جهت حرکت متحرک تغییر کرده است؟</p>	<p>۰/۲۵</p> <p>۰/۲۵</p> <p>۰/۷۵</p> <p>۰/۲۵</p>
۳	<p>شکل روبه رو نمودار مکان - زمان متحرکی را نشان می دهد که در امتداد محور x در حرکت است.</p> <p>الف) از لحظه $t_0 = 0s$ تا لحظه t_1 سرعت متحرک رو به افزایش است یا کاهش؟</p> <p>ب) مسافت پیموده شده از لحظه $0s$ تا لحظه t_1، چند متر است؟</p>	<p>۰/۲۵</p> <p>۰/۵</p>
۴	<p>معادله مکان - زمان متحرکی که با سرعت ثابت در جهت محور x در حال حرکت است در SI به صورت $x = 20t + 10$ است.</p> <p>الف) جابه جایی این متحرک در بازه زمانی $t_1 = 1s$ تا $t_2 = 3s$ چند متر است؟</p> <p>ب) نمودار سرعت - زمان آن را رسم کنید.</p>	<p>۱</p> <p>۰/۲۵</p>
۵	<p>الف) در شکل روبه رو دو نخ به گوی سنگین و ساکنی متصل است. اگر نخ (۲) را به سرعت به سمت پایین بکشیم، احتمال پاره شدن کدام نخ بیشتر است؟</p> <p>ب) منظور از تندی حدی در حرکت چترباز چیست؟</p>	<p>۰/۲۵</p> <p>۰/۵</p>
	ادامه سؤالات در صفحه دوم	

سؤالات امتحان نهایی درس: فیزیک ۳	رشته: علوم تجربی	پایه دوازدهم دوره دوم متوسطه	ساعت شروع: ۱۰ صبح
تاریخ امتحان: ۱۴۰۰/۱۰/۱۱	تعداد صفحه: ۴	نام و نام خانوادگی:	مدت امتحان: ۱۲۰ دقیقه
دانش آموزان روزانه، بزرگسال و داوطلبان آزاد سراسر کشور در نوبت دی ماه سال ۱۴۰۰		مرکز سنجش و پایش کیفیت آموزشی http://aee.medu.ir	

توجه: استفاده از ماشین حساب ساده (دارای چهار عمل اصلی، جذر و درصد) مجاز می باشد.

ردیف	سؤالات	نمره
۶	<p>در هر یک از پرسش‌های زیر، گزینهٔ درست را انتخاب کنید و در پاسخ‌نامه بنویسید.</p> <p>الف) کدام یک از نیروهای زیر، نیروی گرانشی است که از طرف زمین به جسم وارد می‌شود؟ (۱) نیروی مقاومت شاره (۲) نیروی کشش طناب (۳) نیروی وزن</p> <p>ب) شخصی درون آسانسور روی ترازوی فنری ایستاده است. در کدام حالت، عددی که ترازو نشان می‌دهد از وزن شخص بیشتر است؟ (۱) آسانسور ساکن باشد. (۲) آسانسور به طرف بالا شروع به حرکت کند. (۳) آسانسور به طرف پایین شروع به حرکت کند.</p> <p>پ) جسمی روی یک میز افقی و در حالت ساکن قرار دارد. واکنش نیروی عمودی سطح وارد بر جسم: (۱) به میز وارد می‌شود. (۲) به زمین وارد می‌شود. (۳) به جسم وارد می‌شود.</p> <p>ت) ضریب اصطکاک ایستایی میان دو سطح به کدام عامل بستگی دارد؟ (۱) نیروی عمودی سطح (۲) وزن (۳) جنس دو سطح</p>	۱
۷	<p>همانند شکل روبه‌رو، وزنهٔ 4 kg را به فنر آویزان می‌کنیم. پس از رسیدن به تعادل، طول فنر 14 cm می‌شود. اگر ثابت فنر $k = 1000\text{ N/m}$ باشد، طول اولیهٔ فنر را به دست آورید؟ $(g = 10\text{ N/kg})$</p> 	۱
۸	<p>یک خودروی باری با طناب افقی محکمی یک خودروی سواری را می‌کشد. نیروی اصطکاک جنبشی و مقاومت هوا در مقابل حرکت خودروی سواری، 200 N و 400 N است. اگر سرعت خودرو ثابت باشد، نیروی کشش طناب چند نیوتون است؟</p> 	۱
۹	<p>درستی یا نادرستی هر یک از گزاره‌های زیر را با واژهٔ «درست» یا «نادرست» در پاسخ‌نامه مشخص کنید.</p> <p>الف) دامنهٔ حرکت در حرکت نوسانی، فاصلهٔ بین دو انتهای مسیر حرکت نوسانگر هماهنگ ساده است.</p> <p>ب) دورهٔ تناوب سامانهٔ جرم-فنر، با یک فنر معین ولی وزنه‌های متفاوت، با جذر جرم وزنه، به طور مستقیم متناسب است.</p> <p>پ) تاب خوردن کودکی که به طور دوره‌ای هل داده می‌شود، مثالی از نوسان واداشته است.</p> <p>ت) موج‌های پیش‌رونده از نقطه‌ای به نقطهٔ دیگر حرکت کرده و انرژی را با خود منتقل می‌کنند.</p> <p>ث) هنگام انتشار موج الکترومغناطیسی در خلأ، میدان‌های الکتریکی و مغناطیسی با بسامد متفاوت، تغییر می‌کنند.</p> <p>ج) موج صوتی در محیط جامد نمی‌تواند تولید و منتشر شود.</p>	۱/۵
	ادامهٔ سؤالات در صفحهٔ سوم	

سؤالات امتحان نهایی درس: فیزیک ۳	رشته: علوم تجربی	پایه دوازدهم دوره دوم متوسطه	ساعت شروع: ۱۰ صبح
تاریخ امتحان: ۱۴۰۰/۱۰/۱۱	تعداد صفحه: ۴	نام و نام خانوادگی:	مدت امتحان: ۱۲۰ دقیقه
دانش آموزان روزانه، بزرگسال و داوطلبان آزاد سراسر کشور در نوبت دی ماه سال ۱۴۰۰		مرکز سنجش و پایش کیفیت آموزشی http://aee.medu.ir	

توجه: استفاده از ماشین حساب ساده (ادارای چهار عمل اصلی، جذر و درصد) مجاز می باشد.

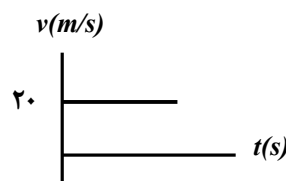
ردیف	سؤالات	نمره
۱۰	انرژی مکانیکی یک نوسانگر وزنه- فنر که روی سطح افقی بدون اصطکاک در حال نوسان است برابر 10 J و جرم وزنه این نوسانگر 4 kg است. در لحظه ای که انرژی جنبشی نوسانگر برابر انرژی پتانسیل آن است، تندی حرکت نوسانگر چند $\frac{\text{m}}{\text{s}}$ است؟	۱
۱۱	تراز شدت صوت در کتابخانه 30 dB است. شدت این صوت چند وات بر مترمربع است؟ $(I_0 = 10^{-12}\text{ W/m}^2)$	۰/۷۵
۱۲	شکل زیر را به پاسخنامه انتقال دهید سپس پر توهای بازتابیده نور از آینه های M_1 و M_2 را رسم کنید و مقدار زاویه های تابش و بازتابش آینه M_2 را بنویسید.	۱
۱۳	چشمه موجی با بسامد 10 Hz در یک محیط که تندی انتشار موج در آن $100\frac{\text{m}}{\text{s}}$ است نوسان های طولی ایجاد می کند. الف) دوره تناوب این موج چند ثانیه است؟ ب) فاصله بین یک تراکم و یک انبساط متوالی چند متر است؟	۰/۵ ۱
۱۴	الف) تندی انتشار موج عرضی در یک ریسمان یا تار کشیده، به چه عواملی بستگی دارد؟ ب) در انتشار موج سطحی روی آب های کم عمق با ورود موج به بخش عمیق (تشت موج)، بسامد موج و تندی انتشار موج در بخش کم عمق و بخش عمیق را مقایسه کنید.	۰/۵ ۰/۵
۱۵	یک چشمه نور مرئی با توان 100 W فوتون هایی با طول موج 600 nm گسیل می کند. چه تعداد فوتون در هر ثانیه از این چشمه نور گسیل می شود؟ $(hc = 2 \times 10^{-25}\text{ J.m})$	۱
۱۶	الف) منشأ فیزیکی تشکیل طیف پیوسته گسیلی جسم جامد چیست؟ ب) فرایند جذب فوتون توسط اتم را توضیح دهید. پ) چرا هسته اتم ها در واکنش های شیمیایی برانگیخته نمی شود؟	۰/۵ ۰/۵ ۰/۵
۱۷	ایزوتوپ $({}^{207}_{82}\text{Pb})$ با گسیل آلفا واپاشی می کند. معادله این واپاشی را در پاسخنامه بنویسید. (هسته دختر با نماد $({}^A_Z\text{Y})$ مشخص شود).	۰/۷۵
	ادامه سؤالات در صفحه چهارم	

ساعات شروع: ۱۰ صبح	پایه دوازدهم دوره دوم متوسطه	رشته: علوم تجربی	سؤالات امتحان نهایی درس: فیزیک ۳
مدت امتحان: ۱۲۰ دقیقه	نام و نام خانوادگی:	تعداد صفحه: ۴	تاریخ امتحان: ۱۴۰۰/۱۰/۱۱
مرکز سنجش و پایش کیفیت آموزشی http://aee.medu.ir		دانش آموزان روزانه، بزرگسال و داوطلبان آزاد سراسر کشور در نوبت دی ماه سال ۱۴۰۰	

توجه: استفاده از ماشین حساب ساده (دارای چهار عمل اصلی، جذر و درصد) مجاز می باشد.

ردیف	سؤالات	نمره										
۱۸	<p>هر یک از گزاره‌های ستون A تنها به یک رشته خط طیف گسیلی اتم هیدروژن، در ستون B مرتبط است. گزاره مربوط به هر رشته را در پاسخ‌نامه مشخص کنید. (در ستون B یک مورد اضافه است)</p> <table border="1"> <thead> <tr> <th>ستون A</th> <th>ستون B</th> </tr> </thead> <tbody> <tr> <td>الف) بلندترین طول موج این رشته متناظر با $(n=4)$ است.</td> <td>۱) لیمان $(n'=1)$</td> </tr> <tr> <td>ب) خط‌های طیف گسیلی این رشته در ناحیه فرابنفش است.</td> <td>۲) پاشن $(n'=3)$</td> </tr> <tr> <td>پ) دومین خط طیفی این رشته متناظر با $(n=6)$ است.</td> <td>۳) براکت $(n'=4)$</td> </tr> <tr> <td></td> <td>۴) پفوند $(n'=5)$</td> </tr> </tbody> </table>	ستون A	ستون B	الف) بلندترین طول موج این رشته متناظر با $(n=4)$ است.	۱) لیمان $(n'=1)$	ب) خط‌های طیف گسیلی این رشته در ناحیه فرابنفش است.	۲) پاشن $(n'=3)$	پ) دومین خط طیفی این رشته متناظر با $(n=6)$ است.	۳) براکت $(n'=4)$		۴) پفوند $(n'=5)$	۰/۷۵
ستون A	ستون B											
الف) بلندترین طول موج این رشته متناظر با $(n=4)$ است.	۱) لیمان $(n'=1)$											
ب) خط‌های طیف گسیلی این رشته در ناحیه فرابنفش است.	۲) پاشن $(n'=3)$											
پ) دومین خط طیفی این رشته متناظر با $(n=6)$ است.	۳) براکت $(n'=4)$											
	۴) پفوند $(n'=5)$											
۱۹	<p>نیمه عمر یک نوع ایزوتوپ بیسموت، یک ساعت است. در نمونه‌ای از این ایزوتوپ، پس از گذشت ۴ ساعت، چه کسری از ماده اولیه باقی می‌ماند؟</p>	۱										
	موفق باشید	۲۰										

مدت امتحان: ۱۲۰ دقیقه	ساعت شروع: ۱۰ صبح	رشته: علوم تجربی	راهنمای تصحیح امتحان نهایی درس: فیزیک ۳
تاریخ امتحان: ۱۴۰۰/۱۰/۱۱		پایه دوازدهم دوره دوم متوسطه	
مرکز سنجش و پایش کیفیت آموزشی http://aee.medu.ir		دانش آموزان روزانه، بزرگسال و داوطلبان آزاد سراسر کشور دی ماه سال ۱۴۰۰	

۱	الف) جابه‌جایی ص.۲ (ب) شتاب ص.۱۱ (پ) شکل ص.۲۸ (ت) کمتر ص.۴۰ هر مورد (۰/۲۵)	۱
۱/۵	الف) $t = 2s$ (۰/۲۵) (ب) در بازه صفر تا ۲ ثانیه (۰/۲۵) پ) $v_{av} = -\frac{1}{3} \frac{m}{s}$ (۰/۲۵) $v_{av} = \frac{-1-1}{6}$ (۰/۲۵) $v_{av} = \frac{\Delta x}{\Delta t}$ (۰/۲۵) ت) $t = 2s$ (۰/۲۵) ص.۷	۲
۰/۷۵	الف) افزایش (۰/۲۵) ص.۱۰ (ب) $l = 8 + 2 = 10m$ (۰/۵) ص.۲	۳
۱/۲۵	الف) $\Delta x = x_r - x_1$ (۰/۲۵) $x_r = 60 + 10 = 70m$ (۰/۲۵) $x_1 = 20 + 10 = 30m$ (۰/۲۵) $\Delta x = 70 - 30 = 40m$ (۰/۲۵) ب) رسم نمودار سرعت - زمان (۰/۲۵)  ص.۲۴	۴
۰/۷۵	الف) نخ (۲) (۰/۲۵) ص.۳۰ (ب) در سقوط آزاد چترباز، پس از آن که نیروی مقاومت هوا و وزن هم اندازه شوند، (نیروهای وارد بر چترباز متوازن شوند) چترباز با تندی ثابت موسوم به تندی حدی به طرف پایین حرکت می‌کند. (۰/۵) ص.۳۵	۵
۱	الف) ۳ ص.۳۳ (ب) ۲ ص.۳۶ (پ) ۱ ص.۳۵ (ت) ۳ ص.۳۸ هر مورد (۰/۲۵)	۶
۱	$F = k(L - L_0)$ (۰/۲۵) $mg = k(L - L_0)$ (۰/۲۵) $4 \times 10 = 1000(0.14 - L_0)$ (۰/۲۵) $L_0 = 0.1 m$ (۰/۲۵) ص.۴۲	۷
۱	$F_{net} = ma$ (۰/۲۵) $T - f_D - f_k = 0$ (۰/۲۵) $T - 200 - 400 = 0$ (۰/۲۵) $T = 600 N$ (۰/۲۵) ص.۵۲	۸
۱/۵	الف) نادرست ص.۵۵ (ب) درست ص.۵۷ (ج) نادرست ص.۷۰ (د) درست ص.۶۲ هر مورد (۰/۲۵)	۹
۱	$E = K + U$ (۰/۲۵) $E = 2K = 2\left(\frac{1}{2}mv^2\right)$ (۰/۲۵) $10 = 2\left(\frac{1}{2} \times 0.4 \times v^2\right)$ (۰/۲۵) $v = 5 \frac{m}{s}$ (۰/۲۵) ص.۷۰	۱۰
۰/۷۵	$\beta = 10 \log \frac{I}{I_0}$ (۰/۲۵) $30 = 10 \log \frac{I}{10^{-12}}$ (۰/۲۵) $10^3 = \frac{I}{10^{-12}}$ $I = 10^{-9} W/m^2$ (۰/۲۵) ص.۷۳	۱۱
ادامه راهنمای تصحیح در صفحه دوم		

مدت امتحان: ۱۲۰ دقیقه	ساعت شروع: ۱۰ صبح	رشته: علوم تجربی	راهنمای تصحیح امتحان نهایی درس: فیزیک ۳
تاریخ امتحان: ۱۴۰۰/۱۰/۱۱		پایه دوازدهم دوره دوم متوسطه	
مرکز سنجش و پایش کیفیت آموزشی http://aee.medu.ir		دانش آموزان روزانه، بزرگسال و داوطلبان آزاد سراسر کشور دی ماه سال ۱۴۰۰	

۱		رسم درست هر پرتو (۰/۲۵) - مقدار هر زاویه (۰/۲۵) <u>ص. ۹۳</u>	۱۲
۱/۵	$T = \frac{1}{f}$ (۰/۲۵) $T = 0.1s$ (۰/۲۵) الف) (ب) $\lambda = \frac{v}{f}$ (۰/۲۵) $\lambda = \frac{100}{10} = 10m$ (۰/۲۵) $\Delta x = \frac{\lambda}{2}$ (۰/۲۵) $\Delta x = 5m$ (۰/۲۵) <u>ص. ۹۱</u>	۱۳	
۱	الف) نیروی کشش تار (۰/۲۵)، چگالی خطی جرم (۰/۲۵) <u>ص. ۶۵</u> ب) بسامد موج هر دو بخش برابر است. (۰/۲۵). تندی انتشار موج در بخش عمیق، بیشتر است. (۰/۲۵) <u>ص. ۸۲</u>	۱۴	
۱	$E = pt$ (۰/۲۵) $\frac{nhc}{\lambda} = pt$ (۰/۲۵) $\frac{n \times 2 \times 10^{-25}}{600 \times 10^{-9}} = 100$ (۰/۲۵) $n = 3 \times 10^{20}$ (۰/۲۵) <u>ص. ۹۸</u>	۱۵	
۱/۵	الف) این طیف ناشی از برهم کنش قوی بین اتم‌های سازنده جسم جامد است. (۰/۵) <u>ص. ۹۹</u> ب) هنگامی که الکترون از ترازهای انرژی پایین‌تر به ترازهای انرژی بالاتر برود اتم، فوتونی را که دقیقاً انرژی لازم برای گذار را دارد جذب می‌کند. (۰/۵) <u>ص. ۱۰۹</u> پ) زیرا اختلاف بین ترازهای انرژی نوکلئون‌ها در هسته از مرتبه keV تا مرتبه MeV است در حالی که اختلاف بین ترازهای انرژی الکترون‌ها در اتم از مرتبه eV است. (۰/۵) <u>ص. ۱۱۵</u>	۱۶	
۰/۷۵	${}_{82}^{207}\text{Pb} \rightarrow {}_2^4\text{He} + {}_{80}^{203}\text{Y}$ (۰/۲۵) (۰/۵) <u>ص. ۱۲۴</u>	۱۷	
۰/۷۵	الف) ۲ (ب) ۱ (پ) ۳ هر مورد (۰/۲۵) <u>ص. ۱۰۱</u>	۱۸	
۱	$n = \frac{t}{T_{1/2}} = \frac{4}{1} = 4$ (۰/۲۵) $N = N_0 \left(\frac{1}{2}\right)^n$ (۰/۲۵) $\frac{N}{N_0} = \left(\frac{1}{2}\right)^4$ (۰/۲۵) <u>ص. ۱۲۵</u> $\frac{N}{N_0} = \frac{1}{16}$ (۰/۲۵)	۱۹	
۲۰	همکاران محترم، ضمن عرض خسته نباشید لطفاً برای پاسخ‌های صحیح دیگر، نمره لازم را در نظر بگیرید		

سؤالات امتحان نهایی درس: فیزیک ۳	تعداد صفحه: ۳	پایه دوازدهم دوره دوم متوسطه	ساعت شروع: ۸ صبح
تاریخ امتحان: ۱۴۰۱/۰۳/۱۷	رشته: علوم تجربی	نام و نام خانوادگی:	مدت امتحان: ۱۲۰ دقیقه
دانش آموزان روزانه، بزرگسال و داوطلبان آزاد سراسر کشور در نوبت خرداد ماه سال ۱۴۰۱		مرکز سنجش و پایش کیفیت آموزشی http://aee.medu.ir	

توجه: استفاده از ماشین حساب ساده (دارای چهار عمل اصلی، جذر و درصد) مجاز می باشد.

ردیف	سؤالات	نمره
۱	با توجه به واژه‌های داده شده، گزاره‌های زیر را کامل کنید. (یک واژه اضافه است) <div style="border: 1px solid black; padding: 5px; display: inline-block;"> تکانه - نرده‌ای - جابه‌جایی - شتاب - هم‌نوع </div> الف) مسافت، کمیتی است. ب) مساحت سطح بین نمودار سرعت- زمان و محور زمان در هر بازه زمانی، برابر با اندازه در آن بازه است. پ) نیروهای کنش و واکنش همواره به دو جسم وارد می‌شوند و هستند. ت) حاصل ضرب جرم جسم در سرعت آن جسم است.	۱
۲	نمودار مکان- زمان دو متحرک A و B که با سرعت ثابت در راستای محور x حرکت می‌کنند به صورت شکل روبه‌رو است. الف) جهت حرکت هر متحرک را مشخص کنید. ب) آیا ممکن است این دو متحرک به هم برسند؟	۰/۵ ۰/۲۵
۳	معادله سرعت- زمان متحرکی که در راستای محور x حرکت می‌کند در SI به صورت $v = -2t + 2$ است. اگر متحرک در لحظه $t_0 = 0s$ در مکان $x_0 = 1m$ باشد؛ الف) معادله مکان- زمان این متحرک را بنویسید. ب) سرعت متوسط متحرک در بازه زمانی $t_0 = 0s$ تا $t_3 = 3s$ چند متر بر ثانیه است؟	۰/۷۵ ۰/۷۵
۴	شکل زیر نمودار مکان- زمان جسمی را که روی محور x با شتاب ثابت حرکت می‌کند نشان می‌دهد. الف) در کدام لحظه متحرک بیشترین فاصله را از مبدأ محور دارد؟ ب) جهت حرکت متحرک چند بار تغییر کرده است؟ پ) در بازه زمانی $0s$ تا t_1 ، حرکت تندشونده است یا کندشونده؟ ت) در کدام بازه زمانی، متحرک به مبدأ محور نزدیک می‌شود؟ ث) شتاب متحرک در جهت محور x است یا خلاف جهت محور x؟	۱/۲۵
۵	واژه مناسب را از داخل پرانتز انتخاب کنید و در پاسخ‌نامه بنویسید. الف) اگر جسمی با سرعت ثابت حرکت کند، نیروهای وارد بر جسم متوازن (هستند - نیستند). ب) هنگام حرکت جسم در راستای قائم به طرف بالا، جهت نیروی مقاومت هوا به طرف (بالا- پایین) است. پ) اگر بر ماه نیرویی وارد نشود، ماه باید به صورت (مستقیم- دایره‌ای) حرکت کند.	۰/۷۵
۶	فتری با ثابت $20 \frac{N}{cm}$ از سقف یک آسانسور آویزان است. اگر جسمی به جرم $2kg$ از انتهای فنر آویزان شده و آسانسور با شتاب ثابت $2 \frac{m}{s^2}$ از حال سکون رو به بالا شروع به حرکت کند، تغییر طول فنر چند سانتی‌متر است؟ $(g = 10 \frac{N}{kg})$	۱
	ادامه در صفحه دوم	

سؤالات امتحان نهایی درس: فیزیک ۳	تعداد صفحه: ۳	پایه دوازدهم دوره دوم متوسطه	ساعت شروع: ۸ صبح
تاریخ امتحان: ۱۴۰۱/۰۳/۱۷	رشته: علوم تجربی	نام و نام خانوادگی:	مدت امتحان: ۱۲۰ دقیقه
دانش آموزان روزانه، بزرگسال و داوطلبان آزاد سراسر کشور در نوبت خرداد ماه سال ۱۴۰۱		مرکز سنجش و پایش کیفیت آموزشی http://aee.medu.ir	

توجه: استفاده از ماشین حساب ساده (دارای چهار عمل اصلی، جذر و درصد) مجاز می باشد.

ردیف	سؤالات	نمره
۷	مانند شکل روبه‌رو، جسمی را با نیروی عمودی \vec{F} به دیوار قائمی فشرده و ثابت نگه داشته‌ایم. توضیح دهید؛ تأثیر افزایش نیروی \vec{F} بر هر یک از کمیت‌های زیر چگونه است؟ الف) اندازه نیروی اصطکاک ایستایی وارد بر جسم ب) اندازه نیروی عمودی سطح	۰/۵ ۰/۵
۸	ماهواره‌ای روی مدار تقریباً دایره‌ای در ارتفاع $h = 1600 \text{ km}$ از سطح زمین، به دور زمین می‌چرخد. شتاب گرانشی وارد بر ماهواره در این فاصله، چند برابر شتاب گرانشی وارد به آن در سطح زمین است؟ ($R_e = 6400 \text{ km}$)	۱
۹	درستی یا نادرستی هریک از گزاره‌های زیر را با واژه «درست» یا «نادرست» در پاسخ‌نامه مشخص کنید. الف) با افزایش ثابت فنر در سامانه جرم- فنر (با جرم یکسان) دوره تناوب نوسان‌ها کوتاه‌تر می‌شود. ب) نوسان تاب بدون هُل دادن، یک نوسان نامیرا است. پ) در امواج دایره‌ای ایجاد شده بر سطح آب، فاصله بین دو برآمدگی مجاور برابر یک طول موج است. ت) بیشترین بسامد در طیف امواج الکترومغناطیسی، متعلق به امواج رادیویی است. ث) امواج صوتی هنگام انتشار در هوا، عرضی هستند. ج) با حرکت یک چشمه صوتی، فاصله جبهه‌های موج در جلوی چشمه، بیشتر از پشت آن می‌شود.	۱/۵
۱۰	دامنه نوسان یک نوسانگر جرم- فنر در حرکت هماهنگ ساده 0.1 m و سختی فنر آن $100 \frac{\text{N}}{\text{m}}$ است. انرژی مکانیکی نوسانگر هنگام نوسان روی یک سطح افقی بدون اصطکاک، چند ژول است؟	۰/۷۵
۱۱	در یک طناب تحت کشش با چگالی خطی جرم $0.2 \frac{\text{kg}}{\text{m}}$ ، تندی انتشار موج $5 \frac{\text{m}}{\text{s}}$ است. نیروی کشش طناب را به دست آورید.	۰/۷۵
۱۲	الف) امواج الکترومغناطیسی تخت تابیده به یک سطح کاو پس از بازتابش در یک نقطه کانونی می‌شوند. از این ساز و کار در چه وسایلی استفاده می‌شود؟ (۲ مورد) ب) مانند شکل روبه‌رو، تپی را در یک ریسمان کشیده بلند که یک سر آن بر تکیه‌گاهی ثابت شده است روانه می‌کنیم. بازتاب این تپ را در پاسخ‌نامه رسم کنید.	۰/۵ ۰/۵
۱۳	یک موج صوتی با توان $1/6 \times 10^{-4} \text{ W}$ از صفحه‌ای با مساحت 4 m^2 در راستای عمود بر صفحه می‌گذرد. شدت صوت عبوری از این صفحه چقدر است؟	۰/۷۵
	ادامه در صفحه سوم	

سؤالات امتحان نهایی درس: فیزیک ۳	تعداد صفحه: ۳	پایه دوازدهم دوره دوم متوسطه	ساعت شروع: ۸ صبح
تاریخ امتحان: ۱۴۰۱/۰۳/۱۷	رشته: علوم تجربی	نام و نام خانوادگی:	مدت امتحان: ۱۲۰ دقیقه
دانش آموزان روزانه، بزرگسال و داوطلبان آزاد سراسر کشور در نوبت خرداد ماه سال ۱۴۰۱		مرکز سنجش و پایش کیفیت آموزشی http://aee.medu.ir	

توجه: استفاده از ماشین حساب ساده (دارای چهار عمل اصلی، جذر و درصد) مجاز می باشد.

ردیف	سؤالات	نمره
۱۴	<p>در شکل روبه‌رو موج نوری فرودی از هوا وارد شیشه می‌شود. بخشی از موج در سطح جدایی دو محیط باز می‌تابد و بخشی دیگر شکست می‌یابد و وارد شیشه می‌شود.</p> <p>الف) زاویه بازتابش چند درجه است؟ ب) ضریب شکست شیشه را حساب کنید.</p> <p>($\sin 50^\circ = 0/75$, $\sin 30^\circ = 0/5$, $n_1 = 1$)</p>	۰/۲۵ ۰/۷۵
۱۵	<p>الف) پژواک ب) پاشندگی نور پ) تابش گرمایی</p>	۱/۵
۱۶	<p>در آزمایش فوتوالکتریک، فوتون‌هایی با طول موج 248 nm بر سطح یک فلز تابش می‌شود. انرژی هر فوتون چند الکترون ولت است؟</p> <p>($hc = 1240 \text{ eV.nm}$)</p>	۰/۷۵
۱۷	<p>در هریک از پرسش‌های زیر، گزینه درست را انتخاب کنید و در پاسخ‌نامه بنویسید.</p> <p>الف) در اتم هیدروژن، هنگام گذار الکترون از تراز انرژی بالاتر به تراز انرژی پایین‌تر؛ (۱) یک فوتون جذب می‌شود. (۲) یک فوتون گسیل می‌شود. (۳) اتم برانگیخته می‌شود.</p> <p>ب) کدام یک از پرتوهای زیر، بیشترین نفوذ را در ورقه سربی دارند؟ (۱) پرتو گاما (۲) پرتو آلفا (۳) پرتو بتا</p> <p>پ) کدام مورد درباره نیروی هسته‌ای درست است؟ (۱) بلندبرد است (۲) کوتاه‌برد است (۳) رانشی است</p>	۰/۷۵
۱۸	<p>سومین طول موج در رشته پاشن ($n' = 3$) هیدروژن اتمی را به دست آورید و تعیین کنید که این طول موج در کدام ناحیه از طیف امواج الکترومغناطیسی قرار دارد.</p> <p>($R = 0/01 \text{ (nm)}^{-1}$)</p>	۱
۱۹	<p>شکل روبه‌رو دو مرحله از فرایند ایجاد باریکه لیزر را به طور طرح‌وار نشان می‌دهد.</p> <p>الف) منظور از عبارت "اتم‌ها در وضعیت معمول" چیست؟ ب) منظور از "وارونی جمعیت" چیست؟</p>	۰/۲۵ ۰/۲۵
۲۰	<p>الف) معادله واپاشی روبه‌رو را کامل کنید. (هسته دختر با نماد ${}^A_Z Y$ نوشته شود) ${}^{222}_{86} \text{Rn} \rightarrow \dots + {}^4_2 \alpha$</p> <p>ب) نیمه عمر یک هسته پرتوزا ۴ ساعت است. پس از گذشت ۱۶ ساعت، چه کسری از ماده اولیه باقی می‌ماند؟</p>	۰/۵ ۱
۲۰	شاد و پیروز باشید	

مدت امتحان: ۱۲۰ دقیقه	ساعت شروع: ۸ صبح	رشته: علوم تجربی	راهنمای تصحیح امتحان نهایی درس: فیزیک ۳
تاریخ امتحان: ۱۴۰۱/۰۳/۱۷		تعداد صفحه: ۲	پایه دوازدهم دوره دوم متوسطه
مرکز سنجش و پایش کیفیت آموزشی http://aee.medu.ir		دانش آموزان روزانه، بزرگسال و داوطلبان آزاد سراسر کشور خرداد ماه سال ۱۴۰۱	

ردیف	راهنمای تصحیح	نمره
۱	الف) نرده‌ای ص. ۹ (ب) جابجایی ص. ۱۷ (پ) هم‌نوع ص. ۳۲ (ت) تکانه ص. ۴۵ هر مورد (۰/۲۵)	۱
۲	الف) متحرک A جهت محور x (۰/۲۵)، متحرک B خلاف جهت محور x (۰/۲۵) ب) خیر (۰/۲۵) ص. ۱۴	۰/۷۵
۳	الف) ص. ۱۷ $x = -t^2 + 2t + 1$ (۰/۲۵) ب) ص. ۱۵ $a = -2m/s^2$ (۰/۲۵) $x = \frac{1}{2}at^2 + v_0t + x_0$ (۰/۲۵) $v_{av} = -1 m/s$ (۰/۲۵) $v_{av} = \frac{(-6+2)+(2)}{2}$ (۰/۲۵) $v_{av} = \frac{v+v_0}{2}$ (۰/۲۵)	۱/۵
۴	الف) t_1 ص. ۸ (ب) یک بار ص. ۸ (پ) کندشونده ص. ۱۶ ت) t_1 تا t_2 ص. ۸ (ث) خلاف جهت محور x ص. ۱۲	۱/۲۵
۵	الف) هستند ص. ۲۹ (ب) پایین ص. ۳۴ (پ) مستقیم ص. ۴۷ هر مورد (۰/۲۵)	۰/۷۵
۶	$20\Delta L = 24$ (۰/۲۵) $\Delta L = 1/2 cm$ (۰/۲۵) $F_e = (2 \times 2) + (2 \times 10)$ (۰/۲۵) $F_e - mg = ma$ (۰/۲۵) ص. ۵۱	۱
۷	الف) $f_s = mg$ (۰/۲۵). اندازه نیروی وزن ثابت است، بنابراین اندازه نیروی اصطکاک ایستایی تغییر نمی‌کند. (۰/۲۵) ب) نیروی عمودی سطح افزایش می‌یابد (۰/۲۵). جسم در حال تعادل است، اندازه نیروی عمودی سطح برابر F می‌شود. ص. ۵۲ (۰/۲۵)	۱
۸	$\frac{g}{g_0} = 0/64$ (۰/۲۵) $\frac{g}{g_0} = \left(\frac{R_e}{R_e+h}\right)^2$ (۰/۲۵) $\frac{g}{g_0} = \left(\frac{6400}{6400+1600}\right)^2$ (۰/۲۵) $g_0 = G \frac{M_e}{R_e^2}$ (۰/۲۵) ص. ۴۹	۱
۹	الف) درست ص. ۵۷ (ب) نادرست ص. ۶۰ (پ) درست ص. ۶۳ ت) نادرست ص. ۶۸ (ث) نادرست ص. ۷۱ (ج) نادرست ص. ۷۵ هر مورد (۰/۲۵)	۱/۵
۱۰	ص. ۵۸ $E = 0/5 J$ (۰/۲۵) $E = \frac{1}{2} \times 100 \times (0/1)^2$ (۰/۲۵) $E = \frac{1}{2} kA^2$ (۰/۲۵)	۰/۷۵
۱۱	$F = 5 N$ (۰/۲۵) $\delta = \sqrt{\frac{F}{0/2}}$ (۰/۲۵) $V = \sqrt{\frac{F}{\mu}}$ (۰/۲۵) ص. ۶۵	۰/۷۵
	ادامه در صفحه دوم	

مدت امتحان: ۱۲۰ دقیقه	ساعت شروع: ۸ صبح	رشته: علوم تجربی	راهنمای تصحیح امتحان نهایی درس: فیزیک ۳
تاریخ امتحان: ۱۴۰۱/۰۳/۱۷		تعداد صفحه: ۲	پایه دوازدهم دوره دوم متوسطه
مرکز سنجش و پایش کیفیت آموزشی http://aee.medu.ir		دانش آموزان روزانه، بزرگسال و داوطلبان آزاد سراسر کشور خرداد ماه سال ۱۴۰۱	

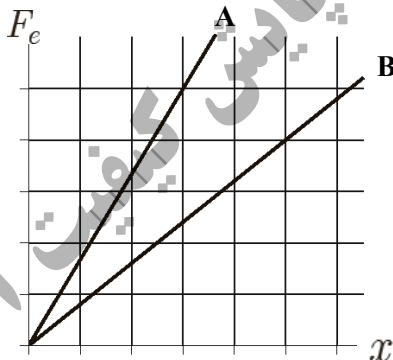
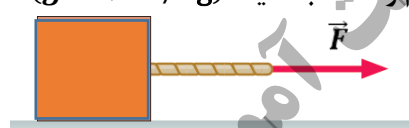
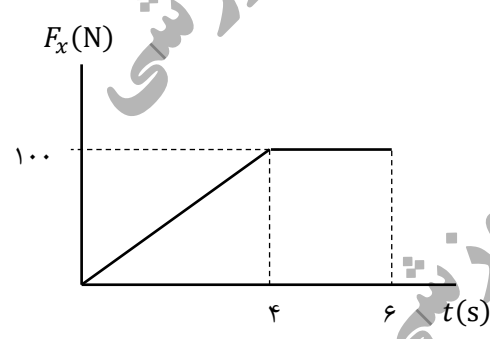
ردیف	راهنمای تصحیح	نمره
۱۲	الف) آنتن‌های بشقابی (۰/۲۵)، اجاق‌های خورشیدی (۰/۲۵) ص. ۸۰ ب) ص. ۷۷ رسم درست تب بازتابی (۰/۵)	۱
۱۳	ص. ۷۲ $I = 4 \times 10^{-5} \text{ W/m}^2$ (۰/۲۵) $I = \frac{1/6 \times 10^{-4}}{4}$ (۰/۲۵) $I = \frac{P_{av}}{A}$ (۰/۲۵)	۰/۷۵
۱۴	الف) ۵۰ درجه (۰/۲۵) ص. ۷۷ ب) ص. ۸۵	۱
۱۵	الف) اگر صوت پس از بازتاب با تاخیر زمانی به گوش شنونده‌ای برسد که صوت اولیه را مستقیماً می‌شنود به چنین بازتابی پژواک می‌گویند. (۰/۵) ص. ۷۸ ب) وقتی باریکه نور سفید به وجهی از یک منشور می‌تابد، هنگام عبور از منشور به رنگ‌های مختلفی تجزیه (پاشیده) می‌شود. (۰/۵) ص. ۸۷ پ) همه اجسام در هر دمایی که باشند از خود امواج الکترومغناطیسی گسیل می‌کنند که به آن تابش گرمایی گفته می‌شود. (۰/۵) ص. ۹۹	۱/۵
۱۶	$E = 5 \text{ eV}$ (۰/۲۵) $E = \frac{1240 \cdot \text{eV} \cdot \text{nm}}{248 \text{ nm}}$ (۰/۲۵) $E = \frac{hc}{\lambda}$ (۰/۲۵) ص. ۹۸	۰/۷۵
۱۷	الف) (۲) ص. ۱۰۵ ب) (۱) ص. ۱۱۶ پ) (۲) ص. ۱۱۴ هر مورد (۰/۲۵)	۰/۷۵
۱۸	فروسرخ (۰/۲۵) $\lambda = 1200 \text{ nm}$ (۰/۲۵) $\frac{1}{\lambda} = \frac{1}{100} \left(\frac{1}{3^2} - \frac{1}{6^2} \right)$ (۰/۲۵) $\frac{1}{\lambda} = R \left(\frac{1}{n^2} - \frac{1}{n'^2} \right)$ (۰/۲۵) ص. ۱۰۲	۱
۱۹	الف) بیشتر الکترون‌ها در تراز انرژی پایین‌تر قرار دارند. (۰/۲۵) ب) بیشتر الکترون‌ها در تراز بالاتری (در مقایسه با تراز پایین‌تر) قرار دارند. (۰/۲۵) ص. ۱۲۳	۰/۵
۲۰	الف) Y_{84}^{218} (۰/۵) ص. ۱۱۶ ب) ص. ۱۲۱	۱/۵
	$N = N_0 \left(\frac{1}{2} \right)^n$ (۰/۲۵) $n = \frac{t}{T_{1/2}}$ (۰/۲۵) $n = 4$ (۰/۲۵) $\frac{N}{N_0} = \frac{1}{16}$ (۰/۲۵)	
۲۰	همکاران محترم، ضمن عرض خسته نباشید لطفاً برای پاسخ‌های صحیح دیگر، نمره لازم را در نظر بگیرید.	

ساعات شروع: ۸ صبح	نام و نام خانوادگی:	رشته علوم تجربی	فیزیک ۳
مدت امتحان: ۱۲۰ دقیقه	پایه دوازدهم دوره دوم متوسطه	تعداد صفحات: ۴	تاریخ امتحان: ۱۳/۶/۱۴۰۱
مرکز سنجش و پایش کیفیت آموزشی http://aee.medu.ir	دانش آموزان روزانه، بزرگسال و داوطلبان آزاد سراسر کشور در نوبت شهریور ماه سال ۱۴۰۱		

توجه: استفاده از ماشین حساب ساده (دارای چهار عمل اصلی و جذر و درصد) مجاز است.

ردیف	سؤالات (پاسخ نامه دارد)	بارم
۱	درستی یا نادرستی جمله‌های زیر را با علامت‌های (د) یا (ن) در پاسخ برگ مشخص کنید: الف) نمودار مکان - زمان در حرکت با شتاب ثابت به صورت خط راست است. ب) در لحظه‌ای که متحرک از مبدأ مکان عبور می‌کند، جهت بردار مکان تغییر می‌کند. پ) مسافت طی شده توسط متحرک، کمیتی نرده‌ای است. ت) در حرکت بر روی خط راست، اگر شتاب حرکت ثابت بماند، اندازه سرعت نیز ثابت می‌ماند.	۱
۲	با توجه به نمودار سرعت - زمان داده شده که مربوط به متحرکی است که بر محور x حرکت می‌کند، در جمله‌های زیر عبارت درست را از درون پرانتز انتخاب کنید و به پاسخ برگ منتقل کنید. الف) در بازه زمانی صفر تا t_1 حرکت متحرک (تندشونده - کندشونده) است. ب) در بازه زمانی t_1 تا t_2 متحرک در (خلاف جهت - جهت) محور x حرکت می‌کند. پ) در بازه زمانی صفر تا t_2 اندازه سرعت متوسط متحرک با تندی متوسط متحرک برابر (است - نیست). ت) اندازه شتاب حرکت در بازه زمانی صفر تا t_1 (بیشتر - کمتر) از شتاب حرکت در بازه زمانی t_1 تا t_2 است.	۱
۳	معادله مکان - زمان دو متحرک در SI به صورت $x_A = 2t - 4$ و $x_B = -3t + 6$ می‌باشد. الف) در چه لحظه‌ای دو متحرک به هم می‌رسند؟ ب) نمودار مکان - زمان آن‌ها را در یک دستگاه مختصات به طور دقیق رسم کنید.	۰/۵ ۰/۵
۴	خودرویی با سرعت 20 m/s در حال حرکت است. وقتی به فاصله $37/5$ متری مانعی می‌رسد، راننده به محض دیدن مانع ترمز می‌گیرد و سرعت خودرو با شتاب ثابت کاهش می‌یابد و با سرعت 10 m/s به مانع برخورد می‌کند. (زمان واکنش راننده ناچیز فرض شود). الف) شتاب خودرو پس از ترمز گرفتن چقدر بوده است؟ ب) اندازه سرعت متوسط خودرو از لحظه ترمز گرفتن تا لحظه برخورد به مانع چقدر است؟	۰/۵ ۰/۵
ادامه سؤالات در صفحه دوم		

ساعات شروع: ۸ صبح	نام و نام خانوادگی:	رشته علوم تجربی	فیزیک ۳
مدت امتحان: ۱۲۰ دقیقه	پایه دوازدهم دوره دوم متوسطه	تعداد صفحات: ۴	تاریخ امتحان: ۱۳/۶/۱۴۰۱
مرکز سنجش و پایش کیفیت آموزشی http://aee.medu.ir	دانش آموزان روزانه، بزرگسال و داوطلبان آزاد سراسر کشور در نوبت شهریور ماه سال ۱۴۰۱		

بارم	سؤالات (پاسخ نامه دارد)	ردیف
۰/۵ ۰/۵ ۰/۵ ۰/۲۵ ۰/۵	<p>به پرسش‌های زیر پاسخ کوتاه بدهید.</p> <p>الف) چرا در ترمزهای ناگهانی، سرنشینان خودرو رو به جلو پرتاب می‌شوند؟</p> <p>ب) در چه شرایطی، چتربازی که در حال سقوط است، به تندی حدی می‌رسد؟</p> <p>پ) دو عامل مؤثر بر ضریب اصطکاک جنبشی را بنویسید.</p> <p>ت) در شکل مقابل، نمودار نیرو بر حسب تغییر طول را برای دو فنر A و B مشاهده می‌کنید. ثابت فنر کدام یک بیشتر است؟</p> <p>ث) نمودار نیروی گرانشی وارد بر یک ماهواره را بر حسب فاصله از سطح زمین به طور کیفی رسم کنید.</p> 	۵
۱	<p>به جسمی به جرم ۲۰ kg، نیروی $F = ۸۰ \text{ N}$ مطابق شکل اثر می‌کند و جسم بر روی سطح افقی به حرکت در می‌آید. اگر ضریب اصطکاک جنبشی بین جسم و سطح ۰/۲ باشد، شتاب حرکت جسم را حساب کنید. ($g = ۱۰ \text{ N/kg}$)</p> 	۶
۱	<p>شکل مقابل نمودار نیروی خالص بر حسب زمان برای جسمی به جرم ۱۰۰ kg که در لحظه $t = ۰ \text{ s}$ بر سطح افقی، در حال سکون است را نشان می‌دهد. جسم پس از اعمال نیرو، روی محور x شروع به حرکت می‌کند. اندازه سرعت آن در لحظه $t = ۶ \text{ s}$ چند متر بر ثانیه است؟</p> 	۷
۰/۵ ۰/۵ ۰/۵	<p>معادله حرکت هماهنگ ساده یک نوسانگر در SI به صورت $x = ۰/۴ \cos ۱۰\pi t$ می‌باشد.</p> <p>الف) بسامد نوسان را حساب کنید.</p> <p>ب) تندی بیشینه نوسانگر را حساب کنید.</p> <p>پ) اگر جرم نوسانگر ۴۰۰ g باشد، انرژی مکانیکی آن را حساب کنید. ($\pi = ۳$)</p>	۸
ادامه سؤالات در صفحه سوم		

ساعات شروع: ۸ صبح	نام و نام خانوادگی:	رشته علوم تجربی	فیزیک ۳
مدت امتحان: ۱۲۰ دقیقه	پایه دوازدهم دوره دوم متوسطه	تعداد صفحات: ۴	تاریخ امتحان: ۱۳/۶/۱۴۰۱
مرکز سنجش و پایش کیفیت آموزشی http://aee.medu.ir	دانش آموزان روزانه، بزرگسال و داوطلبان آزاد سراسر کشور در نوبت شهریور ماه سال ۱۴۰۱		

بارم	سؤالات (پاسخ نامه دارد)	ردیف														
۱	جمله های زیر را با عبارت های مناسب کامل کنید: الف) اگر آونگ ساده ای را از سطح زمین به سطح ماه انتقال دهیم، دوره نوسان آونگ ساده می یابد. ب) به نوسانی که در آن به نوسانگر یک نیروی خارجی متناوب وارد می شود، گفته می شود. پ) شتاب نوسانگر در نقطه تعادل است. ت) بسامد زاویه ای نوسانگر جرم - فنر با جذر نسبت وارون دارد.	۹														
۰/۲۵ ۰/۲۵ ۰/۲۵ ۰/۵	نمودار جابه جایی - مکان دو موج صوتی A و B که در یک محیط منتشر شده اند، به صورت زیر است. با توجه به نمودار به سؤالات پاسخ دهید: الف) طول موج A چند برابر طول موج B است؟ ب) تندی انتشار موج A چند برابر تندی انتشار موج B است؟ پ) دامنه صوت A چند برابر دامنه صوت B است؟ ت) با محاسبه نشان دهید بسامد صوت A چند برابر بسامد صوت B است؟	۱۰														
۱	با توجه به عبارت های ستون اول، از ستون دوم یک عبارت مرتبط با هر کدام از آنها انتخاب کنید. (در ستون دوم دو مورد اضافه است.)	۱۱														
	<table border="1"> <thead> <tr> <th>ستون اول</th> <th>ستون دوم</th> </tr> </thead> <tbody> <tr> <td>الف) موج عرضی</td> <td>(۱) فراصوت</td> </tr> <tr> <td>ب) رادار دوپلری</td> <td>(۲) شکست موج</td> </tr> <tr> <td>پ) سراب</td> <td>(۳) پرتو گاما</td> </tr> <tr> <td>ت) فاصله دو تراکم متوالی موج</td> <td>(۴) بسامد موج</td> </tr> <tr> <td></td> <td>(۵) بازتاب موج</td> </tr> <tr> <td></td> <td>(۶) طول موج</td> </tr> </tbody> </table>	ستون اول	ستون دوم	الف) موج عرضی	(۱) فراصوت	ب) رادار دوپلری	(۲) شکست موج	پ) سراب	(۳) پرتو گاما	ت) فاصله دو تراکم متوالی موج	(۴) بسامد موج		(۵) بازتاب موج		(۶) طول موج	
ستون اول	ستون دوم															
الف) موج عرضی	(۱) فراصوت															
ب) رادار دوپلری	(۲) شکست موج															
پ) سراب	(۳) پرتو گاما															
ت) فاصله دو تراکم متوالی موج	(۴) بسامد موج															
	(۵) بازتاب موج															
	(۶) طول موج															
۰/۵ ۰/۵	الف) با شنیدن هر تن موسیقی، دو ویژگی صوت را می توان از هم متمایز ساخت. این دو ویژگی را نام ببرید. ب) شدت یک صوت 10^{-6} W/m^2 است. تراز شدت این صوت چند دسی بل است؟ ($I_0 = 10^{-12} \text{ W/m}^2$)	۱۲														
۰/۷۵ ۰/۲۵	پرتوی نوری از هوا وارد یک محیط شفاف می شود. اگر زاویه تابش 53° باشد و زاویه شکست در محیط شفاف 37° باشد؛ الف) تندی نور در محیط شفاف چقدر است؟ ($c = 3 \times 10^8 \text{ m/s}$) ب) بسامد نور هنگام عبور از مرز دو محیط چگونه تغییر می کند؟ ($\sin 37^\circ = 0/6$ و $\sin 53^\circ = 0/8$)	۱۳														
	ادامه سؤالات در صفحه چهارم															

سؤالات امتحان نهایی درس: فیزیک ۳		رشته علوم تجربی	نام و نام خانوادگی:	ساعت شروع: ۸ صبح
تاریخ امتحان: ۱۳ / ۶ / ۱۴۰۱		تعداد صفحات: ۴	پایه دوازدهم دوره دوم متوسطه	مدت امتحان: ۱۲۰ دقیقه
دانش آموزان روزانه، بزرگسال و داوطلبان آزاد سراسر کشور در نوبت شهریور ماه سال ۱۴۰۱		مرکز سنجش و پایش کیفیت آموزشی http://aee.medu.ir		
ردیف	سؤالات (پاسخ نامه دارد)			بارم
۱۴	به پرسش‌های زیر پاسخ کوتاه بدهید:			
	الف) بر کلاhek برق‌نمایی با بار منفی یک مرتبه نور فرورسرخ و مرتبه دیگر نور فرابنفش می‌تابانیم. در هر حالت، انحراف ورقه‌های آن چگونه تغییر می‌کند؟	۰/۵		
	ب) آیا افزایش طول موج نور، لزوماً باعث کاهش انرژی هر فوتون آن می‌شود؟ برای پاسخ خود توضیح مناسبی بنویسید.	۰/۵		
	پ) چرا هسته‌ها در واکنش‌های شیمیایی برانگیخته نمی‌شوند؟	۰/۵		
۱۵	انرژی فوتونی 2 eV است.			
	الف) طول موج این پرتو را حساب کنید.	۰/۵		
	ب) تعیین کنید این پرتو در چه ناحیه‌ای از طیف امواج الکترومغناطیسی قرار دارد. ($hc = 1240 \text{ eV} \cdot \text{nm}$)	۰/۲۵		
۱۶	الکترون در اتم هیدروژن، گذاری از تراز $n_U = 4$ به تراز $n_L = 1$ انجام می‌دهد.			
	الف) در این فرایند، اتم فوتون گسیل می‌کند یا جذب می‌کند؟	۰/۲۵		
	ب) انرژی فوتون جذب شده یا گسیل شده، چند الکترون ولت است؟ ($E_R = 13/6 \text{ eV}$)	۰/۷۵		
۱۷	معادله واپاشی‌های زیر را کامل کنید. (به جای نماد هسته ایجاد شده در بخش الف، از γ استفاده کنید).			
	الف) $^{18}_8\text{O} \rightarrow e^+ + \dots$			
	ب) $^{231}_{91}\text{Pa} \rightarrow \dots + ^{227}_{89}\text{Ac}$			
	پ) $^{231}_{90}\text{Th}^* \rightarrow \dots + ^{231}_{90}\text{Th}$			
۱۸	پس از ۱۵ دقیقه، $\frac{7}{8}$ هسته‌های یک نمونه مس پرتوزا به فلز دیگری تبدیل می‌شود. نیمه عمر این نمونه مس چند دقیقه است؟			۱
	موفق و شاد و سربلند باشید			جمع بarm
				۲۰

راهنمای تصحیح امتحان نهایی درس فیزیک ۳	رشته علوم تجربی	پایه دوازدهم دوره دوم متوسطه
تاریخ امتحان: ۱۳/۶/۱۴۰۱	تعداد صفحات: ۳	مدت امتحان: ۱۲۰ دقیقه
دانش آموزان روزانه، بزرگسال و داوطلبان آزاد سراسر کشور در نوبت شهریور ماه سال ۱۴۰۱		مرکز سنجش و پایش کیفیت آموزشی http://aee.medu.ir

ردیف	پاسخها	بارم
۱	الف) ن (ب) د (پ) د (ت) ن هر مورد صحیح ۰/۲۵	۱
۲	الف) تندشونده (ب) جهت (پ) است (ت) کمتر هر مورد صحیح ۰/۲۵	۱
۳	الف) (۰/۲۵) $2t - 4 = -3t + 6 \Rightarrow t = 2s$ (۰/۲۵) ب) (رسم صحیح نمودار ۰/۵) $x_A = x_B$ (۰/۲۵)	۱
		۱۳ ص
۴	الف) (۰/۲۵) $100 - 400 = 2a \times 37/5 \Rightarrow a = -4 \text{ m/s}^2$ (۰/۲۵) ب) $v_{av} = \frac{v+v_0}{2} = \frac{10+20}{2} = 15 \text{ m/s}$ (۰/۲۵)	۱
۵	الف) زیرا اجسام در مقابل تغییر سرعت از خود مقاومت نشان می دهند (لختی). (۰/۵) ب) زمانی که نیروی مقاومت هوا و نیروی وزن وارد بر چتر باز متوازن شوند. (۰/۵) پ) جنس سطح تماس و میزان صافی و زبری سطوح. (۰/۵) ت) A. (۰/۲۵) ث) رسم صحیح نمودار ۰/۵.	۲/۲۵

پایه دوازدهم دوره دوم متوسطه	رشته علوم تجربی	راهنمای تصحیح امتحان نهایی درس فیزیک ۳
مدت امتحان: ۱۲۰ دقیقه	ساعت شروع: ۸ صبح	تعداد صفحات: ۳
مرکز سنجش و پایش کیفیت آموزشی http://aee.medu.ir	تاریخ امتحان: ۱۳ / ۶ / ۱۴۰۱	
دانش آموزان روزانه، بزرگسال و داوطلبان آزاد سراسر کشور در نوبت شهریور ماه سال ۱۴۰۱		

	<p>ص ۲۹ و ۳۵ و ۴۰ و ۴۱ و ۴۸</p>	
۱	$F_N = W = mg = 200 \text{ N} \quad (0/25)$ $f_k = \mu_k F_N = f_k = 0.2 \times 200 = 40 \text{ N} \quad (0/25)$ $F - f_k = ma \quad (0/25) \quad 80 - 40 = 20a \Rightarrow a = 2 \text{ m/s}^2 \quad (0/25)$	۶
۱	$S = \frac{(2+6) \times 100}{2} = 400 \text{ N} \cdot \text{s} \quad (0/25) \quad S = \Delta p \quad (0/25)$ $\Delta p = m\Delta v \quad (0/25) \quad 400 = 100(v - 0) \Rightarrow v = 4 \text{ m/s} \quad (0/25)$	۷
۱/۵	$2\pi f = 10\pi \text{ rad/s} \quad (0/25) \quad f = 5 \text{ Hz} \quad (0/25)$ $v_{max} = A\omega \quad (0/25) \quad v_{max} = 0.4 \times 10 \times 3 = 12 \text{ m/s} \quad (0/25)$ $E = \frac{1}{2} m\omega^2 A^2 \quad (0/25) \quad E = \frac{1}{2} \times 0.4 \times 900 \times 0.16 = 28.8 \text{ J} \quad (0/25)$	الف) ۸ ب) ۱۲ پ) ۲۸.۸
۱	<p>(هر مورد صحیح ۰/۲۵) (ت) جرم وزنه (پ) صفر (ب) نوسان واداشته (الف) افزایش</p> <p>ص ۵۹ و ۶۰ و ۸۹ و ۵۷</p>	۹
۱/۲۵	<p>هر مورد ۰/۲۵</p> $\frac{f_A}{f_B} = \frac{\lambda_B}{\lambda_A} \quad (0/25) \quad \frac{f_A}{f_B} = \frac{2}{1} = 2 \quad (0/25)$	الف) ۱/۳ ب) ۱ پ) ۲ ت) ۲
۱	<p>هر مورد ۰/۲۵</p> <p>ص ۶۸ و ۸۰ و ۸۶ و ۶۹</p>	الف و ۳ ب و ۵ پ و ۲ ت و ۶

راهنمای تصحیح امتحان نهایی درس فیزیک ۳	رشته علوم تجربی	پایه دوازدهم دوره دوم متوسطه
تاریخ امتحان: ۱۳/۶/۱۴۰۱	تعداد صفحات: ۳	مدت امتحان: ۱۲۰ دقیقه
دانش آموزان روزانه، بزرگسال و داوطلبان آزاد سراسر کشور در نوبت شهریور ماه سال ۱۴۰۱		مرکز سنجش و پایش کیفیت آموزشی http://aee.medu.ir

۱	الف) ارتفاع و بلندی. هر کدام ۰/۲۵ ب) $\beta = 10 \log \frac{I}{I_0}$ (۰/۲۵) $\beta = 10 \log \frac{10^{-6}}{10^{-12}} = 60 \text{ dB}$ (۰/۲۵) ص ۷۳ و ۷۴	۱۲
۱	الف) $v_2 = 2 \times 10^8 \text{ m/s}$ (۰/۲۵) $\frac{v_2}{v_1} = \frac{\sin \theta_2}{\sin \theta_1}$ (۰/۲۵) $\frac{v_2}{3 \times 10^8} = \frac{\sin 37}{\sin 53}$ (۰/۲۵) $\frac{v_2}{3 \times 10^8} = \frac{v_2}{3 \times 10^8}$ (۰/۲۵) ب) تغییر نمی کند. ۰/۲۵ ص ۸۲ و ۸۳	۱۳
۱/۵	الف) با تابش نور فرسرخ تغییری در ورقه‌ها ایجاد نمی‌شود، اما با تابش نور فرابنفش، ورقه‌ها به هم می‌چسبند. ۰/۵ ب) خیر. انرژی فوتون با بسامد فوتون متناسب است. مثلاً هنگامی که نور از محیط شفاف به محیط شفاف دیگر می‌رود، بسامد ثابت است، ولی طول موج تغییر می‌کند. ۰/۵ پ) زیرا اختلاف ترازهای انرژی هسته بسیار بیشتر از اختلاف ترازهای انرژی اتم است. ۰/۵ ص ۹۶ و ۹۷ و ۱۱۵	۱۴
۰/۷۵	الف) $E = \frac{hc}{\lambda}$ (۰/۲۵) $2 = \frac{1240}{\lambda} \Rightarrow \lambda = 620 \text{ nm}$ (۰/۲۵) ب) مرئی. ۰/۲۵ ص ۹۸	۱۵
۱	الف) گسیل می‌کند. ۰/۲۵ ب) $E_U - E_L = E_R \left(\frac{1}{n_L} - \frac{1}{n_U} \right)$ (۰/۵) $E_U - E_L = 13/6 \left(\frac{1}{1} - \frac{1}{16} \right) = 12/75 \text{ eV}$ (۰/۲۵) ص ۱۰۵	۱۶
۰/۷۵	الف) ${}_{15}^X$ (۰/۲۵) ب) ${}^4_2\text{He}$ (۰/۲۵) پ) γ (۰/۲۵) ص ۱۰۵	۱۷
۱	$1 - \frac{1}{n^2} = \frac{v}{c}$ (۰/۲۵) $n = 3$ (۰/۲۵) $n = \frac{c}{v}$ (۰/۲۵) $3 = \frac{15}{T_{1/2}} \Rightarrow T_{1/2} = 5 \text{ min}$ (۰/۲۵)	۱۸
۲۰	جمع نمرات	مصححین گرامی، برای پاسخ‌های صحیح دیگر نیز نمره لازم در نظر گرفته شود